

Soek jy 'n fantastiese tutor?

www.teachme2.com/matriek



Vertroulik



basic education

Department:
Basic Education
REPUBLIC OF SOUTH AFRICA

SENIORSERTIFIKAAT-EKSAMEN/ NASIONALE SENIORSERTIFIKAAT-EKSAMEN

WISKUNDIGE GELETTERDHEID V2






ADDENDUM

MEI/JUNIE 2024

Hierdie addendum bestaan uit 7 bladsye met 6 bylaes.

BYLAE A
VRAAG 2.1

TERREINKAART VAN DIE BLOEM-LANDBOUSKOU EN DIE INGANGSHEKKE NA DIE SKOUGROND

SLEUTEL	
P	Polisie
+	Noodhulp
	Openbare parkeerarea
	Perde
	Skape, bokke en varke (kleinvee)
	Beeste
E	Hoofvermaaklikheidsarea
	Die ligging en nommers van die hekke

HEKKE

1 Voertuigingang

2 Hoof- publieke ingang

3 Showgate publieke ingang

4 Devils Fork Factory publieke ingang

5 Vodacom publieke ingang- en voertuigingang

6 Polisiehek (geen ingang)

7 Spoorweg- publieke ingang

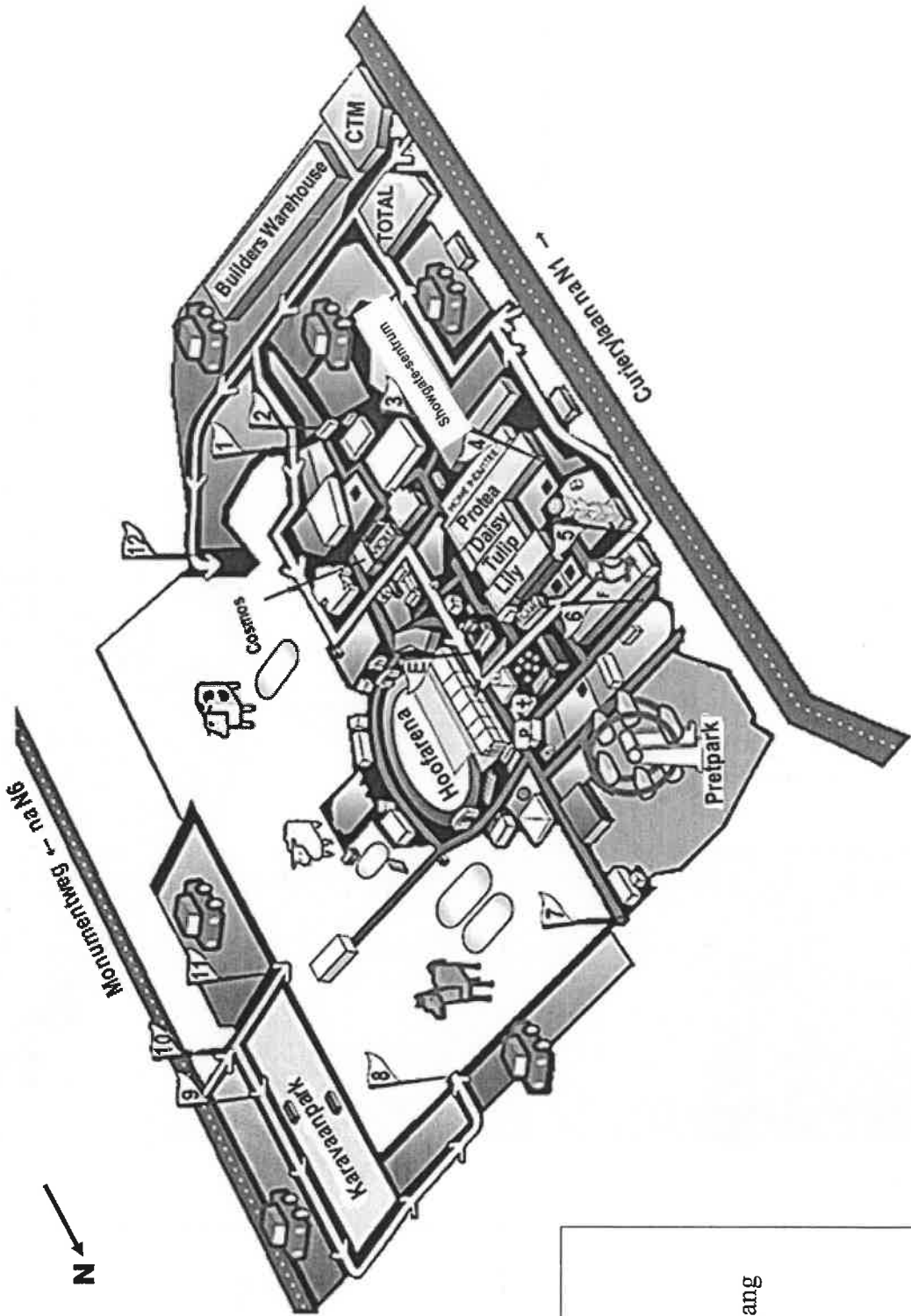
8 Perdevoertuig- en telersingang

9 Karavaanpark en voertuigingang



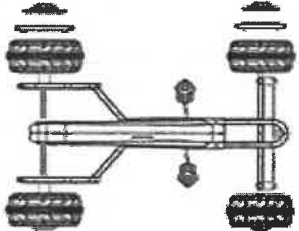


10 Kleinveevoertuig- en telersingang 1

11 Kleinveevoertuig- en telersingang 2

12 Beeste-voertuig- en telersingang



BYLAE B**VRAAG 2.2**

KOLOM A: INSTRUKSIES	KOLOM B: PRENTE
<p>2.2.1 Monteer die wioldoppe Maak die nawe aan die vellings ('hubs to the rims') vas en druk die dekoratiewe dop in die wioldop.</p>	<p>A</p> 
<p>2.2.2 Heg die raamwerktype aan die pedaalmechanisme Heg die raamwerktype aan die pedaalmechanisme en draai dit vas.</p>	<p>B</p> 
<p>2.2.3 Monteer die stuurmechanisme Druk die stuurwielstaaf deur die gat aan die onderkant van die raamwerk en in die middelste gat van die klamp in.</p>	<p>C</p> 
<p>2.2.4 Monteer die voorste paneel en stuurwiel Druk die stuurwiel in die stuurwielstaaf. Maak dit vas en draai dit met 'n sluitmoer vas.</p>	<p>D</p> 
<p>2.2.5 Monteer die sitplek Heg die sitplek aan die raamwerk vas met vier bout, wasters en moere.</p>	<p>E</p> 

[Aangepas uit Kogan-Kids-Pedal-Go-Kart-KAPDGKRTBLA-Manual]

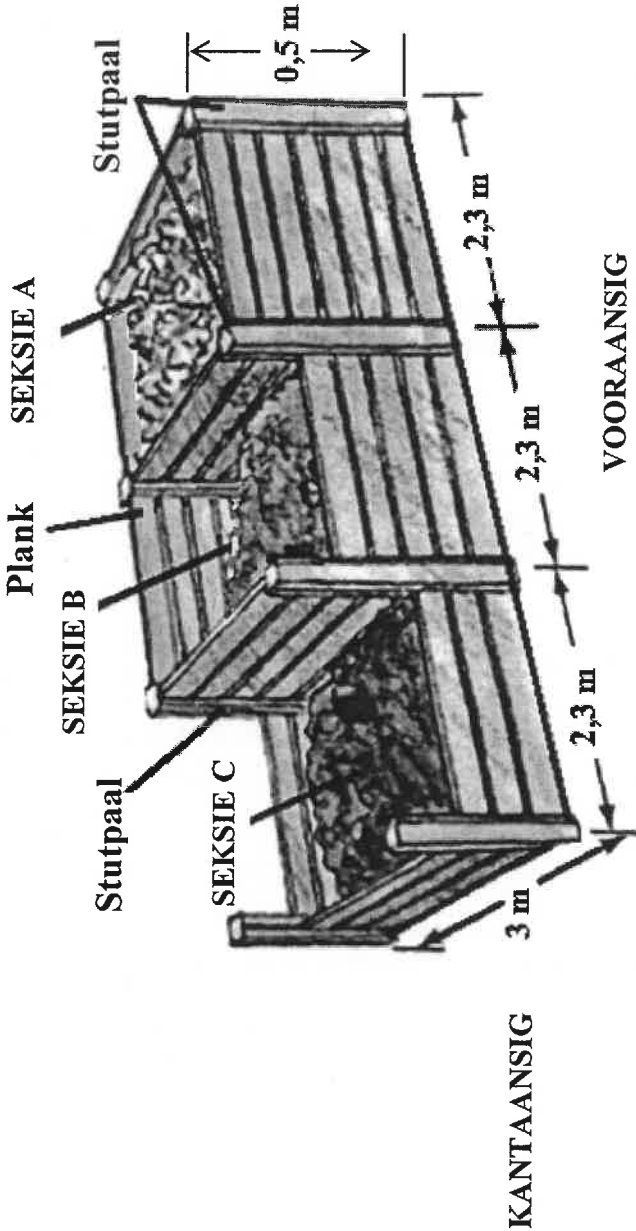
BYLAE C

VRAAG 3.2

EEN VAN DIE VIER
GELYKE AANSIGTE VAN
SEKSIE A



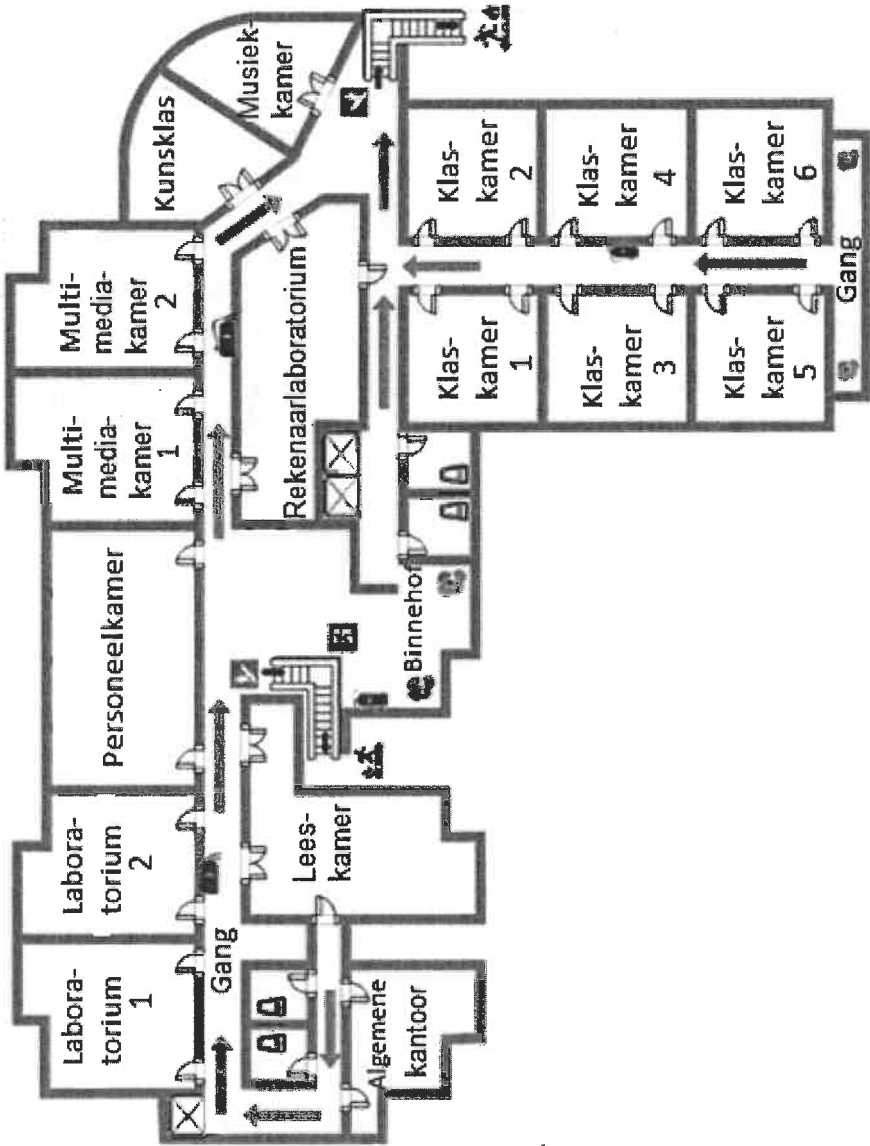
KOMPOSBOKS MET 'N REGHOEKIGE BASIS WAT DRIE SEKSIES (A, B en C) TOON
WAT MET PLANKE VERBIND IS



BYLAE D

VRAAG 4.1

UITLEGPLAN VAN DIE SKOOLGEBOU



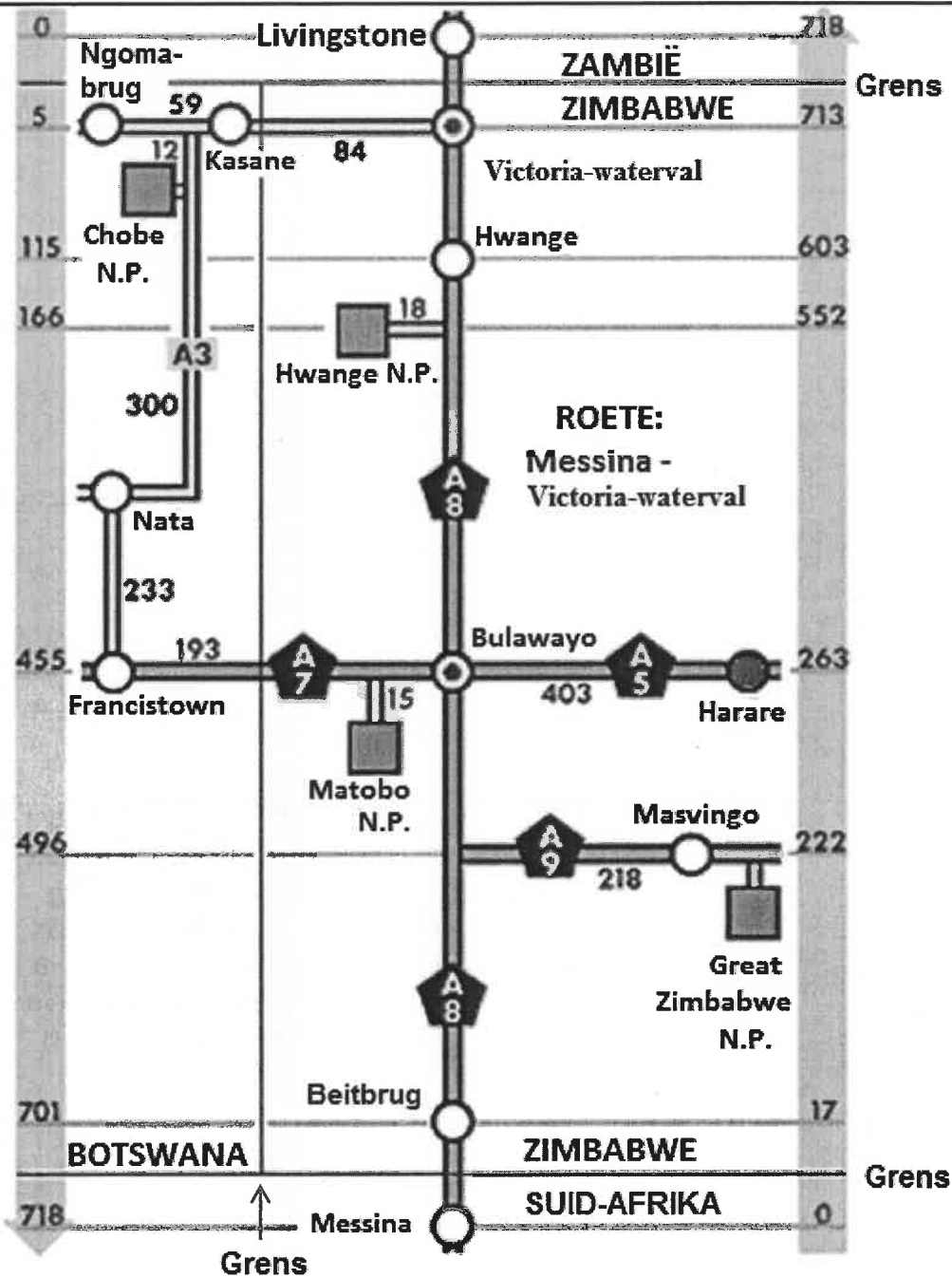
SLEUTEL	
VERDUIDELIKING	SIMBOOL
Deur, enkel	
Deur, dubbel	
Uitgang om in geval van brand te gebruik	
Trappe	
Brandblusser	
Gangrigting om te volg in geval van ontruiming	

[Bron: www.edrawsoft.com/template-school-layout.html]

BYLAE E

VRAAG 4.2

STROOKKAART VAN PAAIE WAT ZAMBIË EN SUID-AFRIKA VERBIND



SLEUTEL:

Nasionale pad	=	SUID-AFRIKA	= Land
Nasionale pad (Botswana)	=	Harare	= Dorp/Stad
Nasionale park (N.P.)	=		

BYLAE F
VRAAG 5.1

UITLEGPLAN VAN DIE GRONDVLAK VAN DIE VIERVERDIEPINGEGBOU WAT TWEE WOONSTELLE TOON

