

Soek jy 'n fantastiese tutor?

www.teachme2.com/matriek





basic education

Department:
Basic Education
REPUBLIC OF SOUTH AFRICA

NASIONALE SENIOR SERTIFIKAAT

GRAAD 12

WISKUNDE V2

NOVEMBER 2021

PUNTE: 150

TYD: 3 uur

Hierdie vraestel bestaan uit 13 bladsye en 1 inligtingsblad.

INSTRUKSIES EN INLIGTING

Lees die volgende instruksies aandagtig deur voordat die vraestel beantwoord word.

1. Hierdie vraestel bestaan uit 11 vrae.
2. Beantwoord AL die vrae in die SPESIALE ANTWOORDEBOEK wat verskaf word.
3. Dui ALLE berekeninge, diagramme, grafieke, ens. wat jy in die beantwoording van die vrae gebruik, duidelik aan.
4. Slegs antwoorde sal NIE noodwendig volpunte verdien NIE.
5. Jy kan 'n goedgekeurde wetenskaplike sakrekenaar gebruik (nieprogrammeerbaar en niegrafies), tensy anders vermeld.
6. Indien nodig, rond antwoorde tot TWEE desimale plekke af, tensy anders vermeld.
7. Diagramme is NIE noodwendig volgens skaal geteken NIE.
8. 'n Inligtingsblad met formules is aan die einde van die vraestel ingesluit.
9. Skryf netjies en leesbaar.

VRAAG 1

'n Bakkerij teken die aantal brode aan wat 'n snoepwinkel daaglik oor die laaste 18 dae bestel het. Die inligting word in die tabel hieronder aangetoon.

10	11	13	14	14	15	16	18	18
19	19	20	21	35	35	37	40	41

1.1 Bereken die:

1.1.1 Gemiddelde aantal brode wat per dag bestel is (2)


1.1.2 Standaardafwyking van die data (1)

1.1.3 Aantal dae waarop die aantal brode wat bestel is een standaardafwyking bokant die gemiddelde was (2)

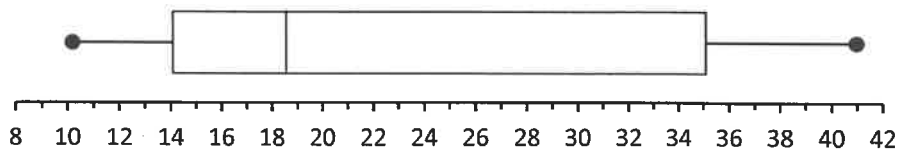
1.2 Die eienaar van die snoepwinkel kon nie al die brode verkoop wat daaglik afgelewer is nie. Hy het bereken dat die gemiddelde aantal brode wat oor die 18 dae verkoop is, 20 is. Bereken die aantal brode wat NIE oor die 18 dae verkoop is NIE. (2)

1.3 Een van die twee mond-en-snordigramme hieronder geteken, verteenwoordig die data gegee in die tabel hierbo.

Grafiek A:



Grafiek B:



1.3.1 Watter EEN van die twee mond-en-snordigramme hierbo geteken, is die korrekte verteenwoordiging van die data? Skryf 'n rede vir jou antwoord neer. (2)

1.3.2 Beskryf die skeefheid van die data. (1)

[10]

VRAAG 2

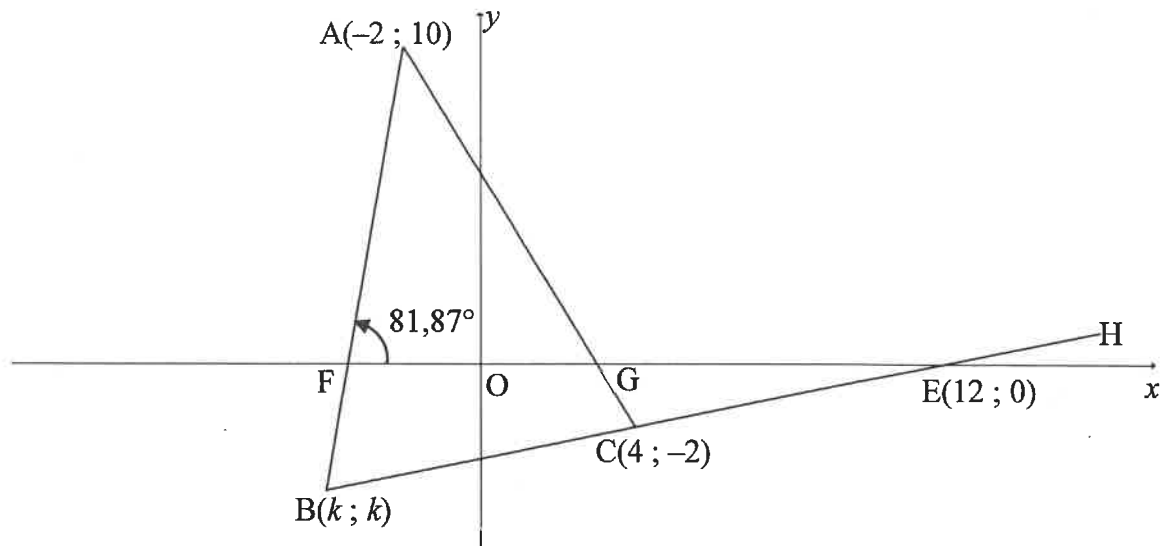
'n Padstal verkoop melk in 5 liter-houers aan die plaaslike gemeenskap. Die prys wissel volgens die beskikbaarheid van melk by die padstal. Die prys van melk, in rand per 5 liter-houer, en die aantal 5 liter-houers melk verkoop, word in die tabel hieronder aangeteken.

Prys van melk in rand per 5 liter-houer (x)	26	32	36	28	40	33	29	34	27	30
Aantal 5 liter- houers melk verkoop (y)	48	30	26	44	23	32	39	29	42	33

- 2.1 Op die rooster wat in die ANTWOORDEBOEK verskaf word, teken die spreidiagram om die data te verteenwoordig. (3)
- 2.2 Bepaal die vergelyking van die kleinstekwadrade-regressielyn vir die data. (3)
- 2.3 Indien die boer 'n 5 liter-houer melk vir R38 verkoop, voorspel die aantal 5 liter-houers melk wat hy sal verkoop. (2)
- 2.4 Verwys na die korrelasie tussen die prys van 5 liter-houers melk en die aantal 5 liter-houers melk verkoop, en lewer kommentaar op die akkuraatheid van jou antwoord op VRAAG 2.3. (2)
- [10]**

VRAAG 3

In die diagram is $A(-2; 10)$, $B(k; k)$ en $C(4; -2)$ die hoekpunte van $\triangle ABC$. Lyn BC word verleng na H en sny die x-as by $E(12; 0)$. AB en AC sny die x-as by F en G onderskeidelik. Die inklinasiehoek van lyn AB is $81,87^\circ$.

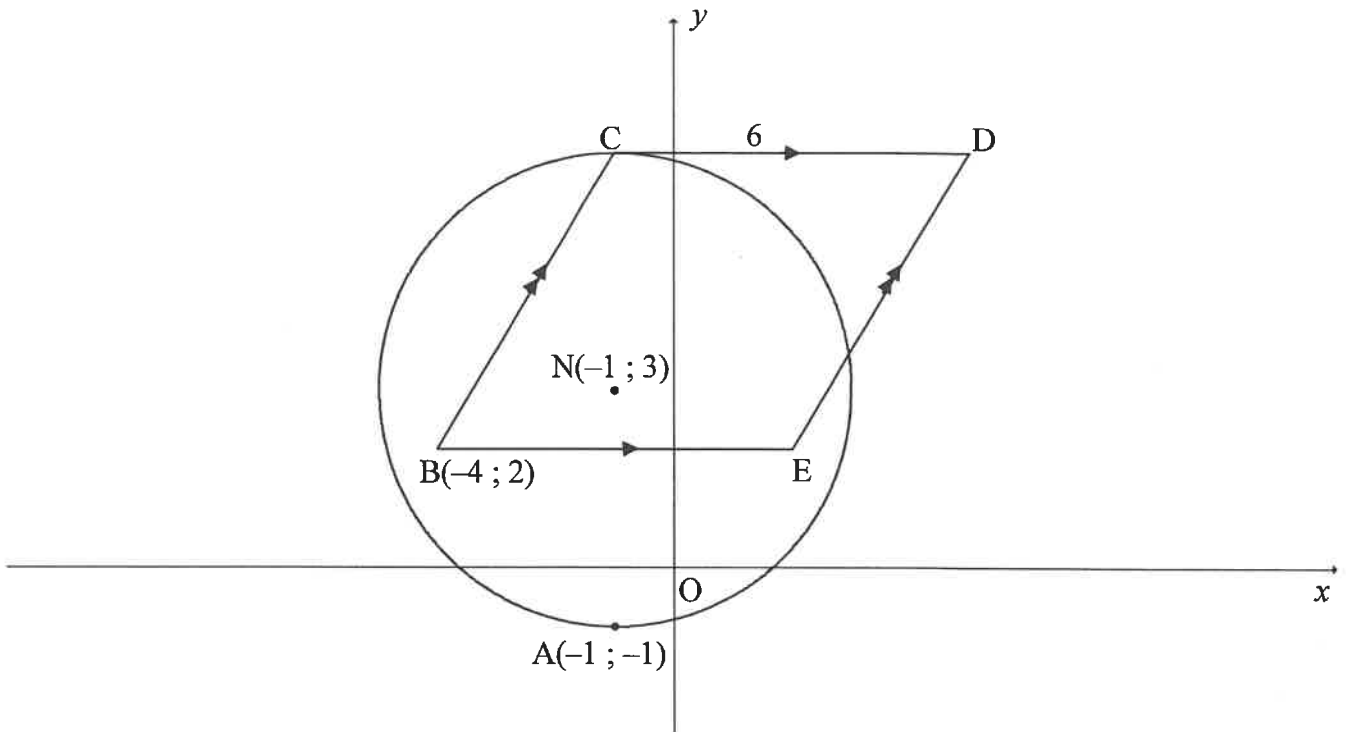


- 3.1 Bereken die gradiënt van:
- 3.1.1 BE (2)
- 3.1.2 AB (2)
- 3.2 Bepaal die vergelyking van BE in die vorm $y = mx + c$ (2)
- 3.3 Bereken die:
- 3.3.1 Koördinate van B, waar $k < 0$ (2)
- 3.3.2 Grootte van \hat{A} (4)
- 3.3.3 Koördinate van die snypunt van die hoeklyne van parallellogram ACES, waar S 'n punt in die eerste kwadrant is (2)
- 3.4 Nog 'n punt $T(p; p)$, waar $p > 0$, word gestip sodat $ET = BE = 4\sqrt{17}$ eenhede.
- 3.4.1 Bereken die koördinate van T. (5)
- 3.4.2 Bepaal die vergelyking van die:
- (a) Sirkel met middelpunt E wat deur punte B en T gaan in die vorm $(x - a)^2 + (y - b)^2 = r^2$ (2)
- (b) Raaklyn aan die sirkel by punt $B(k; k)$ (3)

[24]

VRAAG 4

In die diagram gaan die sirkel, met middelpunt $N(-1; 3)$, deur $A(-1; -1)$ en C . $B(-4; 2)$, C , D en E word verbind om 'n parallelogram te vorm sodat BE ewewydig aan die x -as is. CD is 'n raaklyn aan die sirkel by C en $CD = 6$ eenhede.



- 4.1 Skryf die lengte van die radius van die sirkel neer. (1)
- 4.2 Bereken die:
- 4.2.1 Koördinate van C (2)
- 4.2.2 Koördinate van D (2)
- 4.2.3 Oppervlakte van $\triangle BCD$ (3)
- 4.3 Die sirkel, met middelpunt N , word om die lyn $y = x$ gereflekteer. M is die middelpunt van die nuwe sirkel wat gevorm word. Die twee sirkels sny mekaar by A en F .
- Bereken die:
- 4.3.1 Lengte van NM (3)
- 4.3.2 Middelpunt van AF (4)

[15]

VRAAG 5

- 5.1 Vereenvoudig, **sonder om 'n sakrekenaar te gebruik**, die volgende uitdrukking tot 'n ENKELE trigonometriese verhouding:

$$\frac{\sin 140^\circ \cdot \sin(360^\circ - x)}{\cos 50^\circ \cdot \tan(-x)} \quad (6)$$

- 5.2 Bewys die identiteit: $\frac{-2\sin^2 x + \cos x + 1}{1 - \cos(540^\circ - x)} = 2\cos x - 1$ (4)

- 5.3 Gegee: $\sin 36^\circ = \sqrt{1 - p^2}$

Bepaal, **sonder om 'n sakrekenaar te gebruik**, ELK van die volgende in terme van p :

5.3.1 $\tan 36^\circ$ (3)

5.3.2 $\cos 108^\circ$ (4)
[17]

VRAAG 6

- 6.1 Gegee: $\cos(\alpha - \beta) = \cos \alpha \cos \beta + \sin \alpha \sin \beta$

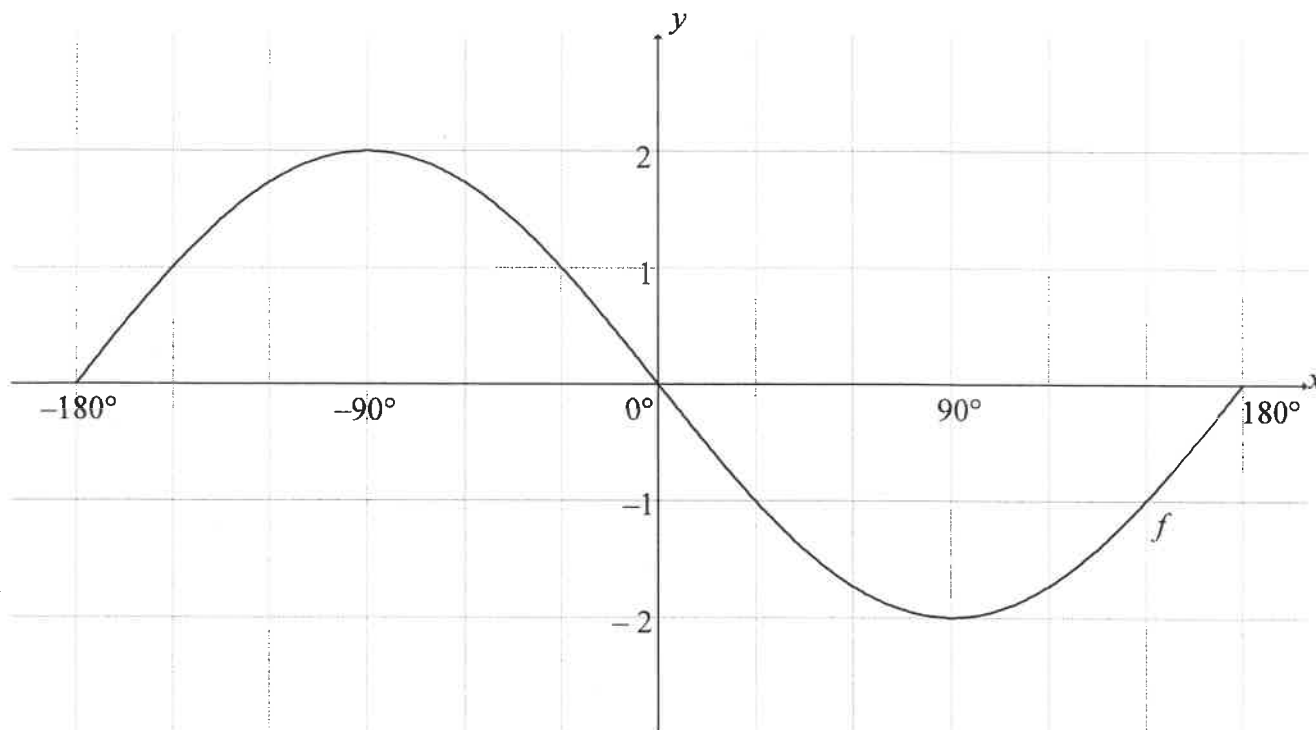
6.1.1 Gebruik die identiteit gegee om 'n formule vir $\cos(\alpha + \beta)$ af te lei. (3)

6.1.2 Vereenvoudig volledig: $2\cos 6x \cos 4x - \cos 10x + 2\sin^2 x$ (5)

- 6.2 Bepaal die algemene oplossing van $\tan x = 2\sin 2x$, waar $\cos x < 0$. (7)
[15]

VRAAG 7

In die diagram hieronder is die grafiek van $f(x) = -2\sin x$ vir die interval $x \in [-180^\circ; 180^\circ]$ geskets.

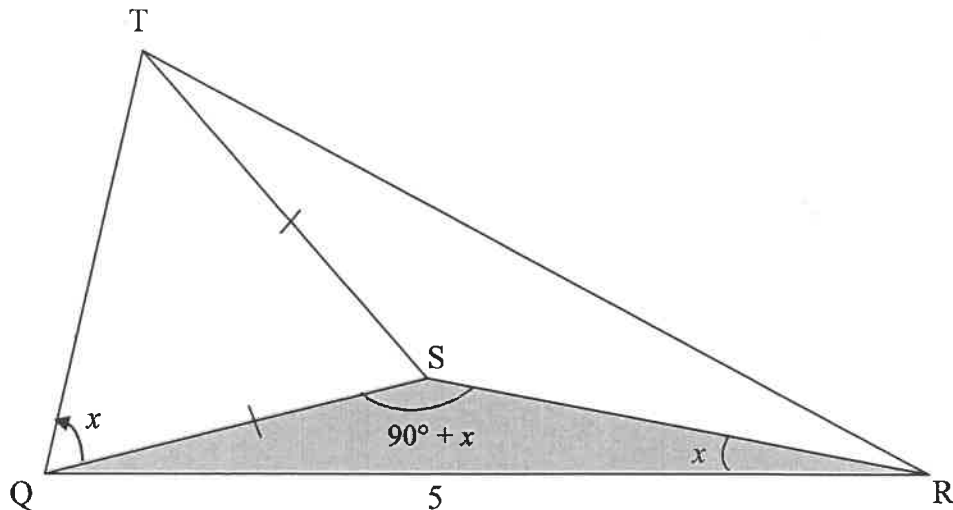


- 7.1 Op die rooster wat in die ANTWOORDEBOEK verskaf word, skets die grafiek van $g(x) = \cos(x - 60^\circ)$ vir $x \in [-180^\circ; 180^\circ]$. Toon duidelik ALLE afsnitte met die asse en die draaipunte van die grafiek aan. (3)
- 7.2 Skryf die periode van $f(3x)$ neer. (2)
- 7.3 **Gebruik die grafieke** om die waarde van x in die interval $x \in [-180^\circ; 180^\circ]$ te bepaal waarvoor $f(x) - g(x) = 1$. (1)
- 7.4 Skryf die waardeversameling van k neer, indien $k(x) = \frac{1}{2}g(x) + 1$. (2)
- [8]**

VRAAG 8

In die diagram hieronder is T 'n haak in die plafon van 'n kunsgalery. Q , S en R is punte op dieselfde horisontale vlak waarvandaan drie persone na die haak T kyk. Die hoogtehoek vanaf Q na T is x .

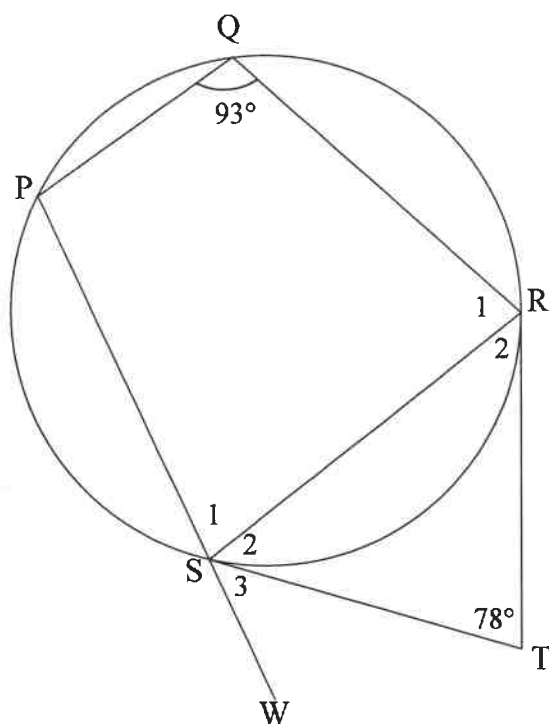
$\hat{QSR} = 90^\circ + x$, $\hat{QRS} = x$, $QR = 5$ eenhede en $TS = SQ$.



- 8.1 Bewys dat $QS = 5 \tan x$ (3)
- 8.2 Bewys dat die lengte van $QT = 10 \sin x$ (5)
- 8.3 Bereken die oppervlakte van $\triangle TQR$ as $\hat{TQR} = 70^\circ$ en $x = 25^\circ$. (2)
- [10]**

VRAAG 9

In die diagram is PQRS 'n koordevierhoek. PS word verleng na W. TR en TS is raaklyne aan die sirkel by R en S onderskeidelik. $\hat{T} = 78^\circ$ en $\hat{Q} = 93^\circ$.



9.1 Gee 'n rede waarom $ST = TR$. (1)

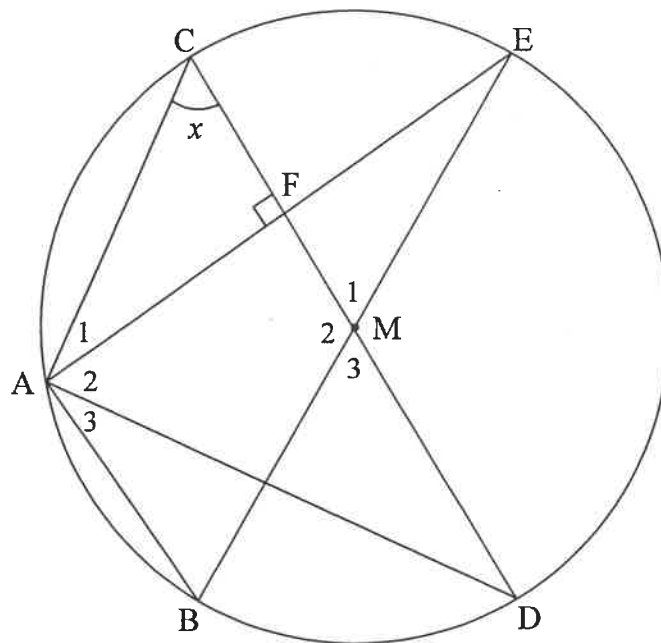
9.2 Bereken, met redes, die grootte van:

9.2.1 \hat{S}_2 (2)

9.2.2 \hat{S}_3 (2)
[5]

VRAAG 10

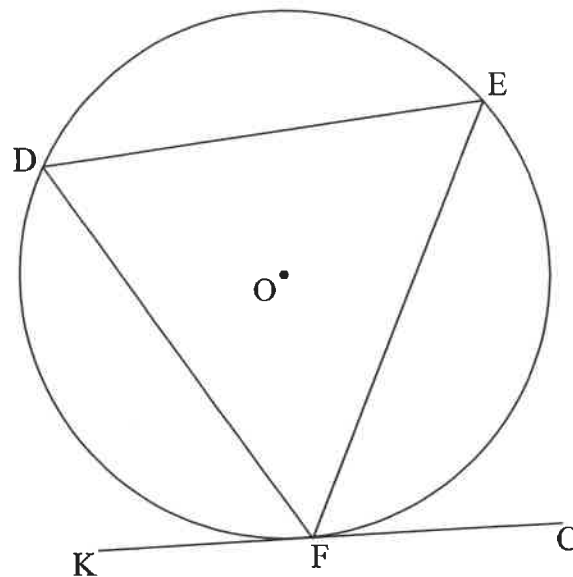
In die diagram is BE en CD middellyne van 'n sirkel met middelpunt M . Koord AE word getrek om CD by F te sny. $AE \perp CD$. Laat $\hat{C} = x$.



- 10.1 Gee 'n rede waarom $AF = FE$. (1)
 - 10.2 Bepaal, met redes, die grootte van \hat{M}_1 in terme van x . (3)
 - 10.3 Bewys, met redes, dat AD 'n raaklyn aan die sirkel is wat deur A , C en F gaan. (4)
 - 10.4 Indien dit gegee word dat $CF = 6$ eenhede en $AB = 24$ eenhede, bereken, met redes, die lengte van AE . (5)
- [13]

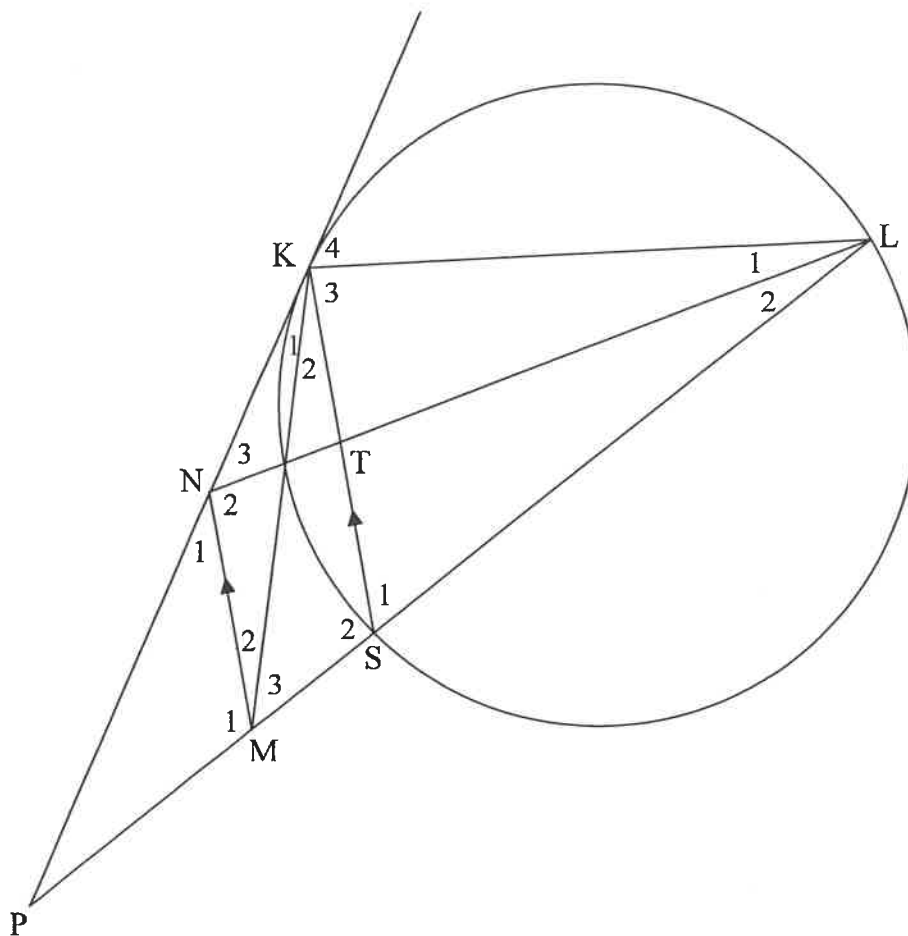
VRAAG 11

- 11.1 In die diagram is DE, EF en DF koorde in die sirkel met middelpunt O. KFC is 'n raaklyn aan die sirkel by F.



Bewys die stelling wat beweer dat $\hat{DFK} = \hat{E}$. (5)

- 11.2 In die diagram is PK 'n raaklyn aan die sirkel by K. Koord LS is verleng na P. N en M is punte op KP en SP onderskeidelik sodanig dat $MN \parallel SK$. Koord KS en LN sny mekaar by T.



11.2.1 Bewys, met redes, dat:

(a) $\hat{K}_4 = \hat{NML}$ (4)

b) KLMN 'n koordevierhoek is (1)

11.2.2 Bewys, met redes, dat $\triangle LKN \parallel \triangle KSM$. (5)

11.2.3 As $LK = 12$ eenhede en $3KN = 4SM$, bepaal die lengte van KS. (4)

11.2.4 As verder gegee word dat $NL = 16$ eenhede, $LS = 13$ eenhede en $KN = 8$ eenhede, bepaal, met redes, die lengte van LT. (4)
[23]

TOTAAL: 150

INLIGTINGSBLAD: WISKUNDE

$$x = \frac{-b \pm \sqrt{b^2 - 4ac}}{2a}$$

$$A = P(1 + ni)$$

$$A = P(1 - ni)$$

$$A = P(1 - i)^n$$

$$A = P(1 + i)^n$$

$$T_n = a + (n - 1)d$$

$$S_n = \frac{n}{2} [2a + (n - 1)d]$$

$$T_n = ar^{n-1}$$

$$S_n = \frac{a(r^n - 1)}{r - 1}; r \neq 1$$

$$S_\infty = \frac{a}{1 - r}; -1 < r < 1$$

$$F = \frac{x[(1 + i)^n - 1]}{i}$$

$$P = \frac{x[1 - (1 + i)^{-n}]}{i}$$

$$f'(x) = \lim_{h \rightarrow 0} \frac{f(x + h) - f(x)}{h}$$

$$d = \sqrt{(x_2 - x_1)^2 + (y_2 - y_1)^2}$$

$$M\left(\frac{x_1 + x_2}{2}; \frac{y_1 + y_2}{2}\right)$$

$$y = mx + c$$

$$y - y_1 = m(x - x_1)$$

$$m = \frac{y_2 - y_1}{x_2 - x_1}$$

$$m = \tan \theta$$

$$(x - a)^2 + (y - b)^2 = r^2$$

In $\triangle ABC$:

$$\frac{a}{\sin A} = \frac{b}{\sin B} = \frac{c}{\sin C}$$

$$a^2 = b^2 + c^2 - 2bc \cos A$$

$$\text{area } \triangle ABC = \frac{1}{2} ab \sin C$$

$$\sin(\alpha + \beta) = \sin \alpha \cos \beta + \cos \alpha \sin \beta$$

$$\sin(\alpha - \beta) = \sin \alpha \cos \beta - \cos \alpha \sin \beta$$

$$\cos(\alpha + \beta) = \cos \alpha \cos \beta - \sin \alpha \sin \beta$$

$$\cos(\alpha - \beta) = \cos \alpha \cos \beta + \sin \alpha \sin \beta$$

$$\cos 2\alpha = \begin{cases} \cos^2 \alpha - \sin^2 \alpha \\ 1 - 2\sin^2 \alpha \\ 2\cos^2 \alpha - 1 \end{cases}$$

$$\sin 2\alpha = 2 \sin \alpha \cos \alpha$$

$$\bar{x} = \frac{\sum x}{n}$$

$$\sigma^2 = \frac{\sum_{i=1}^n (x_i - \bar{x})^2}{n}$$

$$P(A) = \frac{n(A)}{n(S)}$$

$$P(A \text{ of } B) = P(A) + P(B) \quad P(A \text{ en } B)$$

$$\hat{y} = a + bx$$

$$b = \frac{\sum (x - \bar{x})(y - \bar{y})}{\sum (x - \bar{x})^2}$$