

# Soek jy 'n fantastiese tutor?

[www.teachme2.com/matriek](http://www.teachme2.com/matriek)





# basic education

Department:  
Basic Education  
**REPUBLIC OF SOUTH AFRICA**

## **SENIORSERTIFIKAAT-EKSAMEN/ NASIONALE SENIORSERTIFIKAAT-EKSAMEN**

**ELEKTRIESE TEGNOLOGIE: DIGITALE ELEKTRONIKA**

**2023**

**PUNTE: 200**

**TYD: 3 uur**

**Hierdie vraestel bestaan uit 16 bladsye, 'n 1 bladsy-formuleblad en  
'n 8 bladsy-antwoordblad.**

## INSTRUKSIES EN INLIGTING

1. Hierdie vraestel bestaan uit SES vrae.
2. Beantwoord AL die vrae.
3. Beantwoord die volgende vrae op die aangehegte ANTWOORDBLAAIE:  
  
VRAAG 3.3.6, 3.4.3 en 3.6.1  
VRAAG 5.2.1, 5.2.2, 5.4.1, 5.4.3, 5.6.2 en 5.7  
VRAAG 6.9
4. Skryf jou sentrumnommer en eksamennommer op elke ANTWOORDBLAD en lewer dit saam met jou ANTWOORDEBOEK in, al het jy dit nie gebruik nie.
5. Sketse en diagramme moet groot, netjies en VOLLEDIG BENOEM wees.
6. Toon ALLE berekeninge en rond antwoorde korrek tot TWEE desimale plekke af.
7. Nommer die antwoorde korrek volgens die nommeringstelsel wat in hierdie vraestel gebruik is.
8. Jy mag 'n nieprogrammeerbare sakrekenaar gebruik.
9. Berekeninge moet die volgende insluit:
  - 9.1 Formules en manipulasies waar nodig
  - 9.2 Korrekte vervanging van waardes
  - 9.3 Korrekte antwoord en relevante eenhede waar van toepassing
10. 'n Formuleblad is aan die einde van hierdie vraestel aangeheg.
11. Skryf netjies en leesbaar.

**VRAAG 1: MEERVOUDIGEKEUSE-VRAE**

Verskeie opsies word as moontlike antwoorde op die volgende vrae gegee. Kies die antwoord en skryf slegs die letter (A–D) langs die vraagnommers (1.1 tot 1.15) in die ANTWOORDEBOEK neer, bv. 1.16 D.

- 1.1 'n Kritieke insident veroorsaak dat ...
- A toerusting beskadig word. Eksterne herstelwerkdienste word benodig.
  - B 'n persoon 'n skielike en ernstige fisiese besering opdoen. Eksterne mediese dienste word benodig.
  - C 'n persoon 'n fisiese besering opdoen. Eksterne mediese dienste word nie benodig nie.
  - D 'n persoon 'n geestelike steurnis opdoen. Rus word benodig om te herstel. (1)
- 1.2 Die werking van 'n Schmitt-snelter kan die beste deur ... beskryf word.
- A histerese
  - B negatiewe terugvoer
  - C oopluswins
  - D verswakking (1)
- 1.3 Die ... is die enigste op-versterkertoepassing wat 'n 'ooplus'-verbinding gebruik om sy volle wins van  $\pm 100\,000$  in werking te stel.
- A sommeer-versterker
  - B integreerder
  - C vergelyker
  - D differensieerder (1)
- 1.4 Die ... bepaal die vorm van die uitset in 'n op-versterker-integreerderkring.
- A insetkapasitor
  - B terugvoerweerstand
  - C insetspanning
  - D RC-tydkonstante (1)
- 1.5 Wanneer 'n vierkantsgolf by die inset van 'n passiewe RC-differensieerder met 'n kort tydkonstante ingevoer word, sal die uitset 'n ... wees.
- A sinusgolf met  $90^\circ$ -faseverskuiwing
  - B piek met 'n vinnige styging en stadige daling
  - C vierkantsgolf met  $180^\circ$ -faseverskuiwing
  - D driehoekgolf (1)

- 1.6 EEN van die eienskappe van 'n ideale op-versterker is dat die insetimpedansie ... is.
- A uitsonderlik hoog
  - B nul
  - C uitsonderlik laag
  - D middelmatig
- (1)
- 1.7 Wanneer negatiewe terugvoer in 'n op-versterkerkring gebruik word, sal die totale wins ...
- A toeneem.
  - B onveranderd bly.
  - C afneem.
  - D oneindig wees.
- (1)
- 1.8 Wanneer die anodes van al agt LED's saam aan 'n enkele positiewe spanningspoor verbind is, word dit 'n gemeenskaplike ... genoem.
- A katode
  - B anode
  - C vertoon
  - D neutraal
- (1)
- 1.9 'n Kombinasielogikakring wat 'n EN-hek met 'n eksklusiewe OF-hek kombineer, word 'n ... genoem.
- A volopteller
  - B parallelle opteller
  - C halfopteller
  - D binêre opteller
- (1)
- 1.10 'n Geklokte RS-wipkring is in die hersteltoestand wanneer ...
- A  $S = 1, R = 1$
  - B  $S = 1, R = 0$
  - C  $S = 0, R = 1$
  - D  $S = 0, R = 0$
- (1)
- 1.11 Die proses waar die tydreëlsein effens deur elke wipkring vertraag word, staan as ... bekend.
- A transmissievertraging
  - B voortplantingsvertraging
  - C beurtsvertraging
  - D prosesseringsvertraging
- (1)

- 1.12 'n Register waar al vier databisse gelyktydig in die register gelaai word, maar wanneer dit gestoor word, skuif dit een bis op 'n slag uit die register, staan as 'n ...-register bekend.
- A parallel-in: parallel-uit  
 B serie-in: serie-uit  
 C parallel-in: serie-uit  
 D serie-in: parallel-uit (1)
- 1.13 Die term LAG ('ROM') beteken ... met verwysing na mikrobeheerders.
- A leesalleengeheue  
 B leesuitset-geheue  
 C leesaanvang-geheue  
 D lukraak-alleen-geheue (1)
- 1.14 Die term 'SPI' staan vir ...
- A serierandkoppelvlak.  
 B standaard parallelle koppelvlak.  
 C seriepaadjiekoppelvlak.  
 D standaardprosessorkoppelvlak. (1)
- 1.15 Die proses wat toelaat dat 'n taak herhaaldelik gedoen word, staan as ... bekend.
- A ontfouting  
 B datavloeielyne  
 C lussing  
 D 'n vloiediagram (1)

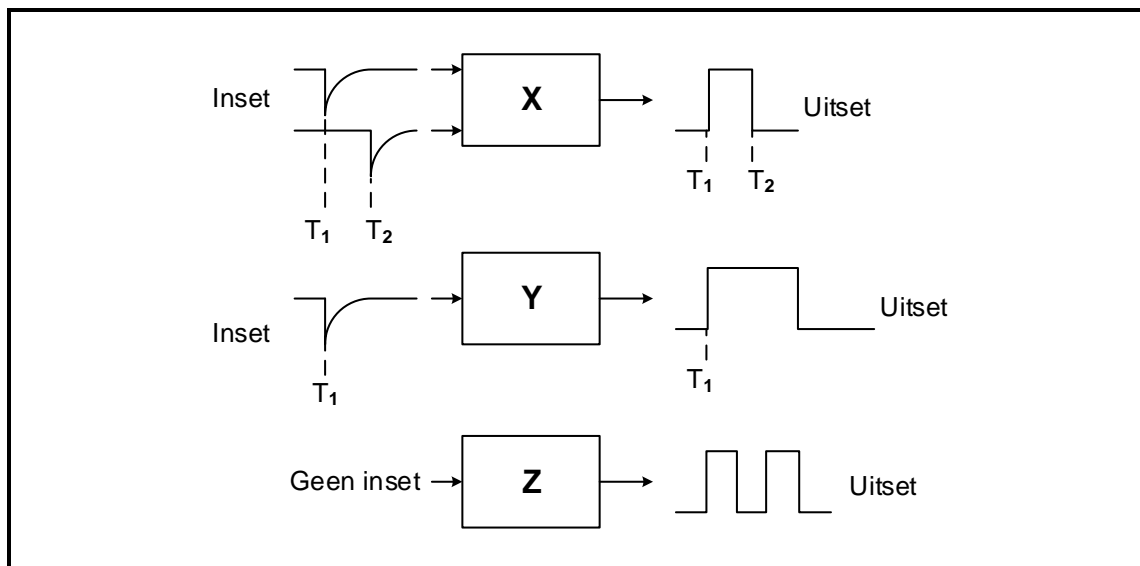
**[15]****VRAAG 2: BEROEPSGESONDHEID EN VEILIGHEID**

- 2.1 Noem die doel van die Wet op Beroepsgesondheid en Veiligheid, 1993 (Wet 85 van 1993). (3)
- 2.2 Verduidelik hoe 'n *onveilige handeling* die produksietempo in die werkplek kan verminder. (2)
- 2.3 Verduidelik die term *hoë aanslag; lae moontlikheid* met verwysing na risiko-analise. (2)
- 2.4 Noem TWEE prosedures wat aanbeveel word om bloeding in 'n noodgeval te stop. (2)
- 2.5 Noem EEN prosedure wat vir persoonlike beskerming gevolg moet word wanneer die prosedures in VRAAG 2.4 genoem, toegepas word. (1)

**[10]**

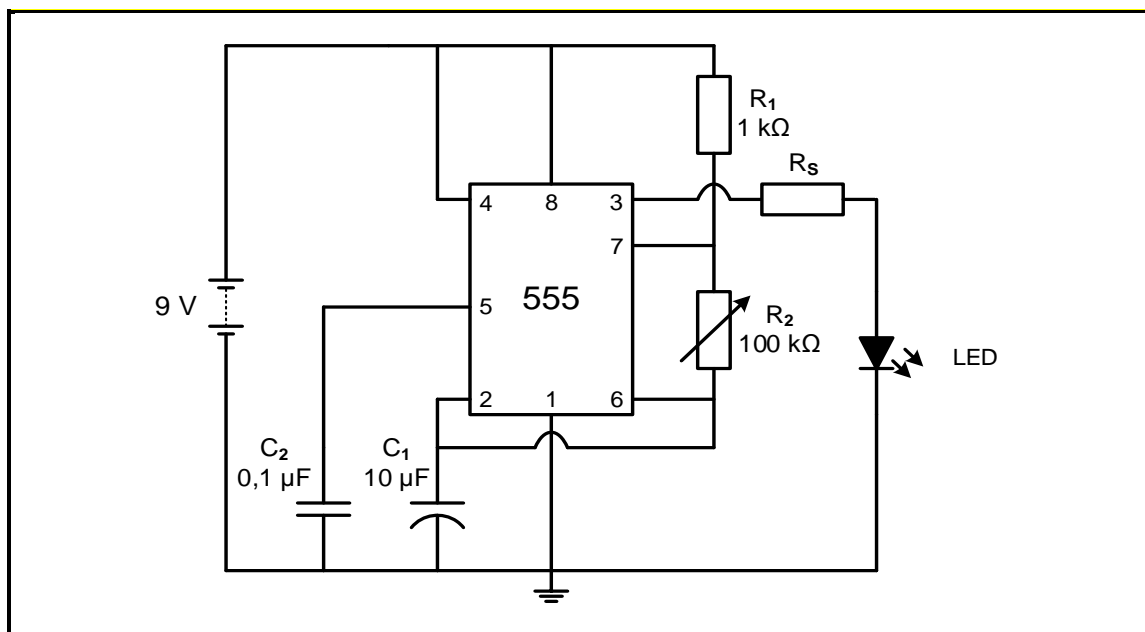
**VRAAG 3: SKAKELKRINGE**

- 3.1 FIGUUR 3.1 hieronder toon blokdigramme met verskillende inset- en uitsettoestande vir drie tipes multivibrators. Identifiseer die multivibrator in elk van die volgende blokke:

**FIGUUR 3.1: BLOKDIAGRAMME VAN MULTIVIBRATORS**

- |       |        |     |
|-------|--------|-----|
| 3.1.1 | Blok X | (1) |
| 3.1.2 | Blok Y | (1) |
| 3.1.3 | Blok Z | (1) |

3.2 FIGUUR 3.2 hieronder toon 'n multivibratorkring. Beantwoord die vrae wat volg.



**FIGUUR 3.2: MULTIVIBRATOR-KRING**

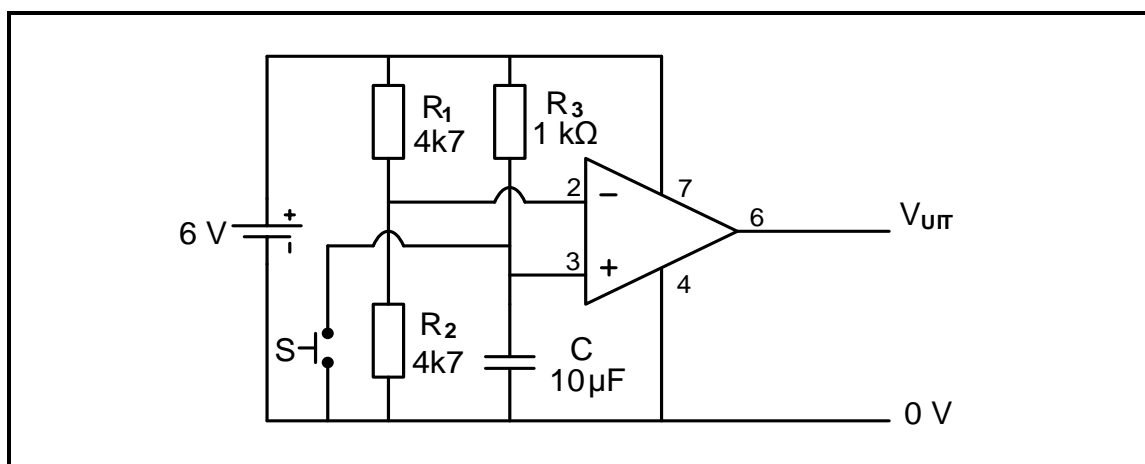
3.2.1 Noem die doel van die verstelbare weerstand  $R_2$ . (2)

3.2.2 Verduidelik wat die uitwerking op die LED sal wees as dit direk aan pen 3, sonder weerstand  $R_s$ , verbind word. (3)

3.2.3 Verduidelik die werking van die kring. (4)

3.2.4 Noem die ontladingsweg van kapasitor  $C_1$ . (1)

3.3 FIGUUR 3.3 hieronder toon 'n monostabiele multivibratorkring wat 'n 741-op-versterker gebruik. Die kapasitor is volgelaai deur weerstand  $R_3$ . Beantwoord die vrae wat volg.

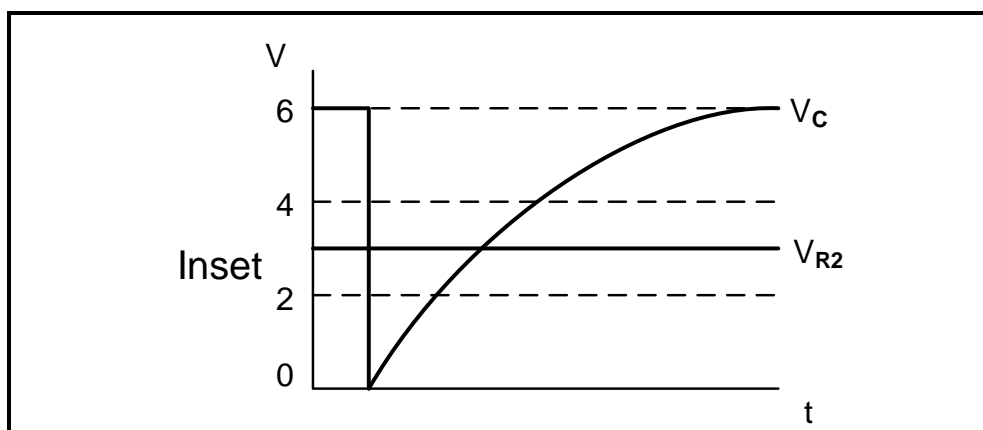


**FIGUUR 3.3: MONOSTABIELE MULTIVIBRATORKRING**

3.3.1 Bepaal die spanning by pen 2 (omkeer-inset) van die op-versterker. (2)



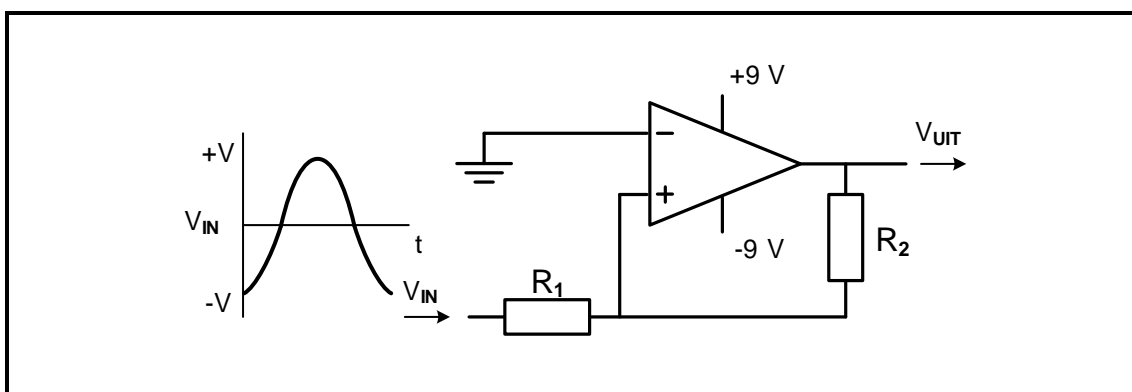
- 3.3.2 Bepaal die spanning by pen 3 (nie-omkeer-inset) wanneer die skakelaar oop is. (1)
- 3.3.3 Noem of die uitset hoog (6 V) of laag (0 V) is wanneer die skakelaar oop is. Motiveer jou antwoord. (2)
- 3.3.4 Bepaal die spanning by pen 3 (nie-omkeer-inset) wanneer die skakelaar gedruk word. Motiveer jou antwoord. (2)
- 3.3.5 Beskryf die werking van die kring met verwysing na die spannings op die twee insetterminale en die uitset van die op-versterker wanneer die skakelaar gedruk word. (5)
- 3.3.6 Verwys na FIGUUR 3.3.6 hieronder en teken die uitsetgolfvorm op die ANTWOORDBLAD vir VRAAG 3.3.6.



FIGUUR 3.3.6

(3)

- 3.4 FIGUUR 3.4 hieronder toon 'n nie-omkeer-Schmitt-sneller. Beantwoord die vrae wat volg.



FIGUUR 3.4: NIE-OMKEER-SCHMITT-SNELLER

- 3.4.1 Bepaal die spanning waarby die kring sal sneller. Motiveer jou antwoord. (2)
- 3.4.2 Noem TWEE gebruike van 'n Schmitt-sneller. (2)
- 3.4.3 Teken die uitsetsein op die ANTWOORDBLAD vir VRAAG 3.4.3. (4)

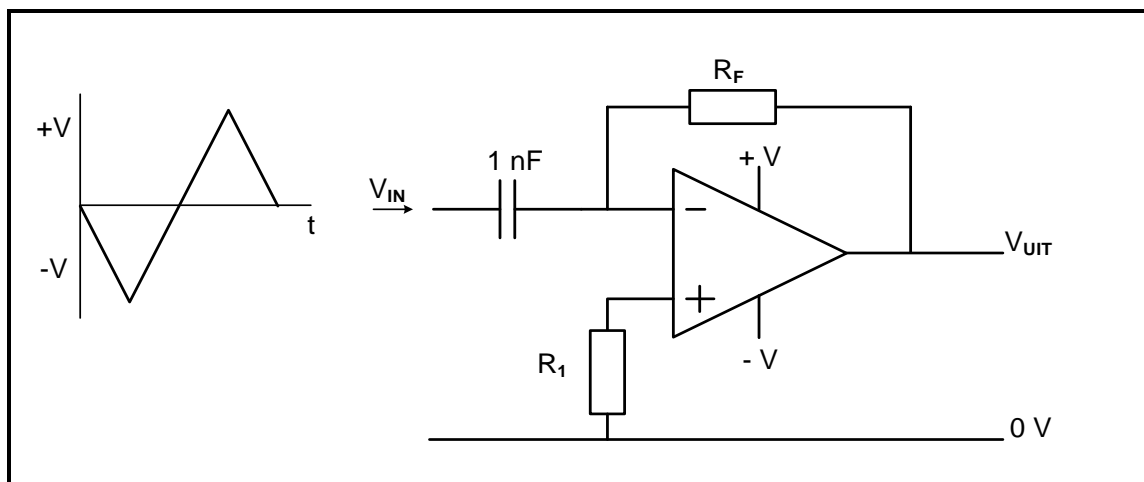
- 3.5 Die inligting in TABEL 3.5 hieronder is uit 'n omkeersommeerversterker met drie insette versamel. Die insetweerstande is almal gelyk en die terugvoerweerstand is verstel deur 'n reëlbare weerstand te gebruik. Gebruik die data in die tabel om die vrae wat volg, te beantwoord.

INSET 1 (V)	INSET 2 (V)	INSET 3 (V)	$R_{IN}$ ( $k\Omega$ )	$R_F$ ( $k\Omega$ )	$V_{UIT}$ (V)	WINS
3	1	2	10	X	-6	-1
0,3	0,4	0,3	10	100	-10	Y
1	0,5	0,5	10	20	Z	-2

TABEL 3.5

- 3.5.1 Bepaal die waarde van die terugvoerweerstand ( $R_F$ ) by X. (1)
- 3.5.2 Bereken die wins by Y. (3)
- 3.5.3 Bereken die uitsetspanning ( $V_{UIT}$ ) by Z. (3)
- 3.5.4 Lei uit TABEL 3.5 die verhouding tussen  $R_F$  en die wins af. (1)

- 3.6 Verwys na FIGUUR 3.6 hieronder en beantwoord die vrae wat volg.



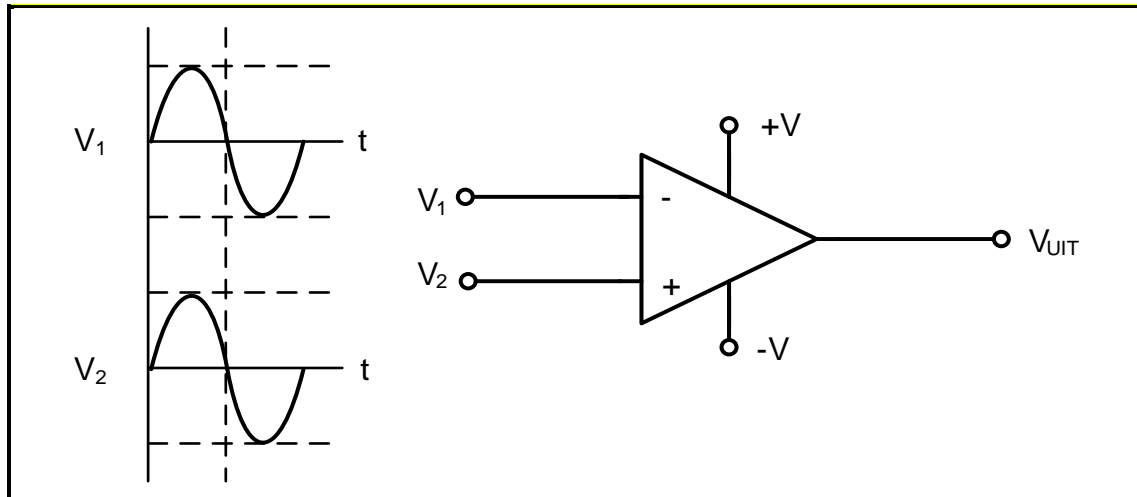
FIGUUR 3.6: OP-VERSTERKER-DIFFERENSIEERDER

- 3.6.1 Teken die uitset op die ANTWOORDBLAD vir VRAAG 3.6.1. (4)
- 3.6.2 Verduidelik wat die polariteit van die uitsetspanning bepaal. (2)

[50]

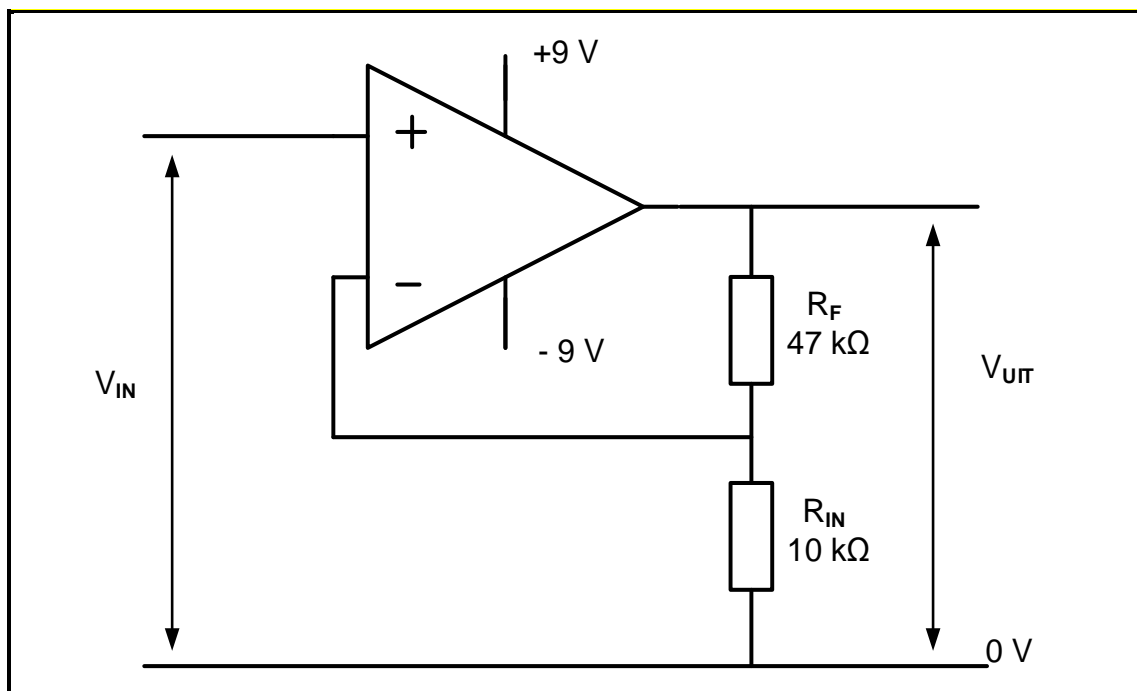
**VRAAG 4: HALFGELEIERTOESTELLE**

- 4.1 FIGUUR 4.1 hieronder toon twee identiese seine op die insetterminale van 'n op-versterker. Teken die uitsetgolfvorm van die op-versterker in die ANTWOORDEBOEK.

**FIGUUR 4.1: 741-OP-VERSTERKER**

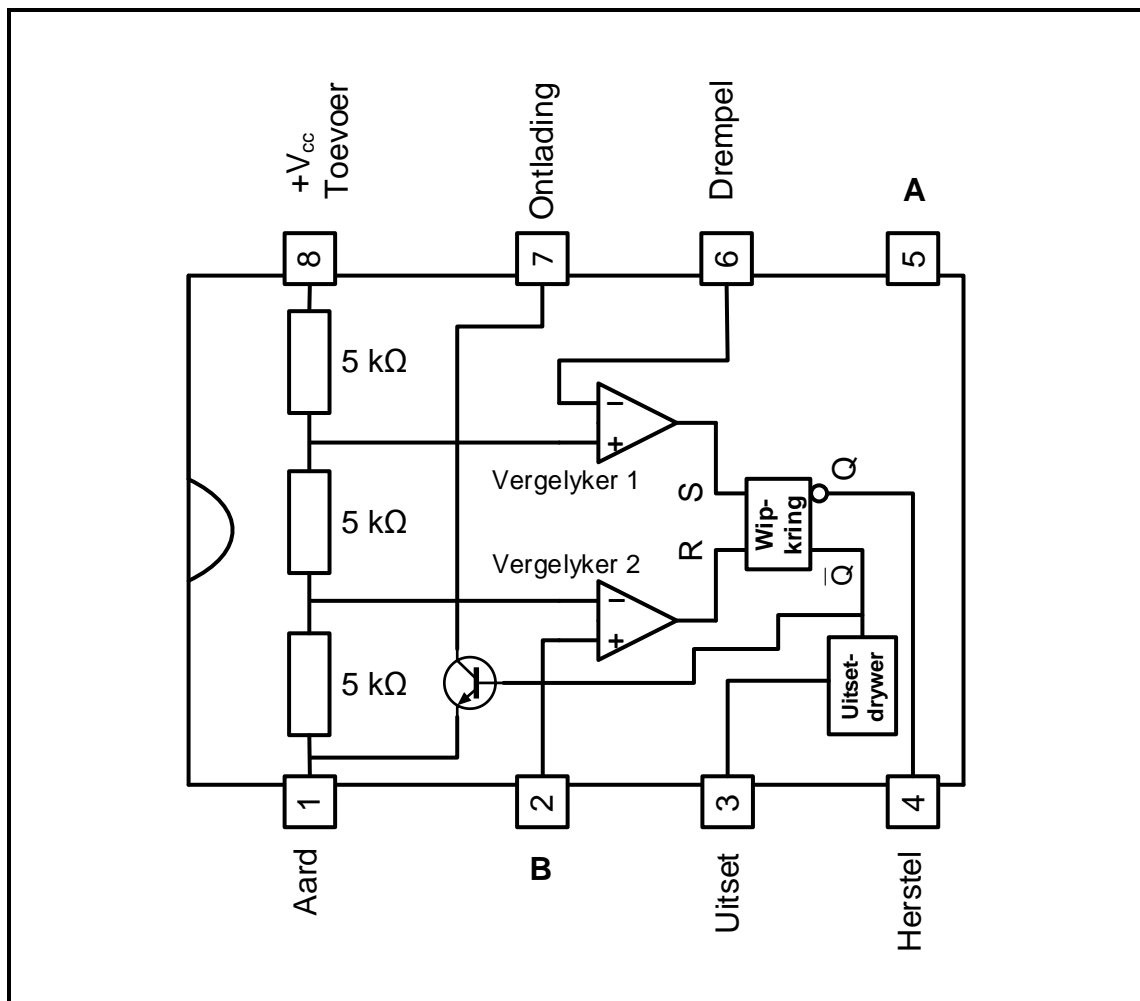
(2)

- 4.2 Verwys na FIGUUR 4.2 hieronder en beantwoord die vrae wat volg.

**FIGUUR 4.2: OP-VERSTERKERKRING**

- 4.2.1 Identifiseer die op-versterkerkring in FIGUUR 4.2. (1)
- 4.2.2 Beskryf wat met *oneindige bandwydte* van 'n op-versterker bedoel word. (2)
- 4.2.3 Bereken die spanningswins. (3)
- 4.2.4 Bereken die uitsetspanning indien 'n  $100\text{ mV}$ -sein op die inset toegepas word. (3)

4.3 Verwys na FIGUUR 4.3 en beantwoord die vrae wat volg.



**FIGUUR 4.3: 555-GS-TYDREËLAAR**

- 4.3.1 Benoem penne **A** en **B**. (2)
- 4.3.2 Verduidelik die funksie van die ontladingsinset by pen 7. (2)
- 4.3.3 Verduidelik die funksie van vergelyker 1. (3)
- 4.3.4 Noem TWEE gebruike van die 555-GS. (2)
- [20]**

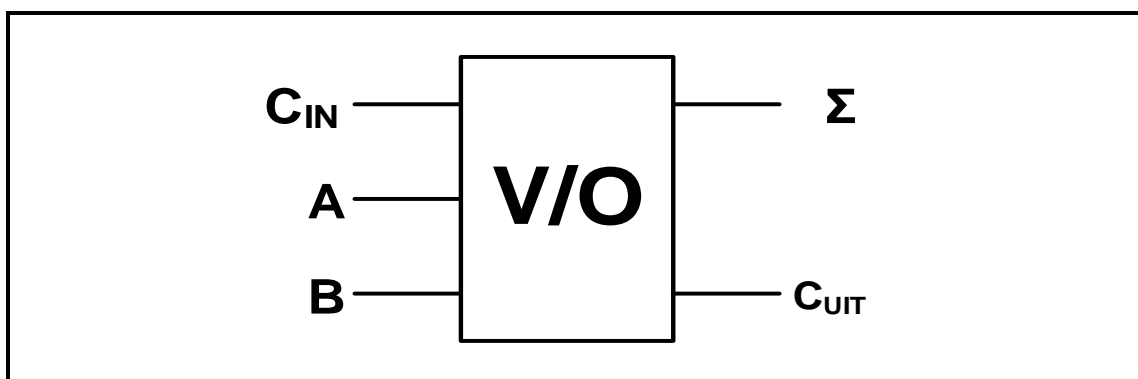
**VRAAG 5: DIGITALE EN SEKWENSIËLE TOESTELLE**

5.1 Verwys na 'n LED-sewesegmentvertoonpaneel en beantwoord die vrae wat volg.

5.1.1 Verduidelik die verskil tussen 'n *absorberingsuitset* en *voedingsuitset*. (Tekeninge word NIE toegelaat NIE.) (4)

5.1.2 Noem EEN metode, behalwe die LED-vertoonpaneel, om inligting in digitale stelsels te vertoon. (1)

5.2 Verwys na FIGUUR 5.2 van die blokdiagram van 'n volopteller hieronder en beantwoord die vrae wat volg.

**FIGUUR 5.2**

5.2.1 Voltooi die waarheidstabel van die volopteller in TABEL 5.2.1 hieronder op die ANTWOORDBLAD vir VRAAG 5.2.1.

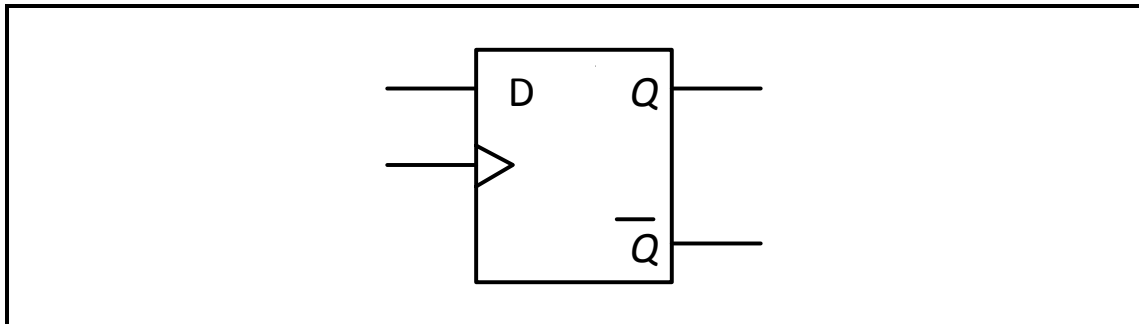
INSETTE			UITSETTE	
$C_{IN}$	A	B	$\Sigma$	$C_{UIT}$
0	0	0	0	0
0	0	1	1	0
0	1	0	1	0
0	1	1	0	
1	0	0	1	0
1	0	1	0	
1	1	0	0	
1	1	1		

**TABEL 5.2.1**

5.2.2 Voltooi die logikakring van die volopteller op die ANTWOORDBLAD vir VRAAG 5.2.2. (6)

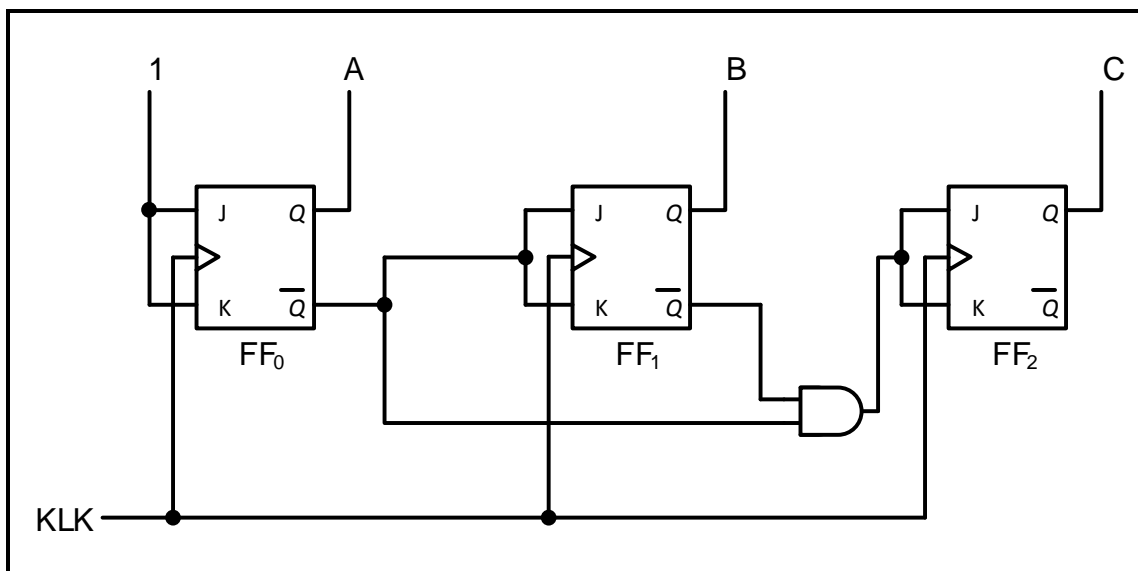
5.3 Definieer 'n *asinchrone toestel* met verwysing na elementêre beginsels van geheue-elemente. (2)

- 5.4 Verwys na FIGUUR 5.4 van 'n geklokte D-tipe wipkring hieronder en beantwoord die vrae wat volg.



**FIGUUR 5.4: D-TYPE WIPKRING**

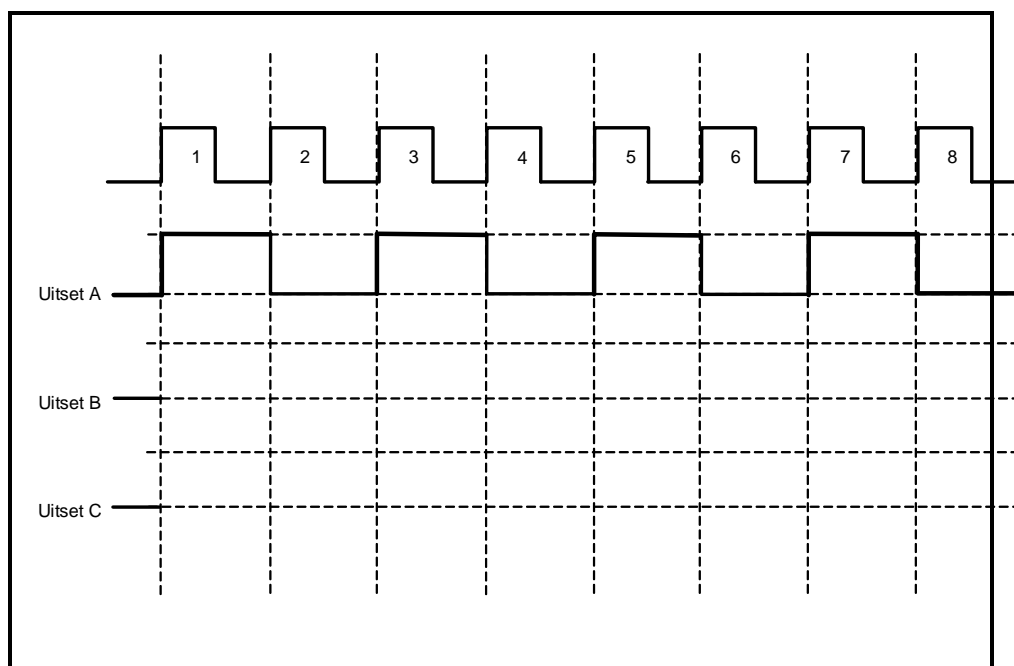
- 5.4.1 Voltooi die logikakring van hierdie wipkring op die ANTWOORDBLAD vir VRAAG 5.4.1. (6)
- 5.4.2 Noem TWEE toepassings van D-tipe wipkringe in digitale stelsels. (2)
- 5.4.3 Voltooi die tydreeëldiagramme van die wipkring in FIGUUR 5.4 op die ANTWOORDBLAD vir VRAAG 5.4.3. Veronderstel dat Q laag begin. (4)
- 5.5 Verduidelik hoe data deur die serie-in: serie-uit-register beweeg. (2)
- 5.6 Verwys na FIGUUR 5.6 van 'n binêre teller hieronder en beantwoord die vrae wat volg.



**FIGUUR 5.6: BINÊRE TELLER**

- 5.6.1 Identifiseer die tipe teller in FIGUUR 5.6. (1)

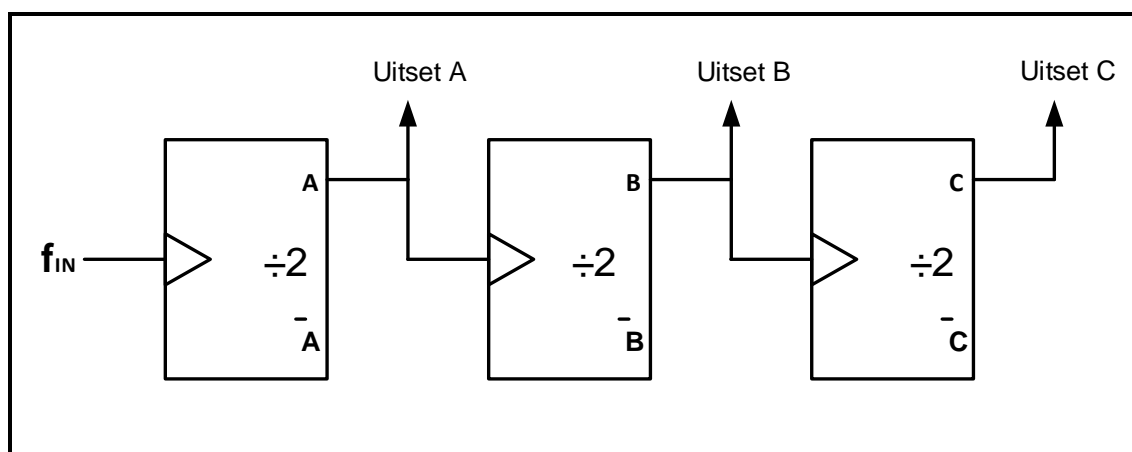
- 5.6.2 Voltooi die tydreeëldiagramme vir die teller in FIGUUR 5.6 hieronder op die ANTWOORDBLAD vir VRAAG 5.6.2.



FIGUUR 5.6.2: TYDREËLDIAGRAMME

(8)

- 5.7 Verwys na FIGUUR 5.7 hieronder en voltooi die uitsetfrekwensiegolfvorme in FIGUUR 5.7 op die ANTWOORDBLAD vir VRAAG 5.7.



FIGUUR 5.7: FREKWENSIEVERDELER

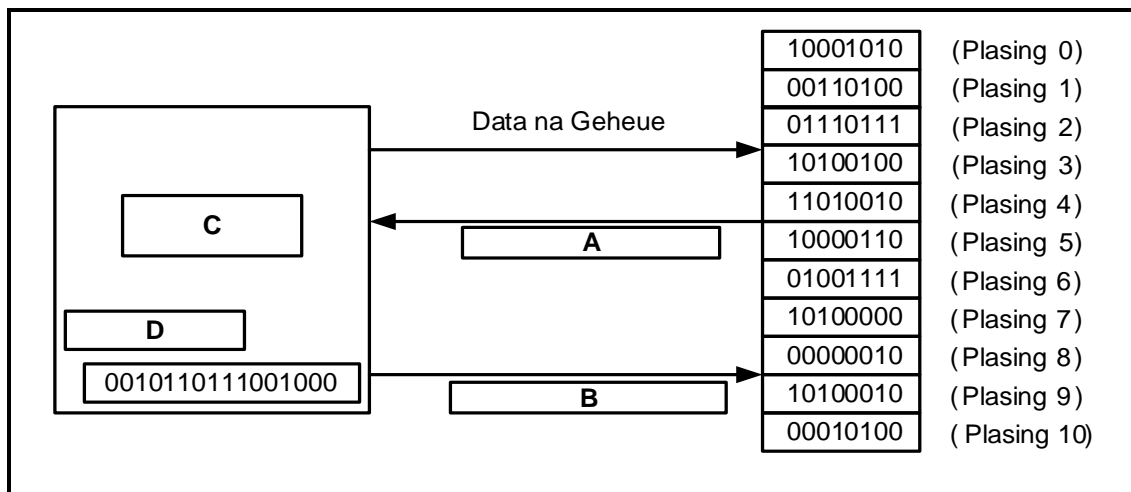
(6)

- 5.8 Teken 'n netjies benoemde skets van 'n 4 bis-serie-in: parallel-uit-skuifregister wat D-tipe wipkringe gebruik. Toon AL die insette en uitsette.

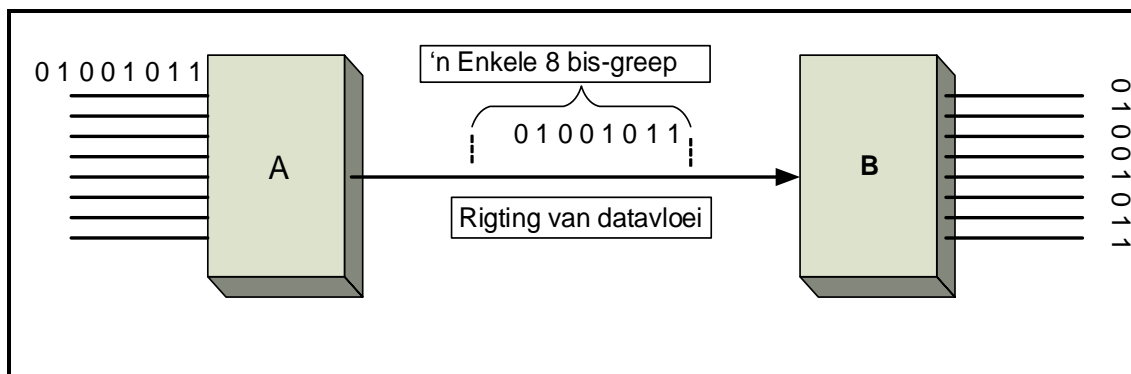
(8)  
[55]

**VRAAG 6: MIKROBEHEERDERS**

- 6.1 Verduidelik hoe mikroverwerkers digitale prosesseringsbeheer aan toestelle verskaf. (5)
- 6.2 FIGUUR 6.2 hieronder toon 'n SVE met registers as deel van mikrobeheerders. Beantwoord die vrae wat volg.

**FIGUUR 6.2**

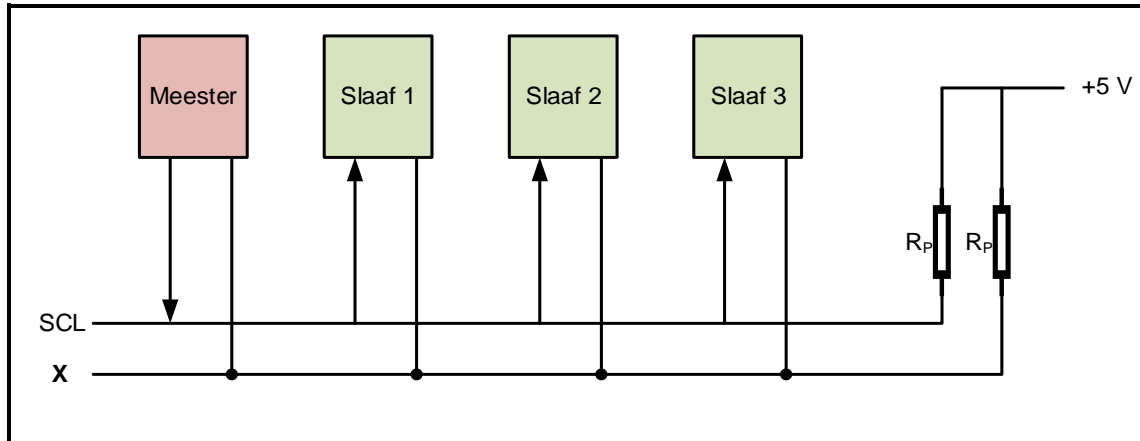
- 6.2.1 Benoem **A** tot **D** in FIGUUR 6.2. (4)
- 6.2.2 Verduidelik die werksiklus van die SVE. (4)
- 6.3 Verwys na registers binne die SVE en verduidelik die funksie van die volgende:
- 6.3.1 Geheue-adresregister (GAR) (1)
- 6.3.2 Programteller (PT) (3)
- 6.4 Noem die funksie van die kasgeheue ('CACHE'). (2)
- 6.5 Verwys na FIGUUR 6.5 van seriekommunikasie hieronder en beantwoord die vrae op die volgende bladsy.

**FIGUUR 6.5**

- 6.5.1 Benoem **A** en **B**. (2)
- 6.5.2 Verduidelik die werking van FIGUUR 6.5. (6)



- 6.6 Noem TWEE voordele van die seriekommunikasie-koppelvlak (SKK/'SCI'). (2)
- 6.7 Verwys na FIGUUR 6.7 van die intergeïntegreerde bus (I2C) hieronder en beantwoord die vrae wat volg.



FIGUUR 6.7: INTERGEÏNTEGREERDE BUS

- 6.7.1 Benoem lyn X. (1)
- 6.7.2 Noem TWEE nadele van die intergeïntegreerde bus (I2C). (2)
- 6.7.3 Noem die funksie van optrekweerstande  $R_P$ . (1)
- 6.7.4 Onderskei tussen die funksie van die *meester* en die *slaaf* in FIGUUR 6.7. (3)
- 6.8 Verwys na die sagteware van mikrobeheerders en verduidelik die verskil tussen 'n *algoritme* en 'n *program*. (4)
- 6.9 Bestudeer die volgende algoritme en voltooi die vloeddiagram in FIGUUR 6.9 op die ANTWOORDBLAD vir VRAAG 6.9:
- 'n Monostabiele toestel het een stabiele toestand.
  - Dit verander van toestand wanneer dit deur 'n inset gesneller word.
  - Dit bly vir vyf sekondes in daardie toestand.
  - Die uitset keer na sy oorspronklike toestand terug.
  - Die uitset het 'n enkele inset.

(10)  
[50]**TOTAAL: 200**

**FORMULEBLAD****HALFGELEIERTOESTELLE**

$$\text{Wins } A_V = \frac{V_{\text{UIT}}}{V_{\text{IN}}} = - \left( \frac{R_F}{R_{\text{IN}}} \right) \quad \text{OF} \quad A_V = 1 + \frac{R_F}{R_{\text{IN}}}$$

$$V_{\text{UIT}} = V_{\text{IN}} \times \left( - \frac{R_F}{R_{\text{IN}}} \right)$$

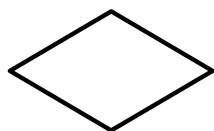
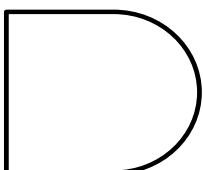
$$V_{\text{UIT}} = V_{\text{IN}} \times \left( 1 + \frac{R_F}{R_{\text{IN}}} \right)$$

**SKAKELKRINGE**

$$V_{\text{UIT}} = - \left( V_1 \frac{R_F}{R_1} + V_2 \frac{R_F}{R_2} + \dots V_N \frac{R_F}{R_3} \right)$$

$$\text{Wins } A_V = \frac{V_{\text{UIT}}}{V_{\text{IN}}} = \frac{V_{\text{UIT}}}{(V_1 + V_2 + \dots V_N)}$$

$$V_{\text{UIT}} = -(V_1 + V_2 + \dots V_N)$$

**VLOEIKAARTSIMBOLE IN PICAXE GEBRUIK****Proses****Besluit****Afsluiter****Data****Wag**

SENTRUMNOMMER: 

--	--	--	--	--	--	--	--

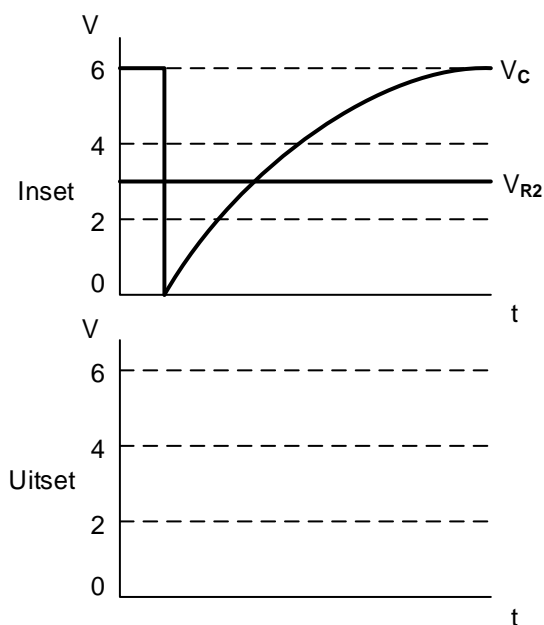
EKSAMENNOMMER: 

--	--	--	--	--	--	--	--	--	--	--	--	--	--	--

## ANTWOORDBLAD

### VRAAG 3: SKAKELKRINGE

3.3.6



FIGUUR 3.3.6

Dra punt na  
antwoordeboek oor



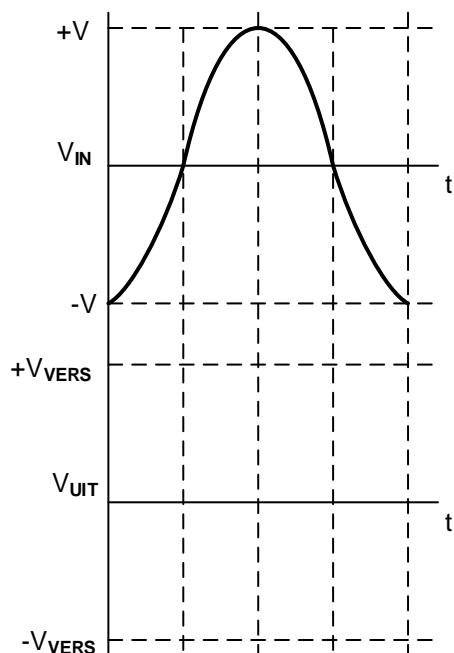




MOD

(3)

3.4.3



FIGUUR 3.4.3

Dra punt na  
antwoordeboek oor







MOD

(4)

SENTRUMNOMMER: 

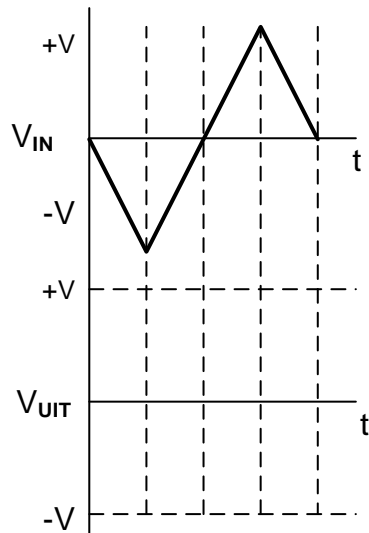
--	--	--	--	--	--	--	--

EKSAMENNOMMER: 

--	--	--	--	--	--	--	--	--	--	--	--	--	--	--

## ANTWOORDBLAD

3.6.1



**FIGUUR 3.6.1**

Dra punt na  
antwoordeboek oor



MOD

(4)

SENTRUMNOMMER: 

--	--	--	--	--	--	--	--

EKSAMENNOMMER: 

--	--	--	--	--	--	--	--	--	--	--	--	--	--

## ANTWOORDBLAD

### VRAAG 5: DIGITALE EN SEKWENSIËLE TOESTELLE

5.2.1

INSETTE			UITSETTE	
$C_i$	A	B	$\Sigma$	$C_{UIT}$
0	0	0	0	0
0	0	1	1	0
0	1	0	1	0
0	1	1	0	
1	0	0	1	0
1	0	1	0	
1	1	0	0	
1	1	1		

TABEL 5.2.1

Dra punt na  
antwoordeboek oor

--	--

MOD

(5)

SENTRUMNOMMER: 

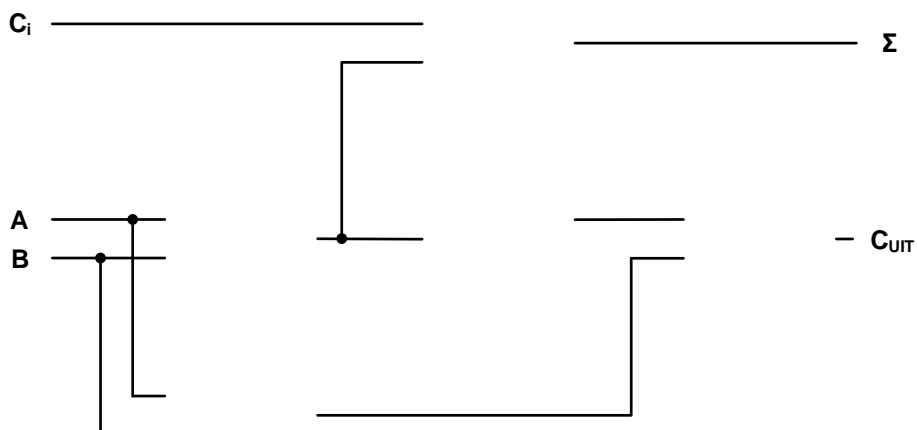
--	--	--	--	--	--	--	--

EKSAMENNOMMER: 

--	--	--	--	--	--	--	--	--	--	--	--	--	--	--

## ANTWOORDBLAD

5.2.2



FIGUUR 5.2.2

Dra punt na  
antwoordeboek oor

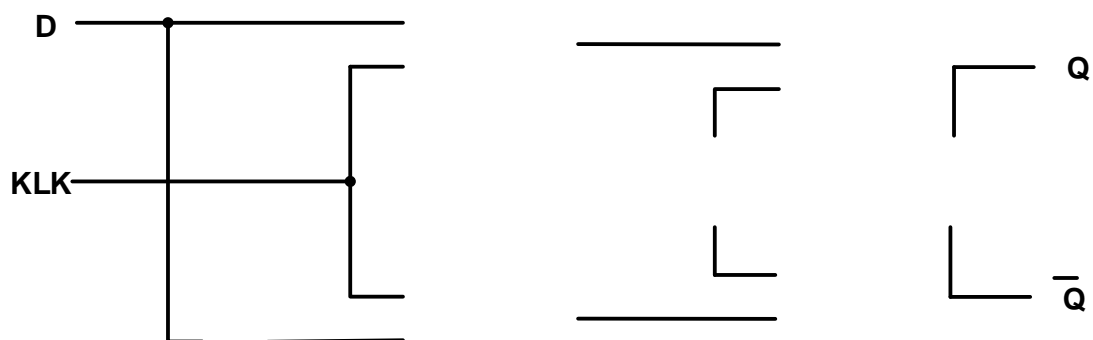
--

--

MOD

(6)

5.4.1



FIGUUR 5.4.1

Dra punt na  
antwoordeboek oor

--

--

MOD

(6)

SENTRUMNOMMER: 

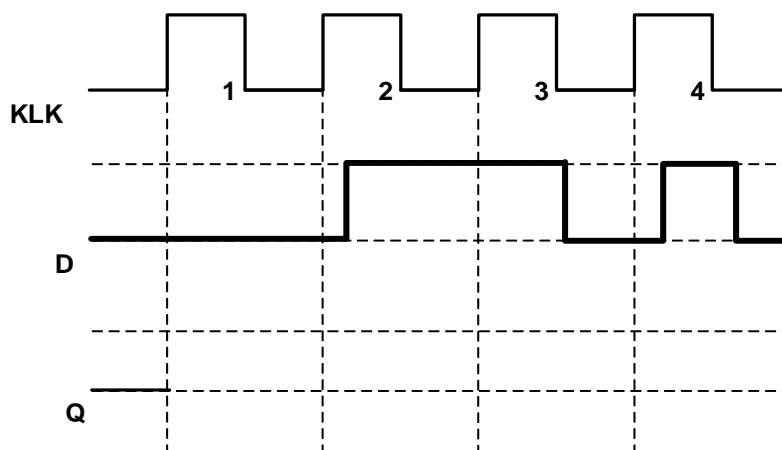
--	--	--	--	--	--	--	--

EKSAMENNOMMER: 

--	--	--	--	--	--	--	--	--	--	--	--	--	--	--

## ANTWOORDBLAD

5.4.3



FIGUUR 5.4.3

Dra punt na  
antwoordeboek oor



MOD

(4)

**SENTRUMNOMMER:**

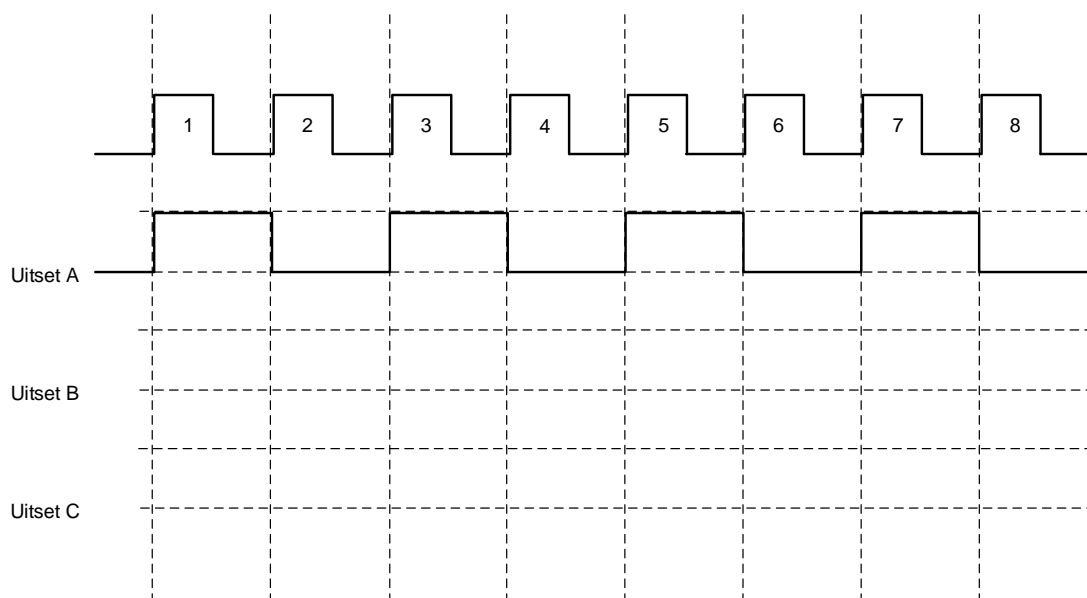
--	--	--	--	--	--	--	--

**EKSAMENNOMMER:**

--	--	--	--	--	--	--	--	--	--	--	--	--	--

## ANTWOORDBLAD

5.6.2



**FIGUUR 5.6.2**

Dra punt na  
antwoordeboek oor



MOD

(8)



SENTRUMNOMMER: 

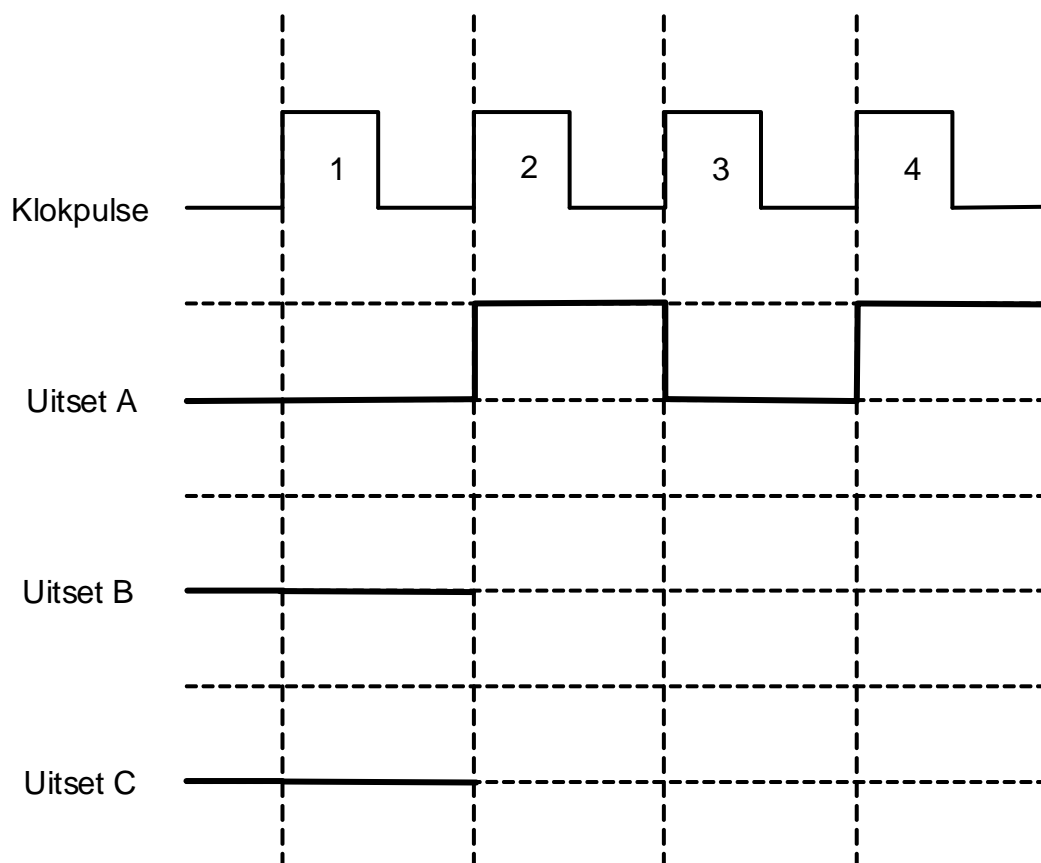
--	--	--	--	--	--	--	--

EKSAMENNOMMER: 

--	--	--	--	--	--	--	--	--	--	--	--	--	--

## ANTWOORDBLAD

5.7



**FIGUUR 5.7**

Dra punt na  
antwoordeboek oor

--	--

MOD

(6)

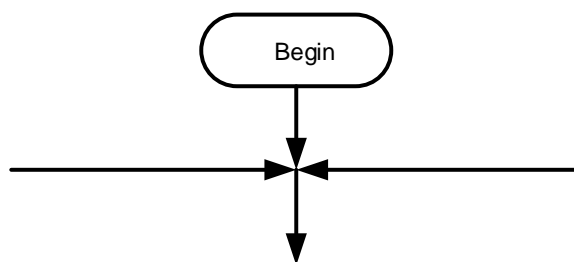
<b>SENTRUMNOMMER:</b>							
-----------------------	--	--	--	--	--	--	--

<b>EKSAMENNOMMER:</b>													
-----------------------	--	--	--	--	--	--	--	--	--	--	--	--	--

## ANTWOORDBLAD

### VRAAG 6: MIKROBEHEERDERS

6.9



**FIGUUR 6.9**

Dra punt na  
antwoordeboek oor



MOD

(10)