

# Soek jy 'n fantastiese tutor?

[www.teachme2.com/matriek](http://www.teachme2.com/matriek)





# basic education

Department:  
Basic Education  
**REPUBLIC OF SOUTH AFRICA**

## NASIONALE SENIOR SERTIFIKAAT

**GRAAD 12**

**EKONOMIE V1**  
**NOVEMBER 2023**

**PUNTE: 150**

**TYD: 2 uur**

**Hierdie vraestel bestaan uit 13 bladsye.**

## INSTRUKSIES EN INLIGTING

1. Beantwoord VIER vrae soos volg in die ANTWOORDEBOEK:  
  
AFDELING A: VERPLIGTEND  
AFDELING B: Beantwoord TWEE van die drie vrae.  
AFDELING C: Beantwoord EEN van die twee vrae.
2. Beantwoord slegs die vereiste getal vrae. Addisionele antwoorde sal NIE nagesien word NIE.
3. Nommer die antwoorde korrek volgens die nommeringstelsel wat in hierdie vraestel gebruik is.
4. Skryf die vraagnommer boaan elke antwoord.
5. Lees die vrae aandagtig deur.
6. Begin ELKE vraag op 'n NUWE bladsy.
7. Laat 2–3 reëls tussen onderafdelings van vrae oop.
8. Beantwoord die vrae in volsinne en maak seker dat die formaat, inhoud en konteks van jou antwoorde aan die kognitiewe vereistes van die vrae voldoen.
9. Gebruik slegs swart of blou ink.
10. Jy mag 'n nieprogrammeerbare sakrekenaar gebruik.
11. Skryf netjies en leesbaar.

**AFDELING A (VERPLIGTEND)****VRAAG 1****30 PUNTE – 20 MINUTE**

1.1 Verskeie opsies word as moontlike antwoorde op die volgende vrae gegee. Kies die antwoord en skryf slegs die letter (A–D) langs die vraagnommers (1.1.1 tot 1.1.8) in die ANTWOORDEBOEK neer, bv. 1.1.9 D.

1.1.1 'n Doelbewuste aksie deur die owerheid om die waarde van 'n geldeenheid te verhoog, staan as ... bekend.

- A revaluasie
- B appresiasie
- C devaluasie
- D depresiasie

1.1.2 Sakesiklusse wat van 7 tot 11 jaar duur, veroorsaak deur veranderinge in netto investering, staan as ...-siklusse bekend.

- A Kuznets
- B Kondratieff
- C Jugler
- D Kitchen

1.1.3 Die verwantskap tussen die belastingkoers en die belasting-inkomste vir die owerheid word deur die ...-kromme (-kurwe) geïllustreer.

- A Phillips
- B Laffer
- C Lorenz
- D Indifferensie

1.1.4 As die waarde van die marginale verbruiksgeneigdheid (MVG) 0,6 is, sal die waarde van die marginale spaargeneigdheid (MSG) ... wees.

- A 0,4
- B 0,75
- C 1,67
- D 2,5

1.1.5 'n Beperking op die hoeveelheid goedere en dienste wat van ander lande aangekoop kan word, staan as invoer-... bekend.

- A tarief
- B aansporing
- C heffing
- D kwota

1.1.6 'n Groei- en ontwikkelingstrategie wat ten doel gehad het om werkloosheid en armoede teen 2014 te halveer, het as ... bekend gestaan.

- A Heropbou- en Ontwikkelingsbeleid
- B Versnelde en Gedeelde Groei-inisiatief vir Suid-Afrika
- C Groei, Indiensneming en Herverdelingsprogram
- D Nasionale Vaardigheidsontwikkelingstrategie

1.1.7 Die owerheid se breë benadering tot industrialisasie word in die ... uiteengesit.

- A Nywerheidsbeleid-aksieplan
- B Strategiese Geïntegreerde Projekte
- C Vaardigheidsondersteuningsprogram
- D Nasionale Nywerheidsbeleidsraamwerk

1.1.8 Die toename in die bevolking van stede en dorpe deur die beweging van mense uit landelike gebiede staan as ... bekend.

- A immigrasie
- B migrasie
- C verstedeliking
- D emigrasie

(8 x 2) (16)

- 1.2 Kies 'n beskrywing uit KOLOM B wat by die item in KOLOM A pas. Skryf slegs die letter (A–I) langs die vraagnommers (1.2.1 tot 1.2.8) in die ANTWOORDEBOEK neer, bv. 1.2.9 J.

KOLOM A		KOLOM B	
1.2.1	Outonome verbruik	A	'n ekonomiese aanwyser wat met die lewenskoste verband hou
1.2.2	Monetaristiese benadering	B	wanneer 'n organisasie of 'n land vrygestel word van sy verpligting om 'n lening terug te betaal
1.2.3	Aanspreeklikheid	C	samewerking tussen lande om gemeenskaplike monetêre en fiskale beleide aan te neem
1.2.4	Skuldvergewing	D	fokus op die gebruik van wetenskap en tegnologie om industrialisasie te bevorder
1.2.5	Ekonomiese unie	E	handhaaf die siening dat markte inherent onstabiel is
1.2.6	Kapitaalvorming	F	die vereiste om 'n verduideliking van jou eie besluite en optrede te gee
1.2.7	Nasionale Navorsing- en Ontwikkelingstrategie	G	handhaaf die siening dat markte inherent stabiel is
1.2.8	Verbruikersprysindeks	H	gedeelte van huishoudings se besteding wat onafhanklik van die vlak van inkomste is
		I	die proses van toevoeging van nuwe bates, soos masjinerie en toerusting, tot die bestaande voorraad

(8 x 1)

(8)

- 1.3 Gee EEN term vir elk van die volgende beskrywings. Skryf slegs die term langs die vraagnommers (1.3.1 tot 1.3.6) in die ANTWOORDEBOEK neer. Afkortings, akronieme en voorbeelde sal NIE aanvaar word NIE.
- 1.3.1 Die onttrekking van geld vanuit die ekonomiese kringloop
- 1.3.2 'n Samevatting van die verskeie aanwysers van dieselfde soort in 'n enkele waarde
- 1.3.3 Die wisselkoers word deur markkragte met inmenging deur die sentrale bank vasgestel
- 1.3.4 Die toename in die ekonomie se kapasiteit om meer goedere en dienste te produseer
- 1.3.5 Die verwerking van natuurlike hulpbronne tot voltooide produkte
- 1.3.6 Die laagste rentekoers wat deur handelsbanke van hulle beste kliënte gehef word (6 x 1) (6)
- TOTAAL AFDELING A: 30**

## AFDELING B

Beantwoord enige TWEE van die drie vrae in hierdie afdeling in die ANTWOORDEBOEK.

### VRAAG 2: MAKRO-EKONOMIE

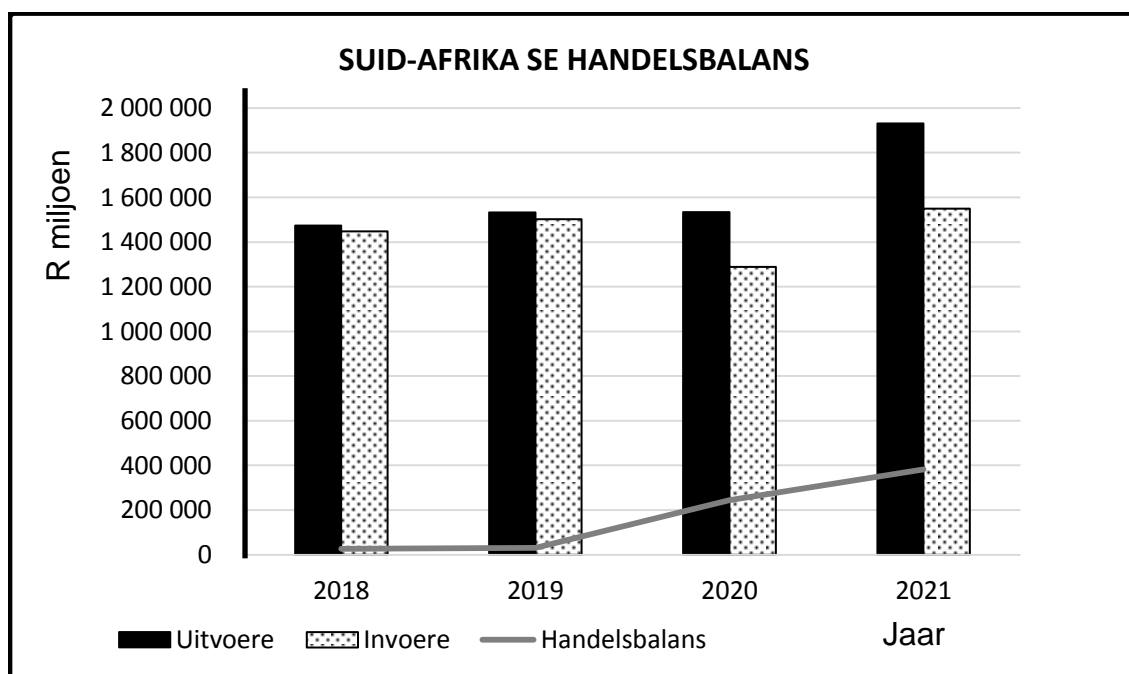
40 PUNTE – 30 MINUTE

2.1 Beantwoord die volgende vrae.

2.1.1 Noem enige TWEE produksiefaktore. (2 x 1) (2)

2.1.2 Waarom is die inflasiekoers gedurende die voorspoedfase van 'n sakesiklus hoog? (1 x 2) (2)

2.2 Bestudeer die grafiek hieronder en beantwoord die vrae wat volg.



[Aangepas uit SARB Kwartaallikse Bulletin, Desember 2022]

2.2.1 Identifiseer die jaar waarin Suid-Afrika die hoogste waarde van uitvoere aangeteken het. (1)

2.2.2 Noem die rekening in die betalingsbalans (BB) wat portefeulje-investerings aanteken. (1)

2.2.3 Beskryf kortliks die term *handelsbalans*. (2)

2.2.4 Verduidelik die impak van elektrisiteitstekorte op uitvoervolumes in Suid-Afrika. (2)

2.2.5 Hoe kan die Suid-Afrikaanse Reserwebank (SARB) betalingsbalanstekorte verminder? (2 x 2) (4)



2.3 Bestudeer die tabel hieronder en beantwoord die vrae wat volg.

<b>NASIONALE REKENINGE VIR SUID-AFRIKA</b> <b>Teen huidige pryse</b>	
<b>Item</b>	<b>2021 (R biljoen)</b>
Vergoeding van werknemers	2 861
Netto bedryfsurplus	1 795
Verbruik van vaste kapitaal	797
<b>Bruto waarde toegevoeg teen faktorkoste</b>	<b>5 453</b>
Belasting op produksie	132
Subsidies op produksie	12
<b>Bruto waarde toegevoeg teen basiese pryse</b>	<b>(A)</b>
Belasting op produkte	634
Subsidies op produkte	14
<b>Bruto binnelandse produk teen markpryse</b>	<b>6 193</b>

[Aangepas uit SARB Kwartaallikse Bulletin, Desember 2022]

- 2.3.1 Identifiseer in die tabel hierbo die metode wat gebruik word om die bruto binnelandse produk (BBP) te bereken. (1)
- 2.3.2 Gee EEN voorbeeld van belasting op produkte. (1)
- 2.3.3 Beskryf kortliks die term *subsidie op produksie*. (2)
- 2.3.4 Waarom is dit vir 'n land belangrik om nasionale rekeningtotale voor te berei? (2)
- 2.3.5 Bereken die bruto waarde toegevoeg (BWT) teen basiese pryse **(A)** in die tabel hierbo. Toon ALLE berekeninge. (2 x 2) (4)
- 2.4 Verduidelik kortliks *spesialisasie* en *massaproduksie* as uitwerkings (effekte) van internasionale handel. (8)
- 2.5 Hoe kan sakesiklusse die gebruik van fiskale beleid in die ekonomie beïnvloed? (4 x 2) (8)
- [40]**

### VRAAG 3: EKONOMIESE STREWES

40 PUNTE – 30 MINUTE

3.1 Beantwoord die volgende vrae.

3.1.1 Gee enige TWEE voorbeelde van basiese dienste wat deur die overheid verskaf word. (2 x 1) (2)

3.1.2 Hoe kan die Geïntegreerde Vervaardigingstrategie (GVS) industrialisasie in Suid-Afrika bevorder? (1 x 2) (2)

3.2 Bestudeer die spotprent hieronder en beantwoord die vrae wat volg.



[Aangepas uit [Dailyfriend.co.za](http://Dailyfriend.co.za)]

3.2.1 Identifiseer 'n regstellende beleid wat daarna streef om onbillike diskriminasie in Suid-Afrikaanse werkplekke te verwyder. (1)

3.2.2 Noem EEN maatreël wat gebruik word om die doeltreffendheid van markte te verbeter. (1)

3.2.3 Beskryf kortliks die term *ekonomiese ontwikkeling*. (2)

3.2.4 Hoe kan die overheid belasting gebruik om besigheidsdoeltreffendheid te bevorder? (2)

3.2.5 Verduidelik die uitdagings in die implementering van Breëbasis-Swart Ekonomiese Bemagtiging (BBSEB). (2 x 2) (4)

3.3 Bestudeer die uittreksel hieronder en beantwoord die vrae wat volg.

**BUITELANDSE DIREKTE INVESTERING (BDI) IN SUID-AFRIKA**

In vergelyking met ander Afrikalande is die potensiele aantreklikheid van Suid-Afrika hoog. Buitelandse investering het oor die jare toegeneem en is verantwoordelik vir werkskepping asook rykdomskeppende ekonomiese groei.

Die meeste van die invloed van buitelandse direkte investering is gerig op die finansiële, mynbou-, vervaardiging-, vervoer- en kleinhandelsektore. Beijing Motorbedryf, BMW, Nissan en Mainstream Renewable Energy was die grootste beleggers die afgelope paar jaar.

[Bron: [www.tradeclub.standardbank](http://www.tradeclub.standardbank)]

- |       |   |             |
|-------|---|-------------|
| 3.3.1 | Identifiseer EEN voordeel van buitelandse direkte investering vir die ekonomie.   | (1)         |
| 3.3.2 | Noem die finansiële aansporing deur die owerheid verskaf om nuwe buitelandse investerings na Suid-Afrika te lok.                | (1)         |
| 3.3.3 | Beskryf kortliks die term <i>nywerheidsontwikkeling</i> .   | (2)         |
| 3.3.4 | Waarom is die vervaardigingsektor belangrik vir die ekonomie?   | (2)         |
| 3.3.5 | Verduidelik die faktore wat die sukses van nywerheidsontwikkelingsones (NOS) in Suid-Afrika negatief mag beïnvloed.             | (4)         |
|       | (2 x 2)   |             |
| 3.4   | Bespreek kortliks die <i>ruilvoet</i> en die <i>wisselkoers</i> as ekonomiese aanwysers wat met buitelandse handel verband hou. | (8)         |
|       | (2 x 4)   |             |
| 3.5   | Ontleed die impak van lae ekonomiese groei op die Suid-Afrikaanse ekonomie.   | (8)         |
|       | (4 x 2)   |             |
|       |   | <b>[40]</b> |

**VRAAG 4: MAKRO-EKONOMIE EN EKONOMIESE STREWES**

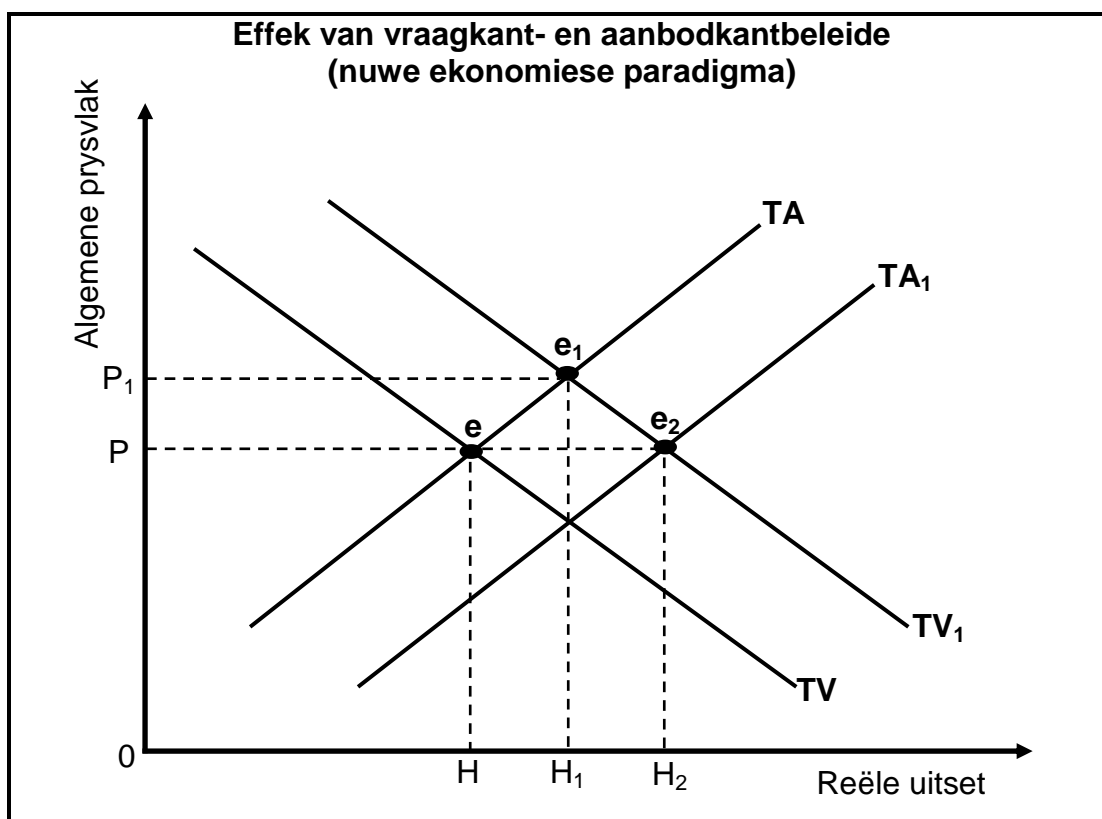
**40 PUNTE – 30 MINUTE**

4.1 Beantwoord die volgende vrae.

4.1.1 Noem enige TWEE eienskappe van lande in die Suide. (2 x 1) (2)

4.1.2 Hoe kan 'n toename in die bevolking se inkomstevlakke die vraag na invoere beïnvloed? (1 x 2) (2)

4.2 Bestudeer die grafiek hieronder en beantwoord die vrae wat volg.



4.2.1 Identifiseer die oorspronklike ewewigspunt in die grafiek hierbo. (1)

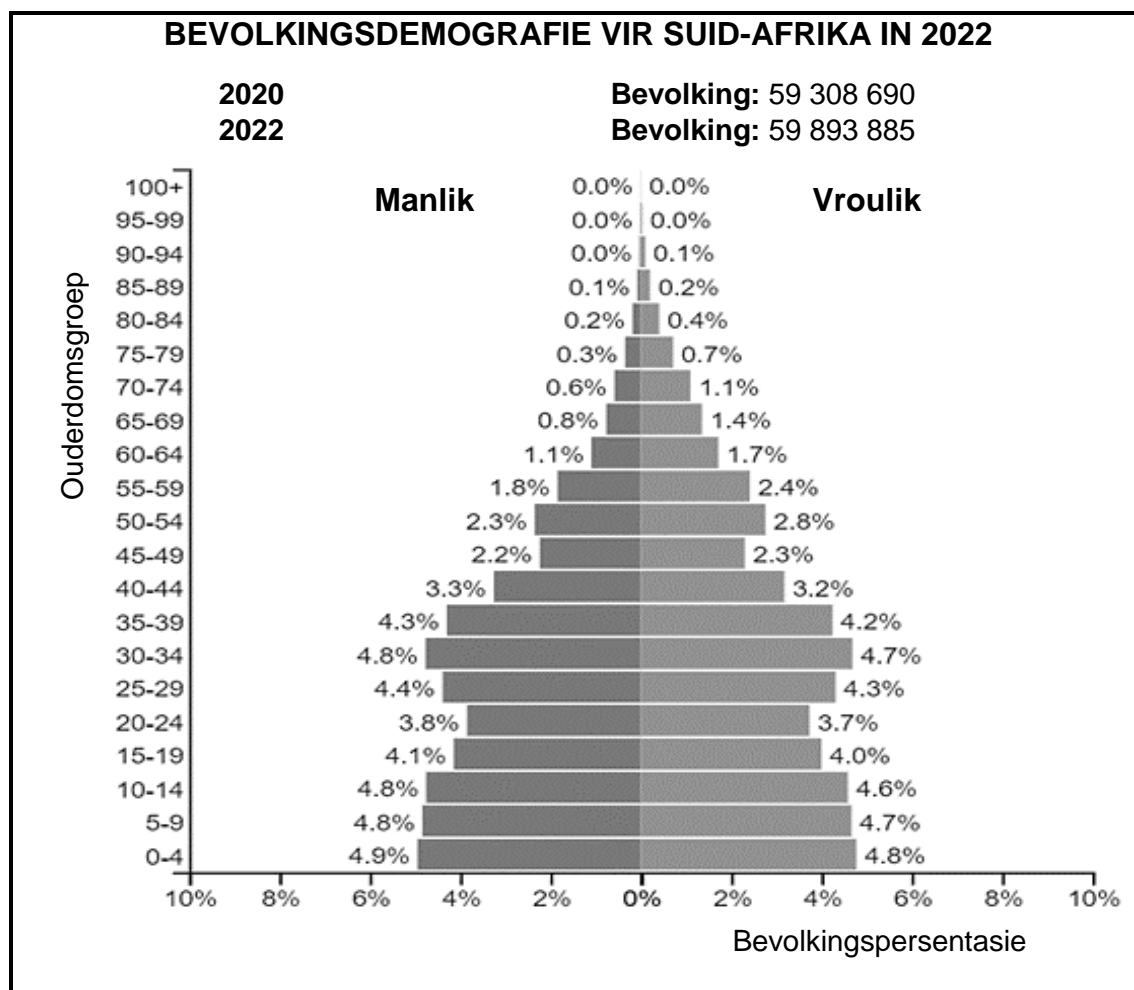
4.2.2 Noem EEN instrument van die monetêre beleid. (1)

4.2.3 Beskryf kortliks die term *sakesiklusse*. (2)

4.2.4 Hoe kan mededinging totale aanbod stimuleer? (2)

4.2.5 Verduidelik die effek van vraagkant- en aanbodkantbeleide op die algemene prysvlak en reële uitset, met verwysing na die grafiek hierbo. (2 x 2) (4)

4.3 Bestudeer die inligting hieronder en beantwoord die vrae wat volg.



[Bron: [www.populationpyramid.net/south-africa/2022](http://www.populationpyramid.net/south-africa/2022)]

- 4.3.1 Identifiseer die bevolkingspersentasie van vroue in die ouderdomsgroep 30 tot 34 jaar. (1)
- 4.3.2 Gee 'n ekonomiese term wat na die bevolkingsouderdomsgroep 15 tot 65 jaar verwys. (1)
- 4.3.3 Beskryf kortliks die term *lewensverwagting*. (2)
- 4.3.4 Verduidelik die impak van wanvoeding op die kindersterftesyfer. (2)
- 4.3.5 Waarom is bevolkingsgrootte belangrik vir besighede en/of die owerheid? (4)
- 4.4 Bespreek ruimtelike-ontwikkelingsinisiatiewe (ROI's) as Suid-Afrika se strewes (pogings) in streeksontwikkeling. (4 x 2) (8)
- 4.5 Ontleed die verhouding tussen die finansiële sektor en ander deelnemers in die ekonomiesekringloop-model. (4 x 2) (8)

[40]

**TOTAAL AFDELING B: 80**

