



# basic education

---

Department:  
Basic Education  
**REPUBLIC OF SOUTH AFRICA**

**NASIONALE  
SENIOR SERTIFIKAAT**

**GRAAD 12**

**TOERISME  
NOVEMBER 2021**

**PUNTE: 200**

**TYD: 3 uur**

**Hierdie vraestel bestaan uit 25 bladsye.**

**INSTRUKSIES EN INLIGTING**

Lees die instruksies aandagtig voordat jy die vrae beantwoord.

1. Hierdie vraestel bestaan uit VYF afdelings.
2. Beantwoord AL die vrae.
3. Begin ELKE vraag op 'n NUWE bladsy.
4. Rond jou antwoorde by VRAAG 3.1 tot TWEE desimale plekke af.
5. Toon ALLE berekeninge.
6. Jy mag 'n nieprogrammeerbare sakrekenaar gebruik.
7. Gebruik die puntetoekenning van elke vraag as 'n riglyn vir die lengte van jou antwoord.
8. Skryf netjies en leesbaar.
9. Die tabel hieronder is 'n riglyn om jou te help om jou tyd volgens elke afdeling in te deel.

<b>AFDELING</b>	<b>ONDERWERP</b>	<b>PUNTE</b>	<b>TYD (minute)</b>
A	Kortvrae	40	20
B	Kaartwerk en Toerbepanning; Buitelandse Valuta-verhandeling	50	50
C	Toerismebesienswaardighede; Kultuur- en Erfenistoerisme; Bemarking	50	50
D	Toerismesektore; Volhoubare en Verantwoordelike Toerisme	30	30
E	Plaaslike, Streeks- en Internasionale Toerisme; Kommunikasie en Kliëntediens	30	30
	<b>TOTAAL</b>	<b>200</b>	<b>180</b>

**AFDELING A: KORTVRAE****VRAAG 1**

- 1.1 Verskeie opsies word as moontlike antwoorde op die volgende vrae gegee. Kies die antwoord en skryf slegs die letter (A–D) langs die vraagnommers (1.1.1 tot 1.1.20) in die ANTWOORDEBOEK neer, bv. 1.1.21 D.
- 1.1.1 'n Plan wat gebruik word om 'n reis logies en tydbesparend te maak:
- A Maaltydplan
  - B Begrotingsplan
  - C Roeteplan
  - D Kredietplan
- 1.1.2 'n ... reisprogram word volgens 'n toeris se behoeftes opgestel.
- A Persoonlike
  - B Algemene
  - C Groeps-
  - D Gesegmenteerde
- 1.1.3 Toeriste is kwesbaar vir misdaadverwante insidente. As 'n veiligheidsmaatreël by die lughawe moet toeriste ...
- A die gebruik van geregistreerde vervoerdienste vermy.
  - B seker maak dat bagasie veilig gesluit is.
  - C nooit op hulle selfone praat nie.
  - D fasiliteite vir gestremdes gebruik.
- 1.1.4 Voorkomende raad wat reisklinieke aan toeriste gee wat na bestemmings met uiters hoë temperature reis:
- A Neem warm storte om koel te bly.
  - B Drink drankies met 'n hoë suikergehalte om gehidreer te bly.
  - C Gebruik 'n leesbril vir beskerming teen die skerp sonlig.
  - D Gebruik 'n sonskermmiddel wat 'n hoë sonbeskermingsfaktor bevat.
- 1.1.5 'n Dokument wat vereis word wanneer 'n internasionale bestuurspermit (IBP) verkry word:
- A Geldige Suid-Afrikaanse bestuurslisensie
  - B Agt identiese foto's
  - C Stel vingerafdrukke
  - D Afskrif van die retoerkaartjie
- 1.1.6 Die Berlynse Muur is gebou om hierdie land in wes en oos te verdeel:
- A China
  - B Brasilië
  - C Italië
  - D Duitsland

- 1.1.7 Die standbeeld van Christus Die Verlosser en die Vatikaanstad het die volgende in gemeen:
- Beide ...
- A het godsdienstige belang.
  - B is standbeelde wat uit sement gemaak is.
  - C is simbole van onafhanklikheid
  - D is vir die natuur van belang.
- 1.1.8 Suid-Afrika se Fossilhominiedterreine bestaan uit drie terreine wat die Makapanvallei, die Taung-skedel-fossielterrein en die ... genoem word.
- A Kaapse Blommestreek- Beskernde Areas
  - B #Khomani Kulturele Landskap
  - C Mapungubwe Kulturele Landskap
  - D Wieg van die Mensdom
- 1.1.9 Die Vredefortkoepel-Wêrelderfenisterrein voldoen aan hierdie UNESCO-kriterium:
- A Biologiese bewyse van menslike ontwikkelingstadiums
  - B Geologiese bewyse van 'n meteoriet-impakstruktuur
  - C 'n Uitstaande voorbeeld van 'n menslike nedersetting
  - D 'n Uitstaande voorbeeld van 'n unieke soort gebou
- 1.1.10 Die internasionale bemerking van Suid-Afrika sal 'n ... tot gevolg hê.
- A toename in reisverwante siektes
  - B verhoging in toeristevolumes
  - C afname in aankomsgetalle
  - D afname in die ontwikkeling van bestemmings
- 1.1.11 Hierdie faktor dra by tot die professionele beeld van 'n werknemer wat in die toerismebedryf werk:
- A Geskiedenis van die maatskappy
  - B Beëindiging van diens
  - C Reisvoordele
  - D Positiewe interaksie met kliënte
- 1.1.12 'n Rede waarom mense vir werk in die lugdiensbedryf aansoek wil doen:
- A Hulle sal byvoordele soos afslag op reise geniet.
  - B Almal sal bogemiddelde salarisse verdien.
  - C Hulle sal outomaties aandeelhouers in die lugdiens word.
  - D Almal sal hoëprofielposisies beklee.

- 1.1.13 Die beeld hieronder toon internetgebaseerde platforms waar toerismebesighede 'n aanlyn teenwoordigheid het. Hierdie platforms staan as ... bekend.



- A korporatiewe maatskaplike belegging  
B maatskaplike verantwoordelikheid  
C sosiale media  
D sosiale distansiëring
- 1.1.14 Hierdie dokument gee personeel riglyne oor die gedrag wat tydens die uitvoering van hulle pligte verwag word en aan personeellede wat met etiese uitdagings te doen kry:
- A Wet op Basiese Diensvoorwaardes, 1997 (Wet 75 van 1997)  
B Wet op Toerisme, 2014 (Wet 3 van 2014)  
C Die King III-verslag oor volhoubaarheid  
D Gedragskode
- 1.1.15 Die manier waarop 'n besigheid sy produkte vir kliënte aanbied, wat tot 'n professionele beeld sal bydra:
- A Goeie omgewingsbeleidstukke  
B Persoonlike higiëne van personeel  
C Interaksie met verskaffers  
D Ontwerp van verpakking
- 1.1.16 Die jaar 2020 het ongekende (nog nooit voorheen ervaar nie) politieke en sosiale opstande beleef. Daar word na hierdie tipe gebeurtenis as 'n ... verwys.
- A wêreldoorlog  
B natuurlike ramp  
C protesaksie  
D wêreldramp

1.1.17 'n Negatiewe invloed van Covid-19 op groot sokkergebeure:



- A Mediadekking is verban.
- B Sokkerstadions was leeg.
- C Spanne het aanhou oefen.
- D Belangstelling in sokker het toegeneem.

1.1.18 Deelnemende lande het hierdie besluit geneem om die verspreiding van Covid-19 gedurende die Wêreld- Ekonomiese Forum (WEF) in Januarie 2021 te verhoed:

- A Die WEF is deur middel van 'n virtuele platform gehou.
- B Alle deelnemers het tydens die virtuele WEF maskers gedra.
- C Lande het hulle afgevaardigdes na die WEF laat vlieg.
- D Baie lande het nie aan die WEF deelgeneem nie.

1.1.19 Afrika-landmarkte verwys na inkomende toeriste wat ... aankom.

- A vanaf Transatlantiese bestemmings
- B vanaf interkontinentale bestemmings
- C vanaf buurprovinsies
- D deur Suid-Afrika se grensposte

1.1.20 'n Voorbeeld van 'n elektroniese kliënteterugvoeringsinstrument:

- A Skryf in 'n gastejoernaal by 'n hotel
- B Gooi 'n nota in die voorstelhouer
- C Praat met die bestuurder van die besigheid
- D Hou van ('Like') 'n Facebook-plasing op 'n besigheid se webblad

(20 x 1)

(20)

- 1.2 Gee EEN reisdokument vir ELK van die volgende beskrywings deur 'n woord/term uit die lys hieronder te kies. Skryf slegs die woord/term langs die vraagnommers (1.2.1 tot 1.2.5) in die ANTWOORDEBOEK neer, bv. 1.2.6 toeriste-aktiwiteite.

gesondheidsertifikaat; paspoort; PBT (PPE); toeristevisum; OBP(PDP); Covid-19-toets; belastingertifikaat; transitovisum; Schengen-visum
---

- 1.2.1 'n Toeris sal hierdie dokument nodig hê om besigtiging in die oorstaanstad ('stopover city') op pad na sy finalebestemming-land te doen
- 1.2.2 Hierdie dokument vir toeriste verskaf bewys van inenting teen geelkoors
- 1.2.3 Hierdie dokument wat deur die Departement van Binnelandse Sake uitgereik word, stel Suid-Afrikaners in staat om internasionaal te reis
- 1.2.4 Lande sal hierdie uitslae by toeriste vereis wat gedurende die 2020–2021-wêreldpandemie internasionaal reis
- 1.2.5 Hierdie dokument kan vereis word om sekere lande toegang na Europa te verleen (5 x 1) (5)
- 1.3 Kies die korrekte woord(e) uit dié wat tussen hakies gegee word. Skryf slegs die woord(e) langs die vraagnommers (1.3.1 tot 1.3.5) in die ANTWOORDEBOEK neer, bv. 1.3.6 paspoort.
- 1.3.1 Goeie (omgewings-/sosiale) praktyke sluit bronne- en afvalbestuur in.
- 1.3.2 Daar word na die verantwoordelike ingesteldheid van 'n toerismebesigheid teenoor die mense en omgewing wat dit beïnvloed, as (KMB/BBP) verwys.
- 1.3.3 Toerismemaatskappye wat op 'n volhoubare manier besigheid doen, kan deur (FTT/TGRSA) gesertifiseer word.
- 1.3.4 (Omgewings-/Polities-) bewuste toeriste ondersteun besighede wat die drie pilare van die DSB onderskryf.
- 1.3.5 Die verkryging van plaaslike goedere en dienste deur toerismemaatskappye, dra tot (welstandsprogramme/ekonomiese groei) in die plaaslike gebied by. (5 x 1) (5)

1.4 Kies 'n term in KOLOM B wat by die basiese diensvoorwaardes in KOLOM A pas. Skryf slegs die letter (A–G) langs die vraagnommers (1.4.1 tot 1.4.5) in die ANTWOORDEBOEK neer, bv. 1.4.6 H.

KOLOM A		KOLOM B	
1.4.1	Die salaris wat 'n werknemer ontvang vir werk wat gedoen is	A	werksure
1.4.2	'n Bydrae wat deur 'n werkgewer gemaak word sodat 'n werknemer fatsoenlik by die werk verskyn, in ooreenstemming met die besigheidsbeleid	B	kernpligte
		C	vergoeding
		D	aftrekkings
		E	diensbeëindiging
1.4.3	Die besluit wat deur 'n besigheid geneem word wanneer daar nie verder van werknemers verwag word om hulle pligte na te kom nie	F	versorging ('grooming')
		G	uniformtoelae
1.4.4	Die kontraktuele tyd wat 'n werknemer by die plek waar hy in diens is, teenwoordig moet wees		
1.4.5	Die hoofverantwoordelikhede van 'n werknemer terwyl hy/sy by die werk is		

(5 x 1)

(5)

1.5 Lees die scenario hieronder en beantwoord die vraag wat volg.

Mnr. Xondo het R10 miljoen in die Suid-Afrikaanse Nasionale Lotery gewen. Hy het nog nooit vantevore gereis nie en sy droom was nog altyd om op te hou werk en deur die wêreld te reis. Hy sal sy eie reis beplan. Hy sal dus die volgende stappe van die reisbeplanningsproses in gedagte moet hou wanneer hy sy reisprogram saamstel:

**DIE STAPPE VAN DIE REISBEPLANNINGSPROSES**

(in geen spesifieke volgorde nie)

- Koop 'n vlugkaartjie/Bespreek akkommodasie
- Doen navorsing oor die lande wat besoek gaan word
- Doen aansoek vir 'n visum
- Koop buitelandse valuta
- Besluit op die reistydperk

Mnr. Xondo het hulp nodig met die korrekte volgorde van die beplanningsproses vir sy wêreldreis.

Skryf die VYF stappe in die KORREKTE logiese volgorde in die ANTWOORDEBOEK neer.

Voorbeeld: STAP 6 – Plaas foto's van die reis op sosiale media. (5 x 1)

(5)

**TOTAAL AFDELING A: 40**

**AFDELING B: KAARTWERK EN TOERBEPLANNING; BUITELANDSEVALUTA-  
VERHANDELING****VRAAG 2**

2.1 Lees die gevallestudie hieronder en beantwoord die vrae wat volg.








<b>WÊRELDGESONDHEIDSORGANISASIE EN TIKTOK* SNOER KRAGTE SAAM</b>	
	
<p>Die Wêreldgesondheidsorganisasie (WGO) probeer om soveel mense as moontlik te bereik met akkurate inligting oor die Covid-19-pandemie. Hulle het vennootskappe met verskillende sosialemediaplatforms, soos TikTok, gesluit om die verspreiding van verkeerde aanlyn inligting te stop.</p>	
<p>Die Wêreldgesondheidsorganisasie wil:</p>	
<ul style="list-style-type: none"><li>• Die verspreiding van die virus beperk</li><li>• Mense raad gee oor maatreëls om hulleself teen die virus te beskerm</li><li>• Mense na die organisasie se webtuiste en sosialemediaplatforms vir bykomende inligting oor die virus verwys</li></ul>	
<p>Google, Facebook, Twitter en Instagram word ook deur die WGO gebruik om verkeerde inligting te beveg. Die WGO is daarvan oortuig dat TikTok inligting oor die pandemie doeltreffend sal kan versprei as gevolg van die wêreldwye gewildheid wat dit tans geniet.</p>	
<p>*TikTok – 'n sosialemedia-netwerkplatform wat uit videogrepe bestaan</p>	
<p>[Aangepas uit <a href="http://www.theverge.com">www.theverge.com</a>]</p>	

2.1.1 Uit die gevallestudie hierbo, noem die Wêreldgesondheidsorganisasie se hoofrol in die Covid-19-pandemie. (2)

2.1.2 Noem TWEE sosialemediaplatforms (behalwe TikTok) wat die Wêreldgesondheidsorganisasie gebruik om die jongste nuus oor die virus aan die wêreldbevolking oor te dra. (4)

2.1.3 Verduidelik TWEE redes waarom die Wêreldgesondheidsorganisasie vol vertroue is dat sy vennootskap met TikTok sal help om die wêreld oor die virus te leer. (4)

2.2 Verwys na die inligting en prentjies hieronder en beantwoord die vrae wat volg.

<b>HELP MY MET 'N PROBLEEMVRYE AANKOMS!</b>		
<p>Jerome is op pad terug na Suid-Afrika vanaf Suid-Korea. Hy sal deur doeane moet beweeg waar sy bagasie nagegaan sal word. Hy wil nie hê dat daar op sy goedere, wat by die belastingvrye winkels gekoop is, beslag gelê word of dat hy vervolgt word nie.</p>		
<p><b>A</b></p> 	<p><b>B</b></p> 	<p><b>C</b></p> 
<p><b>D</b></p> 	<p><b>E</b></p>  <p style="text-align: right; border: 1px solid black; padding: 2px;">Vyf pare goue armbande</p>	<p><b>F</b></p> 

[Bron: [www.allowances.co.za](http://www.allowances.co.za)]

2.2.1 Kies VIER belastingvrye items uit die opsies wat hierbo gegee is, wat Jerome toegelaat sal word om in Suid-Afrika in te bring.

Skryf slegs die letters (A–F) in jou ANTWOORDEBOEK. (4)

2.2.2 Gee die goedgekeurde toelae (hoeveelhede) vir enige TWEE van die toegelate items wat in VRAAG 2.2.1 gekies is. (4)

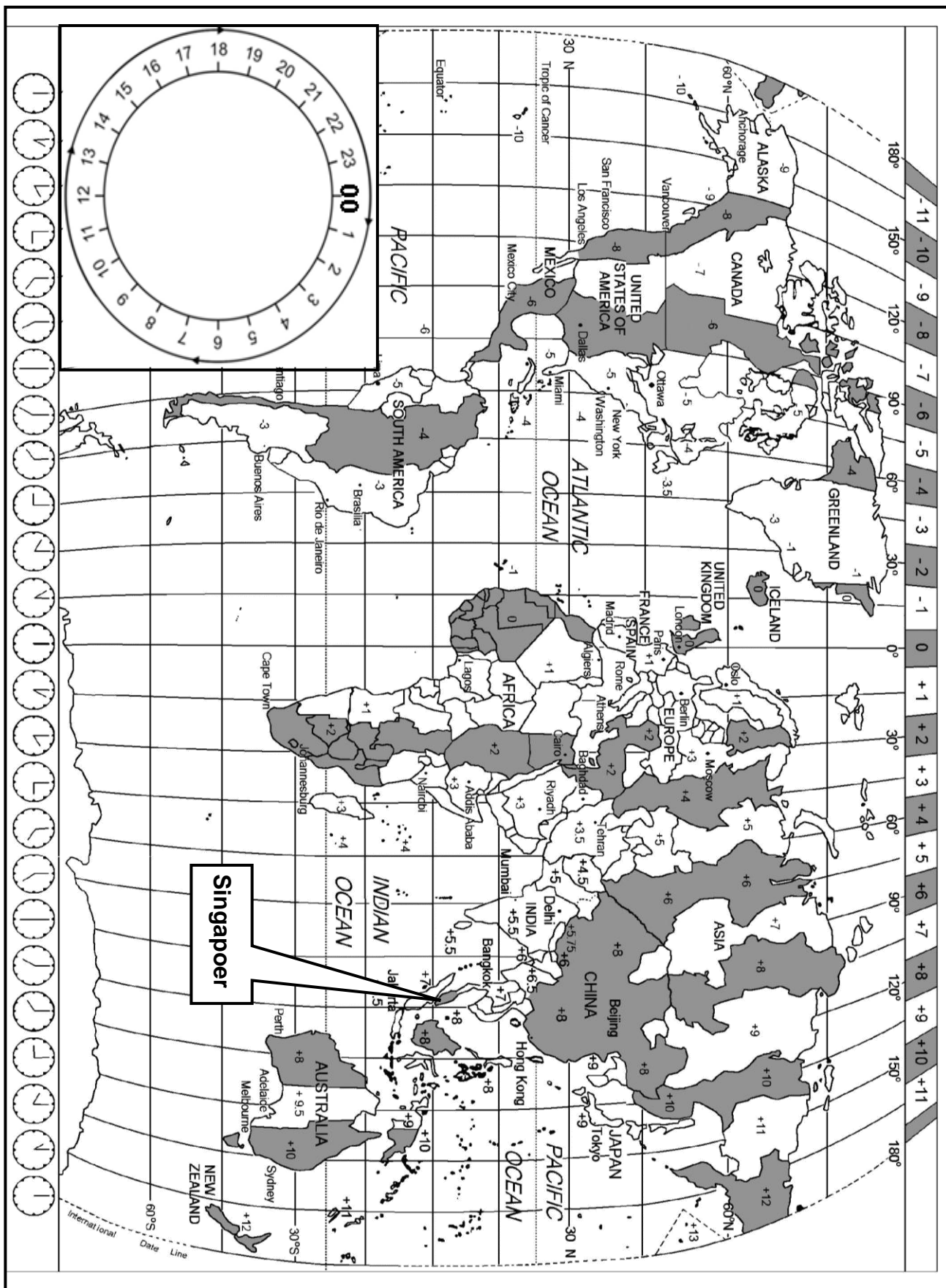
2.2.3 Die items wat in VRAAG 2.2.1 gekies is, val binne die belastingvrye toelaag.

Noem die kanaal waardeur Jerome moet beweeg nadat hy sy bagasie gekry het. (2)

2.2.4 (a) Verduidelik die term *verbode goedere*. (2)

(b) Identifiseer die verbode item in die prentjies hierbo. (2)

2.3 Bestudeer die Wêreldtydsonekaart en die inligting hieronder en beantwoord die vrae wat volg.



**OP PAD ...**

Mev. Abadi het vanaf OR Tambo Internasionale Lughawe (Johannesburg) na Tullamarine Internasionale Lughawe (Melbourne, Australië) gevlieg om haar broerskind se troue by te woon. Die vlug het op Changi Internasionale Lughawe in Singapoer oorgestaan ('stopover').

- Die vlug het om 10:00 op 10 Augustus vanaf OR Tambo Internasionale Lughawe (+2) vertrek.
- Mev. Abadi het op Changi Internasionale Lughawe (+8) 'n aansluitingsvlug na Tullamarine Internasionale Lughawe (+10) gehaal.
- Die vliegtyd vanaf OR Tambo Internasionale Lughawe na Changi Internasionale Lughawe was 10 ure.
- Die oorstaantyd op Changi Internasionale Lughawe was 4 ure.
- Die vliegtyd vanaf Singapoer na Melbourne was 7 ure.

2.3.1 Bereken die tyd in Singapoer toe mev. Abadi om 10:00 op 10 Augustus vanaf OR Tambo Internasionale Lughawe vertrek het.

Toon ALLE berekeninge.

(3)

2.3.2 Bereken mev. Abadi se vertrektyd vanaf Changi Internasionale Lughawe op 11 Augustus.

Toon ALLE berekeninge.


(4)

2.3.3 Bereken mev. Abadi se aankomstyd op Tullamarine Internasionale Lughawe in Melbourne.

Toon ALLE berekeninge.

(5)

2.4 Mev. Abadi het gedurende die eerste paar dae in Melbourne na haar langafstandvlug die volgende simptome ervaar.



[Bron: [www.bodyclock.co.za](http://www.bodyclock.co.za)]

2.4.1 Identifiseer die reisverwante toestand wat mev. Abadi ervaar het.

(2)

2.4.2 Stel EEN manier voor waarop mev. Abadi die simptome van die reisverwante toestand hierbo kan oorkom.

(2)  
**[40]**

**VRAAG 3**

3.1 Lees die inligting, bestudeer die wisselkoerstabel hieronder en beantwoord die vrae wat volg.

Laila het by haar suster in Los Angeles in die VSA gaan kuier. Sy het R20 000 vir haar vakansie gespaar.			
WISSELKOERSE			
LAND	VALUTAKODE	BAK	BVK
Verenigde State van Amerika	USD	15,97	16,87

3.1.1 Gebruik die wisselkoerstabel hierbo om die bedrag wat Laila vir haar vakansie gespaar het in VS-dollars te bereken. Rond jou antwoord tot TWEE desimale plekke af.

(3)

Op die laaste dag van haar inkopies moes Laila tussen twee Lakers-basketbalbaadjies vir haar seun kies. Sy het 'n foto van albei baadjies op WhatsApp gestuur sodat haar seun die finale keuse kon maak. Sy het UDS303,50 oorgehad om te bestee.

<div data-bbox="280 1003 485 1070" data-label="Caption"> <p><b>BAADJIE A</b></p> </div> <div data-bbox="312 1021 711 1368" data-label="Image"> </div> <div data-bbox="280 1391 579 1451" data-label="Caption"> <p><b>PRYS: USD100</b></p> </div>	<div data-bbox="788 1003 992 1070" data-label="Caption"> <p><b>BAADJIE B</b></p> </div> <div data-bbox="871 1039 1246 1335" data-label="Image"> </div> <div data-bbox="788 1391 1070 1451" data-label="Caption"> <p><b>PRYS: USD120</b></p> </div>
--	--

3.1.2 Laila se seun het Baadjie A gekies.

Bereken die bedrag in rand wat sy oorgehad het nadat sy Baadjie A gekoop het. Rond jou antwoord tot TWEE desimale plekke af.

(5)

3.2 Bestudeer die inligting hieronder en beantwoord die vrae wat volg.



[Bron: [www.statssa.gov.za](http://www.statssa.gov.za)]

Covid-19 het 'n skerp afname in die Suid-Afrikaanse ekonomie tot gevolg gehad.

Bespreek EEN invloed van die verswakkende BBP op die Suid-Afrikaanse ekonomie.




(2)  
[10]

**TOTAAL AFDELING B: 50**

**AFDELING C: TOERISMEBESIENSWAARDIGHEDE; KULTUUR- EN ERFENIS-TOERISME; BEMARKING**

**VRAAG 4**

4.1 Bestudeer die ikone en statistiek hieronder en beantwoord die vrae wat volg.

<b>A</b>		<p>Die meerderheid van die 13 miljoen toeriste wat hierdie ikoon elke jaar besoek, is plaaslike toeriste. Drie miljoen steek die grens vanaf die Verenigde State oor en een miljoen is internasionale toeriste.</p>
<b>B</b>		<p>Ongeveer 20 miljoen toeriste besoek hierdie stad jaarliks en hierdie getal neem elke jaar toe. Hierdie stad is op 118 klein eilandjies met waterkanale in plaas van paaie gebou.</p>
<b>C</b>		<p>Meer as 10,9 miljoen toeriste besoek jaarliks hierdie kunssentrum in die hawestad.</p>

[Bron: [www.tripadvisor.com](http://www.tripadvisor.com)]

- 4.1.1 (a) Identifiseer ikone **A** tot **C** hierbo. (3)
- (b) Noem die kontinent waar ELK van ikone **A** tot **C** geleë is. (3)
- 4.1.2 Verwys na die besoekersgetalle van ikoon **A**.  
Identifiseer die hoofbronmark wat hierdie ikoon besoek. (2)
- 4.1.3 Vergelyk die besoekersgetalle vir ikoon **B** en **C**.  
Gee EEN rede waarom ikoon **B** gewilder as ikoon **C** is. (2)

## 4.2 Lees die gevallestudie hieronder en beantwoord die vrae wat volg.



<b>VERBETER TOERISME BY 'N ANTIEKE TERREIN</b>	
	<p>Toeriste wat die Groot Piramides besoek, reis na 'n woestynggebied, die Giza Plato. As deel van 'n opgradering van die 4 500-jaar-oue terrein is 'n nuwe internasionale lughawe daar naby gebou, paaie is verbeter en 'n nuwe ingang met 'n besoekersentrum is beplan.</p>
<ul style="list-style-type: none"> <li>• Die nuwe besoekersentrum sal 15 kaartjievensters hê, spesiaal toegeken aan mense met spesiale behoeftes, Egiptiese burgers, buitelanders en studente.</li> <li>• Die inligtingsentrum sal ook 'n teater met 150 sitplekke, 18 geskenkwinkels, 'n kafee, restaurant, kliniek en badkamers hê.</li> <li>• Besoekers se voertuie sal nie in die argeologiese areas toegelaat word nie en besoekers moet kameel- en perderitte, elektriese motors en elektriese toerbusse gebruik om die terreine te besoek.</li> <li>• Plaaslike straatverkopers soos kunshandwerkers, perd- en kameel-eienaars, handelaars en fotografe sal opleiding ontvang en stalletjies sal aan hulle toegeken word om hulle besighede te bedryf.</li> <li>• Opleiding sal gehalteprodukte en -dienste teen kompeterende pryse verseker sonder dat straatverkopers besoekers aanstoot gee.</li> </ul>	
<p>[Aangepas uit <a href="http://www.enterprise-press.com">www.enterprise-press.com</a>]</p>	

- 4.2.1 (a) Noem die land waar die Groot Piramides geleë is. (1)
- (b) Noem die kontinent waar die Groot Piramides geleë is. (1)
- 4.2.2 Verduidelik EEN rede waarom die Groot Piramides van Giza as 'n begraafplaas beskou word. (2)
- 4.2.3 Voltooi die stelling: Die liggaam van die Sfinks is in die vorm van 'n ... (2)
- 4.2.4 Die Groot Piramides kan as 'n suksesvolle toeriste-besienswaardigheid bedryf word.
- Bespreek TWEE voorbeelde ELK hoe:
- (a) Volhoubare en verantwoordelike bestuursplanne geïmplementeer word (4)
- (b) Personeel se gedrag bekwaam en eties sal wees (4)
- 4.2.5 Uit die gevallestudie, verskaf bewyse dat die Groot Piramides:
- (a) Vir beide plaaslike en internasionale toeriste voorsiening maak (2)
- (b) 'n Positiewe invloed op die plaaslike gemeenskap het (2)

**[28]**

**VRAAG 5**

Bestudeer die volgende inligting en beantwoord die vrae wat volg:

<b>HULP OF INMENGING MET DIE NATUUR?</b>	
<p>Die iSimangaliso Vleilandpark is in Desember 1999 as een van Suid-Afrika se eerste Wêrelderfenisterreine gelys om aan die pragtige natuurskoon, unieke natuurlike waardes en biologiese rykdom erkenning te gee.</p>	<p>Hierdie Wêrelderfenisterrein sluit mere (natuurlike damme) in met Afrika se grootste riviermonding (wat in die see in vloei). Die riviermonding is geleidelik oor die jare deur sand geblokkeer. Dit het met die natuurlike vloei van water en diere tussen die riviermeerstelsel en die see ingemeng.</p>
	
<p>In Januarie 2021 is swaar toerusting gebruik om die sand te verwyder en die riviermonding oop te maak. Die gevolg was dat plaaslike inwoners, vissermanne en eienaars van watergebaseerde toerismebesighede opgewonde was om hulle sakebedrywighede te laat herleef.</p>	<p>Sommige omgewingsbewustes en wetenskaplikes was egter ontsteld oor die menslike ingryping. Hulle sou verkies het dat die natuur sy gang gaan.</p>

[Aangepas uit [www.iol.co.za](http://www.iol.co.za) en [www.timeslive.co.za](http://www.timeslive.co.za)]

- 5.1 Noem die provinsie waarin die iSimangaliso Vleilandpark geleë is. (1)
- 5.2 Kies die korrekte soort Wêrelderfenisterrein tussen hakies:  
iSimangaliso Vleilandpark is 'n (natuurlike/kulturele/gemengde) Wêrelderfenisterrein. (1)
- 5.3 Sand wat die rivier en meer verhinder het om in die see te vloei, is in Januarie 2021 verwyder.
  - 5.3.1 Noem die organisasie wat vir Wêrelderfenisterreine verantwoordelik is en wat moontlik oor die Januarie-aktiwiteit by die iSimangaliso Vleilandpark besorg sal wees. (2)
  - 5.3.2 Verduidelik EEN rede waarom die organisasie wat in VRAAG 5.3.1 genoem is, oor hierdie aktiwiteit besorg sal wees. (2)

- 5.3.3 Bespreek TWEE maniere waarop die verwydering van die sand om die riviermonding oop te kry, die plaaslike toerismebedryf rondom die iSimangaliso Vleilandpark sal bevoordeel. (4)
- 5.4 Noem die ander Wêrelderfenisterrein wat in dieselfde provinsie as die iSimangaliso Vleilandpark geleë is. (2)  
[12]

**VRAAG 6**

Bestudeer die inligting en die aanlyn bladsy hieronder om die vrae wat volg, te beantwoord.

NUWE 'GOOGLE ARTS AND CULTURE'-TOEP/AANLYN BLADSY	
<p>'Google Arts and Culture' en SAToerisme het die aanlyn uitstalling, Suid-Afrika: 'n Ontdekker Se Paradys' in Februarie 2021 geloods. Besoekers van regoor die wêreld kan Suid-Afrika virtueel ontdek deur 'n versameling van 500 visuele beelde en video's, 55 straatansigte en 20 digitale stories.</p> <p>Die aanlyn uitstalling is die eerste fase om Suid-Afrika se diverse mense, sy ryk kultuurerfenis en sy asemrowende landskappe te vier.</p>	 <p>The screenshot shows the Google Arts &amp; Culture interface. At the top, there is a search bar with the text 'Google Arts &amp; Culture' and a magnifying glass icon. Below this is the South African flag with the text 'South Africa' and the tagline 'Inspiring new ways'. The main heading reads 'Suid-Afrika: 'n Ontdekker se Paradys'. Below the heading, it says 'Deel een van 'n reis na die asemrowende uitsigte en opwindende natuur van Suid-Afrika'. At the bottom of the screenshot, there are icons for a heart (favorites) and a share icon.</p>

[Aangepas uit [www.mediaxpose.co.za](http://www.mediaxpose.co.za)]

- 6.1 Identifiseer die organisasie wat vir die herlewing van die plaaslike toerismebedryf verantwoordelik is, deur innoverende bemerking van Suid-Afrika as 'n internasionale voorkeurbestemming. (2)
- 6.2 Verduidelik TWEE maniere waarop die aanlyn uitstalling die kernfunksie van koördinering van bemerkingsaktiwiteite sal vervul. (4)
- 6.3 Identifiseer EEN handelsmerkstrategie op die aanlyn bladsy hierbo. (2)
- 6.4 Handelsmerke en aanlyn bemerking is duur.
- Bespreek EEN manier waarop die organisasie in VRAAG 6.1 geïdentifiseer, privaatsektor-befondsing ontvang. (2)  
[10]

**TOTAAL AFDELING C: 50**

## AFDELING D: TOERISESEKTORE; VOLHOUBARE EN VERANTWOORDELIKE TOERISME

### VRAAG 7

7.1 Bestudeer die inligting hieronder en beantwoord die vrae wat volg

<b>e-PROFESSIONALISME</b>	
<p><b>Stel Jou Besigheid op Sosiale Media Bekend</b> Die sosialemedia-profiel van die besigheid, sy eienaars en werknemers moet pas by die beeld wat die besigheid aan sy klante wil voorhou.</p>	
	<p>In vandag se verhouding-gefokusde, hoogs gekonnekteerde werkomgewing, is 'n begrip van die waarde van sosiale media 'n vereiste vir sukses. Of personeel met mense aanlyn, op die selfoon of rekenaar vergader, maak daardie allerbelangrike menslike interaksie-vaardighede 'n groot verskil. Alles gaan daarvoor om die regte indruk te skep met jou kennis en vermoë om goeie maniere, besigheids- en sosiale etiket, netiket, protokol, hoflikheid en sjarme te gebruik. Dit vereis vaardigheid, oefening en volgehoue toewyding om 'n professionele aanlyn teenwoordigheid te behou.</p> <p style="text-align: right;">[Bron: <a href="https://expertbeacon.com">https://expertbeacon.com</a>]</p>

- 7.1.1 Verduidelik wat met die *beeld* van 'n besigheid bedoel word. (2)
- 7.1.2 Uit die uittreksel hierbo, identifiseer die term wat gebruik word om aanvaarbare aanlyn gedrag te beskryf. (2)
- 7.1.3 Bespreek EEN gevolg vir 'n besigheid indien dit die belangrikheid van hulle professionele aanlyn teenwoordigheid verontagsaam. (2)
- [6]**

7.2 Lees die uittreksel hieronder en beantwoord die vrae wat volg.

### **SOSIALEMEDIA-DISPUUT**

Mnr. Williams, 'n werknemer by 'n bekende hotel, het gereeld op sosiale media na sy werkplek as die 'Hotel uit die Hel' verwys. Hy is deur sy 'sosiale-media-vriend' (wat toevallig ook sy werkskollega was) by die hotelbestuur verkla vir die oortreding van die hotel se gedragskode, wat 'n streng sosialemedia-beleid ingesluit het. Die kollega het mnr. Williams ook daarvan beskuldig dat hy ander personeel, wat ook sy aanlyn vriende was, negatief beïnvloed het.

Mnr. Williams het skriftelike waarskuwings ontvang, maar het voortgegaan om opmerkings te maak oor hoe hy nie van die plek gehou het waar hy gewerk het nie – al het hy nie die naam van die hotel genoem nie. Hy het nie opgehou om beledigende opmerkings te plaas nie en het selfs teisterende en treiterende opmerkings teen die kollega wat hy vermoed het hom verkla het, op sosiale media geplaas. Na afloop van 'n interne tugverhoor is mnr. Williams onmiddellik as gevolg van sy sosialemedia-plasings ontslaan.

[Bron: Eie bron]

7.2.1 Verduidelik hoe mnr. Williams die hotel se sosialemedia-beleid oortree het. (2)

7.2.2 Mnr. Williams se sosialemedia-vriend (werkskollega) het sy plasings aan die hotelbestuur gerapporteer.

As jy in dieselfde posisie by die werk was, sou jy ook mnr. Williams se gedrag gerapporteer het? Kies uit JA of NEE.

Gee TWEE redes vir jou antwoord. (4)

7.2.3 Die waarde van 'n gedragskode is om 'n koöperatiewe, samewerkende atmosfeer te skep wat integriteit in die werkplek bevorder.

Verduidelik DRIE maniere waarop die hotel se gedragskode in die scenario hierbo sy doel gedien het. (6)

**[12]**

**VRAAG 8**

8.1 Bestudeer die volhoubaarheidsinisiatief, RAIN, van 'n internasionale koeldrankmaatskappy en beantwoord die vrae wat volg.



The image shows a group of people, including children, gathered around a large water dispenser. To the right is the RAIN logo, which includes a water drop icon above the word 'rain', followed by 'WATER VIR AFRIKA™'. Below this is a banner that says 'LEWE POSITIEF' with a recycling symbol and a bottle icon.

[Aangepas uit <https://wash4work.org>]

RAIN verskaf toegang tot veilige drinkwater, sanitasie en higiëne vir meer as 300 000 skoolkinders om hulle onderwysomgewing te verbeter. Hulle verskaf ook sanitasie aan meer as 350 000 mense in 37 lande.



Gemeenskapshigiëne-programme het gedurende die Covid-19-pandemie voortgegaan in Afrika-lande, waar die internasionale koeldrankmaatskappy 5 000 handwasstasies gebou het.



In **Suid-Afrika** werk RAIN saam met die Departement van Basiese Onderwys en H2O for Life om skoon drinkwater, sanitasiefasiliteite en higiëne-opvoeding aan 100 skole te verskaf. Hierdie inisiatief bevoordeel 'n geskatte 60 000 leerders regoor die land. RAIN Water for Schools wil ook 'n volhoubare model vir bedrywighede en infrastruktuur-instandhouding ontwikkel, wat die nasionale regering kan uitbrei.

[Aangepas uit [www.coca-colacompany.com/sustainable-business](http://www.coca-colacompany.com/sustainable-business)]

8.1.1 Noem die pilaar van die driedubbele slotreël wat deur RAIN, die internasionale koeldrankmaatskappy in die uittreksel hierbo, beoefen word. (2)

8.1.2 Verduidelik EEN rede waarom hierdie inisiatief as die koeldrankmaatskappy se KMB-inisiatief beskou kan word. (2)

- 8.2      8.2.1      Die koeldrankmaatskappy fokus op DRIE sleutelareas in hulle RAIN Water for Schools-inisiatief in Suid-Afrika.
- In 'n paragraaf, bespreek die voordele van hierdie sleutelareas vir die skole.
- Jou paragraaf moet die volgende sleutel-fokusareas insluit:
- Verskaf skoon drinkwater
  - Sanitasiefasiliteite
  - Higiëne-opvoeding
- 8.2.2      Gee jou opinie oor waarom die koeldrankmaatskappy 5 000 hande-  
wasstasies gedurende die Covid-19-pandemie gebou het, in plaas  
daarvan om net reinigingsmiddels aan gemeenskappe uit te deel.
- TOTAAL AFDELING D:      30**

## AFDELING E: PLAASLIKE, STREEKS- EN INTERNASIONALE TOERISME; KOMMUNIKASIE EN KLIËNTEDIENS

### VRAAG 9

- 9.1 Bestudeer die inligting hieronder uit die TBRSA se Covid-19-protokol vir die toerismebedryf en beantwoord die vrae wat volg.

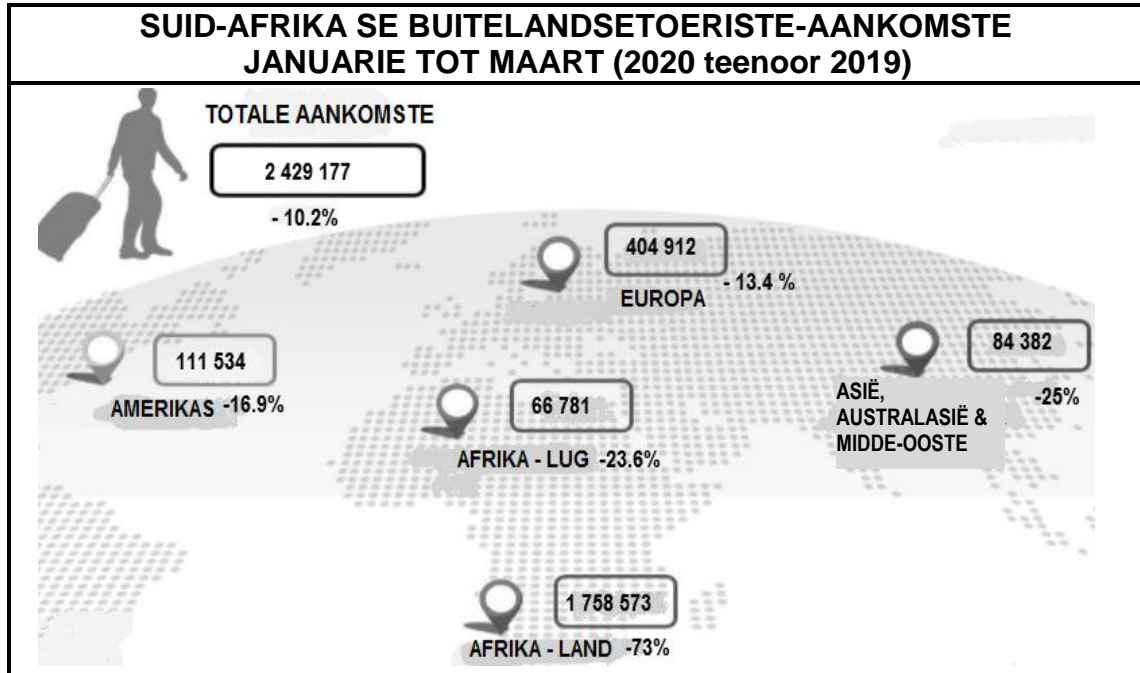
Die toerismebesigheidsraad van Suid-Afrika (TBRSA) het Covid-19-protokol vir alle toerismebesighede saamgestel om veiligheidsmaatreëls en bedryfsprosedures te standaardiseer om personeel en klante te beskerm en om die ekonomiese ineenstorting van die sektor af te weer.

<b>COVID-19-PROTOKOL VIR DIE TOERISMEBEDRYF</b>	
<b>VIR KLANTE</b>	<b>VIR PERSONEEL</b>
<ul style="list-style-type: none"> <li>• Mediese verklaring</li> <li>• Toegang- en kapasiteitsbeheer</li> <li>• Fisiesedistansiëringstandaarde</li> <li>• Klante-PBT(PPE)</li> <li>• Monitering van temperatuur</li> </ul>	<ul style="list-style-type: none"> <li>• Aangewese gesondheids- en veiligheidsbeampte</li> <li>• Personeelopleiding en inligting</li> <li>• Fisiesedistansiëringstandaarde</li> <li>• Personeel-PBT(PPE)</li> <li>• Monitering van temperatuur</li> </ul>

[Aangepas uit [www.toerisme.gov.za](http://www.toerisme.gov.za)]

- 9.1.1 Noem die tipe onvoorsiene gebeurtenis wat deur Covid-19 veroorsaak is. (2)
- 9.1.2 Verduidelik waarom die TBRSA hierdie protokol vir toerismebesighede moes spesifiseer. (2)
- 9.1.3 Noem VIER soorte protokol in die inligting hierbo wat 'n invloed op die personeel by toerismebesighede sal hê. (4)
- 9.1.4 Bespreek TWEE maniere waarop die protokol van toegang en kapasiteitsbeheer (verpligte skandering en beperking van getalle) negatiewe gevolge vir die akkommodasiesektor ingehou het. (4)
- 9.2 Gee TWEE redes waarom gasheerlande aandring op bewys van 'n negatiewe Covid-19-toetsuitslag voordat toeriste toegelaat word om hulle land binne te kom. (4)

9.3 Bestudeer die inligting oor Suid-Afrika se buitelandsetoeriste-aankomste hieronder en beantwoord die vrae wat volg.



[Bron: [www.southafrica.net](http://www.southafrica.net)]

9.3.1 Identifiseer die neiging in al Suid-Afrika se inkomende toeristemarkte in 2020. (2)

9.3.2 In 'n paragraaf, beveel VIER maniere aan waarop SAToerisme die toerismebedryf kan vernuwe en laat herleef om van die Covid-19-  
krisis te herstel. (8)

[26]

**VRAAG 10**

Bestudeer die prent hieronder en beantwoord die vrae wat volg.



[Aangepas uit: [www.tbcsa.travel](http://www.tbcsa.travel)]

- 10.1 Gee die naam van die toepassing (toep) in die prent hierbo wat gedurende Covid-19-toestande vir klante handig sal wees. (2)
- 10.2 Verduidelik EEN rede waarom toeriste positief op die toep in VRAAG 10.1 sal reageer. (2)
- [4]**

**TOTAAL AFDELING E: 30**  
**GROOTTOTAAL: 200**



# basic education

Department:  
Basic Education  
**REPUBLIC OF SOUTH AFRICA**

## **NASIONALE SENIOR SERTIFIKAAT**

**GRAAD 12**

**TOERISME**

**NOVEMBER 2021**

**NASIENRIGLYNE**

**PUNTE: 200**

**Hierdie nasienriglyne bestaan uit 16 bladsye.**

**INLIGTING VIR NASIENERS**

<b>ONDERWERPE IN DIE TOERISME KABV</b>		<b>AFKORTING</b>
Onderwerp 1	Toerismesektore	TS
Onderwerp 2	Kaartwerk en toerbepanning	KTB
Onderwerp 3	Toerisme besienswaardighede	TB
Onderwerp 4	Volhoubare en verantwoordelike toerisme	VVT
Onderwerp 5	Plaaslike, streeks- en internasionale toerisme	PSI
Onderwerp 6	Kultuur- en erfenistoerisme	KE
Onderwerp 7	Buitelandse valutaverhandeling	BVV
Onderwerp 8	Kommunikasie en kliëntediens	KK
Onderwerp 9	Bemarking	B

**AFDELING A: KORTVRAE****VRAAG 1**

1.1	1.1.1	C✓/ Roeteplan	KTB
	1.1.2	A✓/ Persoonlik	KTB
	1.1.3	B✓/ seker maak dat bagasie veilig gesluit is.	KTB
	1.1.4	D✓/ Gebruik 'n sonbeskermingsmiddel wat 'n hoë sonbeskermsfaktor bevat.	KTB
	1.1.5	A✓/ Geldige Suid-Afrikaanse bestuurslisensie	KTB
	1.1.6	D✓/ Duitsland	TB
	1.1.7	A✓/ het godsdienstige belang.	TB
	1.1.8	D✓/ Wieg van die Mensdom.	KE
	1.1.9	B✓/ Geologiese bewyse van 'n meteoriet-impakstruktuur	KE
	1.1.10	B✓/ verhoging in toeristevolumes	B
1.1.11	D ✓ / Positiewe interaksie met kliënte	TS	
1.1.12	A ✓ / Hulle sal byvoordele soos afslag op reise geniet.	TS	
1.1.13	C✓ / sosiale media	TS	
1.1.14	D✓ / Gedragskode	TS	
1.1.15	D✓ / Ontwerp van verpakking	TS	
1.1.16	C✓/ protesaksie	PSI	
1.1.17	B✓/ Sokkerstadions was leeg.	PSI	
1.1.18	A✓/ Die WEF is deur middel van 'n virtuele platform gehou.	PSI	
1.1.19	D✓/ deur Suid-Afrika se grensposte	PSI	
1.1.20	D✓/ Hou van ('Like') 'n Facebook-plasing op 'n besigheid se webblad	KK	
			(20 x 1) (20)
1.2	1.2.1	transitovisum ✓	KTB
	1.2.2	gesondheidsertifikaat ✓	KTB
	1.2.3	paspoort✓	KTB
	1.2.4	Covid-19-toets✓	KTB
	1.2.5	Schengen-visum✓	KTB (5)
1.3	1.3.1	omgewings- ✓	VVT
	1.3.2	KMB ✓	VVT
	1.3.3	FTT ✓	VVT
	1.3.4	Omgewings- ✓	VVT
	1.3.5	ekonomiese groei ✓	VVT (5)
1.4	1.4.1	C✓ / vergoeding	TS
	1.4.2	G ✓ / uniformtoelae	TS
	1.4.3	E✓ / diensbeëindiging	TS
	1.4.4	A✓ / werksure	TS
	1.4.5	B✓ / kernpligte	TS (5)

1.5	STAP 1	Doen navorsing oor die lande wat besoek gaan word. ✓	KTB
	STAP 2	Besluit op die reistydperk ✓	KTB
	STAP 3	Koop 'n vlugkaartjie / Bespreek akkommodasie ✓	KTB
	STAP 4	Doen aansoek vir 'n visum ✓	KTB
	STAP 5	Koop buitelandse valuta ✓	KTB (5)

**Let Wel:** STAP 1 en STAP 2 kan omgeruil word.

**TOTAAL AFDELING A: 40**

**AFDELING B: KAARTWERK EN TOERBEPLANNING; BUITELANDSE VALUTA-  
VERHANDELING****VRAAG 2**

- 2.1 2.1.1 Die WGO werk om die verspreiding van die virus te beperk. ✓✓ KTB (2)
- Hulle gee raad aan mense om maatreëls in plek te hê om hulself teen die virus te beskerm.
  - Verwys mense na die organisasie se webtuiste en sosiale media platforms vir bykomende inligting oor die virus.
- 2.1.2 Google✓✓ KTB  
Facebook✓✓ (4)
- Twitter
  - Instagram
- Let Wel:** TikTok word nie aanvaar nie
- 2.1.3 TikTok het 'n groot, groeiende gehoor en is 'n gewilde toep wat deur baie gebruik word. ✓✓ KTB  
Die gehoor is meestal Generasie Z en hulle kan ambassadeurs wees om sterker aksie deur die jeug teen die virus aan te moedig. ✓✓ (4)
- Die aantal gebruikers styg wêreldwyd en daarom kan inligting oor die virus groter gehore vinniger bereik.
  - Die video's is kort en maklik om te volg, sonder 'n oormaat inligting, wat dit makliker maak om 'n boodskap by die regte gehoor te kry.
- 2.2 2.2.1 B✓ C✓ D✓ F✓ KTB (4)
- E
  - Parfuum / eau de toilette
  - Sigarette
  - Wyn / sterk drank
  - Tabak
  - Goue armbande ter waarde van R5 000
- Let Wel:** Aanvaar enige volgorde
- 2.2.2 B - nie meer as 50 ml parfuum nie✓✓ KTB  
• nie meer as 250 ml eau de toilette nie. (4)  
C - nie meer as 200 sigarette nie✓✓
- D - nie meer as 2 liter wyn per persoon nie
  - nie meer as 1 liter sterk drank nie
  - F - nie meer as 250 g pyptabak per persoon nie
  - E- nuwe en gebruikte goedere tot die waarde van R5 000 (die goue armbande mag aan hierdie regulasie onderhewig wees)
- 2.2.3 Groen kanaal✓✓ KTB (2)

- 2.2.4 (a) Verwys na goedere wat reisigers, volgens wet, nie toelaat om in 'n land in te bring nie. ✓✓ KTB (2)
- Dit is onwettige goedere wat nie in 'n land ingebring mag word nie.

**Let Wel:** Moenie voorbeelde aanvaar nie

- (b) A✓✓ KTB (2)
- dinamiet / plofstof

2.3	2.3.1	Suid-Afrika +2	Singapoer +8	KTB
		Tydsverskil	= 6 ure ✓	
		Tyd in Singapoer	10:00 (+✓) 6 ure = 16:00✓	(3)
		<b>OF</b>		
		16:00✓✓✓		

	2.3.2	Aankomstyd in Singapoer	16:00 (+✓) 10 ure vliegtyd = 02:00 ✓	KTB
		Oorstaantyd	02:00 (+✓) 4 ure	
		Vertrektyd	= 06:00✓	(4)
		<b>OF</b>		
		06:00✓✓✓✓		

	2.3.3	Singapoer +8	Melbourne +10	KTB
		Tydsverskil	= 2 ure ✓	
		Tyd in Melbourne	06:00 (+✓) 2 ure = 08:00✓	
		Vliegtyd	08:00 (+✓) 7 ure	
		Aankomstyd	= 15:00 ✓	(5)
		<b>OF</b>		
		15:00 ✓✓✓✓✓		

- 2.4 2.4.1 Vlughooisheid✓✓ KTB (2)

- 2.4.2 Kry genoeg slaap en rus ✓✓ KTB (2)
- Verander die tyd na die plaaslike tyd.
  - Neem genoeg vog in.
  - Vermy drankies wat kaffeïen of alkohol bevat.
  - Doen oefeninge op die vliegtuig.
  - Dra lospassende klere om genoegsame bloedsirkulasie te bevorder.
  - Eet ligte etes.
  - Neem medikasie om vlugvoosheid te verlig.

[40]

**VRAAG 3**

3.1	3.1.1	ZAR 20 000 ÷ ✓ 16,87 ✓	= USD 1185, 54 ✓	BVV (3)
		<b>OF</b>		
		USD 1185, 54 ✓ ✓ ✓		
3.1.2		USD 303,50 – ✓ USD100 ✓	= ZAR 203,50	BVV (5)
		USD 203,50 x ✓ 15,97 ✓	= ZAR 3249,90 ✓	
		<b>OF</b>		
		ZAR 3249,90 ✓ ✓ ✓ ✓ ✓		

- 3.2 Werkloosheid wat tot meer armoede lei. ✓✓ BVV (2)
- As gevolg van minder vervaardiging van goedere en dienste, sal werkloosheid styg, wat werksverliese tot gevolg het.
  - Werknemers mag afgedank word of sal laer lone moet aanvaar, wat beteken daar is minder geld beskikbaar vir basiese behoefte of werksverliese.
  - Beleggers sal waarskynlik minder in 'n ekonomie belê wat nie groei nie.
  - Mense sal minder geld / besteebare inkomste hê om te spandeer.
  - Die land kan in 'n resessie verval met verlaagde rentekoerse en hoër inflasie wat lei tot verbruikers wat geld leen en meer skuld maak.
  - Omkeer van die vermenigvuldigereffek.
  - Prysverhoging vir goedere en dienste.

[10]

**TOTAAL AFDELING B: 50**

**AFDELING C: TOERISMEBESIENSWAARDIGHEDE; KULTUUR- EN ERFENISTOERISME; BEMARKING****VRAAG 4**

- 4.1 4.1.1 (a) A – Niagara-waterval ✓ TB  
B – Venesië ✓ (3)  
C – Sydney Operahuis ✓
- (b) A - Noord-Amerika ✓ TB  
B - Europa ✓ (3)  
C - Australië ✓ / Australasië
- 4.1.2 Plaaslike toeriste ✓✓ TB (2)  
• Kanadese
- 4.1.3 Icoon **B** het besoekersgetalle vir 'n hele stad (Venesië) en die besoekersgetalle vir ikoon **C** is vir een attraksie/ikoon in die stad (Sydney). ✓✓ TB (2)  
• Sydney is 'n langafstand-bestemming  
• Venesië is naby aan die lande in Europa.  
• Venesië is 'n antieke stad van historiese belang.  
• Daar is unieke attraksies in die stad wat op water gebou is.  
• Minder menses al 'n hawe besoek (Sydney) as toeriste wat tussen baie attraksies in 'n stad rondreis (Venesië).  
• Venesië word as 'n romantiese stad beskou en mag dalk meer paartjies hê wat daarheen gaan, as Sydney.
- 4.2 4.2.1 (a) Egipte ✓ TB (1)
- (b) Afrika ✓ TB (1)
- 4.2.2 Die piramides was as graftombes vir die Farao's gebou (Egiptiese konings) ✓✓ TB (2)  
• Die gebalmde mummies van die koninklikes en edel families van Egipte is daar begrawe.
- 4.2.3 leeu ✓✓ TB (2)
- 4.2.4 (a) Voertuie wat dalk die terrein kan beskadig, word by die besoekersentrum gelos. ✓✓ TB  
Tradisionele kameel-en perderitte het 'n lae impak op die omgewing en word slegs in seker areas toegelaat. ✓✓ (4)  
• Elektriese motors verminder besoedeling wat deur petrol of dieselenjins veroorsaak word.  
• Stalletjies sal slegs in aangewese areas toegeken word.

**Let Wel:** Aanvaar voorbeelde van volhoubare en verantwoordelike bestuursplanne.

- (b) Werkers en straatverkopers wat besighede bedryf, sal opgelei word om kwaliteit produkte en uitstekende dienslewering te verskaf. ✓✓  
 Planne is in plek om te verseker dat kwaliteit produkte en dienste verskaf word. ✓✓ (4)
- Kompeterende pryse vir plaaslike straatverkopers.
  - Personeel hanteer besoekers sonder om aan hulle aanstoot te gee.
  - Baie kaartjievensters versnel kaartjieverkope wat vir 'n verskeidenheid van toeriste gereserveer is.
  - 18 geskenkwinkels verminder samedromming van groot skares.

**Let Wel:** Aanvaar voorbeelde van bekwame en etiese gedrag.

- 4.2.5 (a) Daar is 'n nuwe internasionale lughawe vir internasionale toeriste en die infrastruktuur van die pad is verbeter vir plaaslike besoekers. ✓✓ (2)
- Daar is kaartjievensters vir Egiptiese burgers (plaaslik) en uitlanders (internasionale) wat die terrein besoek.

- (b) Kunshandwerkers en handelaars van die plaaslike gemeenskap het stalletjies op die terrein. ✓✓ (2)
- Perd en kameel-eienaars word toegelaat om hulle buitengewone vorms van vervoer by die Groot Piramides te bedryf.
  - Inwoners van die plaaslike gemeenskap is fotografeer wat foto's neem en verskaf en sodoende geld verdien.
  - Plaaslike bestuurders word in diens geneem om die elektriese voertuie te bestuur.
  - Kundige plaaslike inwoners werk in die besoeker- en inligtingsentrums.
  - Geleentheid vir entrepreneurskap in die geskenkwinkels vir plaaslike aandenkings.
  - Die plaaslike gemeenskapslede sal opleiding (vaardigheidsontwikkeling) ontvang.
  - Verbetering van plaaslike infrastruktuur in die omgewing van die Groot Piramides.

[28]

**VRAAG 5**

- 5.1 KwaZulu-Natal ✓ KE (1)  
• KZN
- 5.2 natuurlike ✓ KE (1)
- 5.3 5.3.1 UNESCO ✓✓ KE (2)  
• Verenigde Nasies Opvoedkundige, Wetenskaplike en Kulturele Organisasie
- 5.3.2 Die status van iSimangaliso Vleilandpark as 'n Wêrelderfenis-terrein kan in die gedrang kom. ✓✓ KE (2)  
• Dis was as 'n natuurlike terrein verklaar, en menslike inmenging (bv. die gebruik van swaar toerusting) bring sy natuurlike status in gedrang.
- 5.3.3 Meer spesialebelangstelling-toeriste soos vissermanne sal kom visvang. ✓✓ KE (4)  
Water-gebaseerde toerisme aktiwiteite sal kan plaasvind met 'n groter vloei van water, seelewe en wildlewe. ✓✓  
• Ekotoerisme sal verhoog.  
• Lodges en akkommodasie instellings sal meer besoekers ontvang.  
• Bevorder wetenskaplike navorsing en opleiding sowel as omgewingsbewustheid.
- 5.4 Maloti-Drakensberg Park ✓✓ KE (2)  
• uKhahlamba Drakensberg Park
- [12]**

**VRAAG 6**

- 6.1 Suid-Afrikaanse Toerisme ✓✓ B (2)  
• SAToerisme
- Let Wel:** Moenie SAT aanvaar nie.
- 6.2 Vennootskappe met rolspelers uit die bedryf snoer advertensiepogings saam. ✓✓ B (4)  
Media soos 'Google Arts and Culture' dra by om wat Suid-Afrika aan plaaslike en internasionale markte kan bied, ten toon te stel. ✓✓  
• Die gebruik van die Inspirerende Nuwe Maniere-logo verskaf handelmerkidentiteit om meer toeriste na 'n herkenbare bestemming te lok.  
• Om verskeie prente, video's, straataansigte en stories alles op een plek te hê, stel Suid-Afrika se kulturele diversiteit en natuurskoon aan die res van die wêreld ten toon.  
• Deur van 'n aanlynplatform gebruik te maak, word SAToerisme se bemarkingspogings aan virtuele realiteit en aan die hele digitale wêreld verbind.  
• Dit is 'n koste-effektiewe platform om Suid-Afrika plaaslik en internasionaal te bemark.

- 6.3 Suid-Afrika se handelsmerk-logo ✓✓ **B (2)**
- Inspirerende Nuwe Maniere – slagspreuk
  - Deel 'Google Arts and Culture' handelsmerk – Suid-Afrika: 'n Ontdekker se Paradys.
- 6.4 TBRSA betaal die geld wat van heffingbydraers ingevorder word, kwartaalliks aan SA Toerisme oor. ✓✓ **B (2)**
- 1% TOMSA-heffing word deur deelnemende toerisme besighede van toeriste af ingevorder.
- [10]**
- TOTAAL AFDELING C: 50**

**AFDELING D: TOERISMESEKTORE; VOLHOUBARE EN VERANTWOORDELIKE TOERISME****VRAAG 7**

- 7.1 7.1.1 Die manier hoe die besigheid wil hê sy kliënte moet hom sien. ✓✓ TS (2)
- 7.1.2 Netiket✓✓ TS (2)
- e-professionalisme
- 7.1.3 Die kliënte sal vertroue en lojaliteit verloor en hulle besigheid na iemand ander neem. ✓✓ TS (2)
- Die besigheid sal kliënte en inkomste verloor.
  - Hulle mag dalk na 'n ander besigheid soek waar hulle hul geld kan spandeer.
  - Hulle sal na 'n besigheid soek wat aan hulle verwagtinge sal voldoen ten opsigte van professionaliteit, kwaliteit diens en kliëntesorg.
  - Negatiewe / slegte publisiteit
  - Bykomende koste sal vir bemerking aangegaan moet word om die negatiewe publisiteit teen te werk.
- 7.2 7.2.1 Hy doen die beeld van die besigheid skade aan met sy antagonistiese aanmerkings op sosiale media.✓✓ TS (2)
- Hy beïnvloed ander medewerkers negatief.
  - Hy boelie en teister 'n kollega.

7.2.2 **JA**

TS

Ek as 'n werker, is medeverantwoordelik om die beeld van die besigheid en die persoonlike inligting van mede-werkers te beskerm. ✓✓

Ek sal 'n rol speel om te verseker dat die besigheid winsgewend bly. ✓✓

(4)

- As ek nie die kollega se optrede gaan aangee nie, mag dit lyk asof ek met hom saamstem, wat vir my 'n slegte reputasie by die werk gaan gee.
- Mnr. Williams het sy kollega geboelie en geteister, ongeag daarvan dat hy geen bewyse gehad het dat dit hy was wat hom by die hotel verkla het nie.

**Let Wel:** Aanvaar enige antwoord wat integriteit / 'n gevoel van verantwoordelikheid aandui.

**OF****NEE**

Mnr. Williams het sy reg tot vryheid van spraak uitgeleef. Die sosiale media-blad behoort aan Mnr. Williams – hy kan net wat hy wil daarop plaas.

- Bang vir viktimisasie (teistering) by die werk en op sosiale media.

**Let Wel:**

- Aanvaar enige antwoord wat na vryheid van spraak/persoonlike aanspreeklikheid verwys.
- Geen punte word vir JA of NEE toegeken nie

## 7.2.3 Deur Mnr. Williams op grond van oortreding van die gedragskode vir werknemers te ontslaan, verseker dat ...

TS

- die professionalisme en integriteit van die hotel beskerm word. ✓✓
- die hotel toegelaat word om werknemers binne 'n wetlike raamwerk, te dissiplineer. ✓✓
- ander werknemers teen herhalende mondelinge persoonlike aanvalle beskerm word. ✓✓

(6)

- werknemers vir hulle aksies aanspreeklik gehou word.
- die oortreding van die gedragskode kan deur geskrewe waarskuwing aangespreek word.
- die korrekte arbeidspraktyke deur die besigheid gevolg word.

**[18]**

**VRAAG 8**

- 8.1 8.1.1 Sosiale✓✓/ Maatskaplike VVT (2)  
 • Gemeenskap  
 • Mense

- 8.1.2 RAIN gebruik 'n gedeelte van hulle wins om die lewens van mense in gemeenskappe oor die hele wêreld te verbeter. ✓✓ VVT (2)

**Let Wel:** Aanvaar voorbeelde van KMB- ('CSI') inisiatiewe.

8.2 8.2.1 **Verskaf skoon drinkwater**

Baie skole in Suid-Afrika het nie lopende water nie. Hierdie inisiatief het drinkwater aan die skole verskaf, en het leerders aangemoedig om genoeg water te drink as deel van 'n gesonde leefstyl. ✓✓

- Waardes moet aangeleer word om verantwoordelik op te tree deur water te spaar.
- Verhoed siektes soos cholera, COVID-19

**Sanitasiefasiliteite**

Skole kan nou spoeltoilette en handewas-fasiliteite hê. ✓✓

- Om lopende water op die skoolgronde te hê kan verdere infrastruktuur-verbeterings tot gevolg hê.

**Higiëne-opvoeding**

Noudat hulle blootstelling aan lopende water het, moet leerders opgevoed word oor persoonlike higiënepraktyke en geleer word hoe sanitasiefasiliteite gebruik moet word. ✓✓ (6)

- Opvoeding oor die gebruik van sanitasiefasiliteite
- Opvoeding oor verantwoordelike waterverbruik
- Pas streng higiëne-maatreëls toe wanneer voedsel voorberei en bedien word.

**Let Wel:** Fokusareas kan in enige volgorde ingesluit word.

- 8.2.2 Deur 5 000 handewas-stasies te bou gedurende die Covid-19-pandemie, is 'n meer volhoubare inisiatief, omdat dit vir baie jare behoue sal bly. ✓✓ (2)

- Die handreinigers sal slegs 'n korttermynoplossing bied en dan sal die beskerming van die gemeenskappe in gedrang kom.

**[12]**

**TOTAAL AFDELING D: 30**

**AFDELING E: PLAASLIKE, STREEKS- EN INTERNASIONALE TOERISME;  
KOMMUNIKASIE EN KLIËNTEDIENS****VRAAG 9**

- 9.1 9.1.1 siektes✓✓ PSI (2)
- pandemie
  - wêreld-pandemie
- 9.1.2 Te midde van die Covid-19-pandemie, moes TBRSA verseker dat, terwyl hulle toerismebeesighede ondersteun van die negatiewe invloed van die krisis op die toerisme sektor, hulle ook moet verseker dat daar gehoor gegee word aan die regering se beleidstukke. ✓✓ PSI (2)
- TBRSA het 'n algemene protokol vir alle toerismesektore en besighede ontwikkel wat in lyn is met die regering se mandaat om die verspreiding van die siekte te stuit.
  - Die gestandaardiseerde beleidstuk is ontwikkel om riglyne en ondersteuning te verskaf aan die bedryf oor hoe om vorentoe te beweeg te midde van die krisis, terwyl die sektor beskerm moet word.
- 9.1.3 'n Gesondheid- en veiligheidsbeampte moet aangestel word. ✓ PSI  
 Personeel sal opleiding moet ondergaan en oor Covid-19 veiligheidspraktyke vir hulleself en vir hulle kliënte, ingelig word. ✓  
 Personeel sal gehoor moet gee aan standarde vir fisiese distansiëring (afstandhouding). ✓  
 Alle personeel sal moet verseker dat hulle toepaslike PBT ('PPE) dra. ✓ (4)
- Personeel sal moet verseker dat hulle temperatuur nagegaan word wanneer hulle by die werk kom.
- Let Wel:** Aanhulings uit die teks is aanvaarbaar.
- 9.1.4 Verpligte skandering vir alle gaste sou tydrowend en duur wees, omdat spesifieke toerusting aangekoop en personeel opgelei sou moes word. ✓✓ PSI  
 Kapasiteitskontrole sal 'n beperkte aantal gaste by die akkommodasie-instelling tot gevolg hê. Dit sou die winsgrens van die instelling met die helfte sny. ✓✓ (4)
- Klein akkommodasie-instellings soos B&Bs, Airbnbs ens. het verkies om tydelik te sluit.
  - Personeel is verminder, of het 'n kleiner salaris ontvang.
  - Die ongerief van skanderingsprotokol en bekommernis oor veiligheid kan negatiewe koste-implikasies vir die akkommodasie-instelling hê.

- 9.2 Dit sal verseker dat mense nie die draers of die bron van die verspreiding van die virus is nie, omdat hulle bewyse van 'n negatiewe Covid-19-toetsuitslag het. ✓✓  
Die gasheerland sal gerus voel om inkomende toeriste met 'n negatiewe Covid-19-toetsuitslag, toe te laat om vrylik rond te beweeg sonder dat die virus versprei word. ✓✓  
• Toeriste met bewyse van 'n negatiewe Covid-19-toetsuitslag, sal toegang verkry tot die gasheerland se toerismeprodukte, dienste en bestemmings, sonder om die virus te versprei. (4) **PSI**
- 9.3 9.3.1 Afname/negatiewe afname in alle inkomende toeriste na Suid-Afrika in die jaar 2020. ✓✓ (2)
- 9.3.2 'n Vennootskap tussen die regering en die toerismebedryf om aan alle aspekte van die Herstelprogram aandag te skenk. ✓✓  
Die regering en handelbanke het fondse beskikbaar gemaak waarvoor toerismebesighede aansoek kon doen om toerismebates en kern-infrastruktuur te beskerm. ✓✓  
Stel veiligheidsprotokol vir die bedryf in om toerismevertroue te herbou. ✓✓  
Onderhandel met lande om hulle grense en lugroetes oop te stel om Suid-Afrika weer met die wêreld te verbind. ✓✓ (8) **PSI**
- Deur noukeurige monitering en om die afname in Covid-19-infeksies, asook die huidige inperkingsvlakke te adverteer, sal toerisme gestimuleer word.
  - Gaan voort met toerisme veiligheidsprogramme in vennootskap met die polisie en betrokke belanghebbendes.
  - Moedig plaaslike reise en ervarings aan deur innoverende, bekostigbare pakkette aan te bied.
  - Gaan vennootskappe met buurlande aan om 'n SAOG-besoekerservaring sonder haakplekke te bevorder.
  - SAtoerisme kan verskeie geleenthede gebruik om Suid-Afrika plaaslik en internasionaal te bemark.
- [26]**

**VRAAG 10**

- 10.1 Eet veilig Sertifiseringsprogram en Siftingstoep ✓✓ **KK** (2)  
**Let Wel:** Aanvaar slegs die volle naam.
- 10.2 Deur gebruik te maak van die siftingstoep, sal toeriste gerusstel dat plekke op die toep veilig sal wees en alle Covid-19-protokol in plek sal wees. ✓✓ **KK** (2)  
**[4]**

**TOTAAL AFDELING E: 30**  
**GROOTTOTAAL: 200**