



basic education

Department:
Basic Education
REPUBLIC OF SOUTH AFRICA

**NASIONALE
SENIOR SERTIFIKAAT**

GRAAD 12

WISKUNDIGE GELETTERDHEID V2

NOVEMBER 2017

PUNTE: 150

TYD: 3 uur

Hierdie vraestel bestaan uit 12 bladsye, 'n addendum met 6 bylaes en 1 antwoordblad.

INSTRUKSIES EN INLIGTING

1. Hierdie vraestel bestaan uit VIER vrae. Beantwoord AL die vrae.
2. 2.1 Gebruik die BYLAES in die ADDENDUM om die volgende vrae te beantwoord:

BYLAE A vir VRAAG 1.1
BYLAE B vir VRAAG 1.2
BYLAE C vir VRAAG 2.3
BYLAE D vir VRAAG 3.1
BYLAE E vir VRAAG 3.2
BYLAE F vir VRAAG 4.2

2.2 Beantwoord VRAAG 4.2.2 op die aangehegte ANTWOORDBLAD.

2.3 Skryf jou sentrumnommer en eksamennommer in die spasies op die ANTWOORDBLAD. Lewer die ANTWOORDBLAD saam met jou ANTWOORDEBOEK in.
3. Nommer die antwoorde korrek volgens die nommeringstelsel wat in hierdie vraestel gebruik is.
4. Begin ELKE vraag op 'n NUWE bladsy.
5. Jy mag 'n goedgekeurde sakrekenaar (nieprogrammeerbaar en niegrafies) gebruik, tensy anders aangedui.
6. Toon ALLE bewerkings duidelik.
7. Rond ALLE finale antwoorde toepaslik volgens die gegewe konteks af, tensy anders aangedui.
8. Dui meeteenhede aan, waar van toepassing.
9. Kaarte en diagramme is NIE noodwendig volgens skaal geteken NIE, tensy anders aangedui.
10. Skryf netjies en leesbaar.

VRAAG 1

- 1.1 BYLAE A toon 'n opsomming van die Inkomste- en Uitgawestaat met notas van die Suid-Afrikaanse Nasionale Bloeddiens (SANBD) vir die finansiële jaar geëindig 31 Maart 2016. Van die bedrae is weggelaat.

Gebruik BYLAE A en die inligting hierbo om die vrae wat volg, te beantwoord.

- 1.1.1 Kommunikasiekoste het vanaf 2015 tot 2016 met 4,402% verminder.

Bereken (tot die naaste duisend rand) die kommunikasiekoste vir 2016. (4)

- 1.1.2 Die SANBD voer 75% van hulle produktoetsmateriaal en verbruiksgoedere in. Verduidelik watter moontlike uitwerking 'n verswakking van die rand op hulle totale wins vir die jaar sal hê. (2)

- 1.1.3 Vergelyk, deur AL die berekeninge te toon, die 2015- en 2016-winspersentasies vir die SANBD.

Jy kan die volgende formule gebruik:

$$\text{Winspersentasie} = \frac{\text{Totale Jaarlikse Wins}}{\text{Totale Jaarlikse Primêre Inkomste}} \times 100\% \quad (5)$$

- 1.2 BYLAE B toon die individuele belastingkoerse vir die 2016/2017-belastingjaar.

Een van die SANBD-direkteure, wat 68 jaar oud is, het 'n belasbare inkomste van R663 000 in die 2016/2017-belastingjaar verdien.

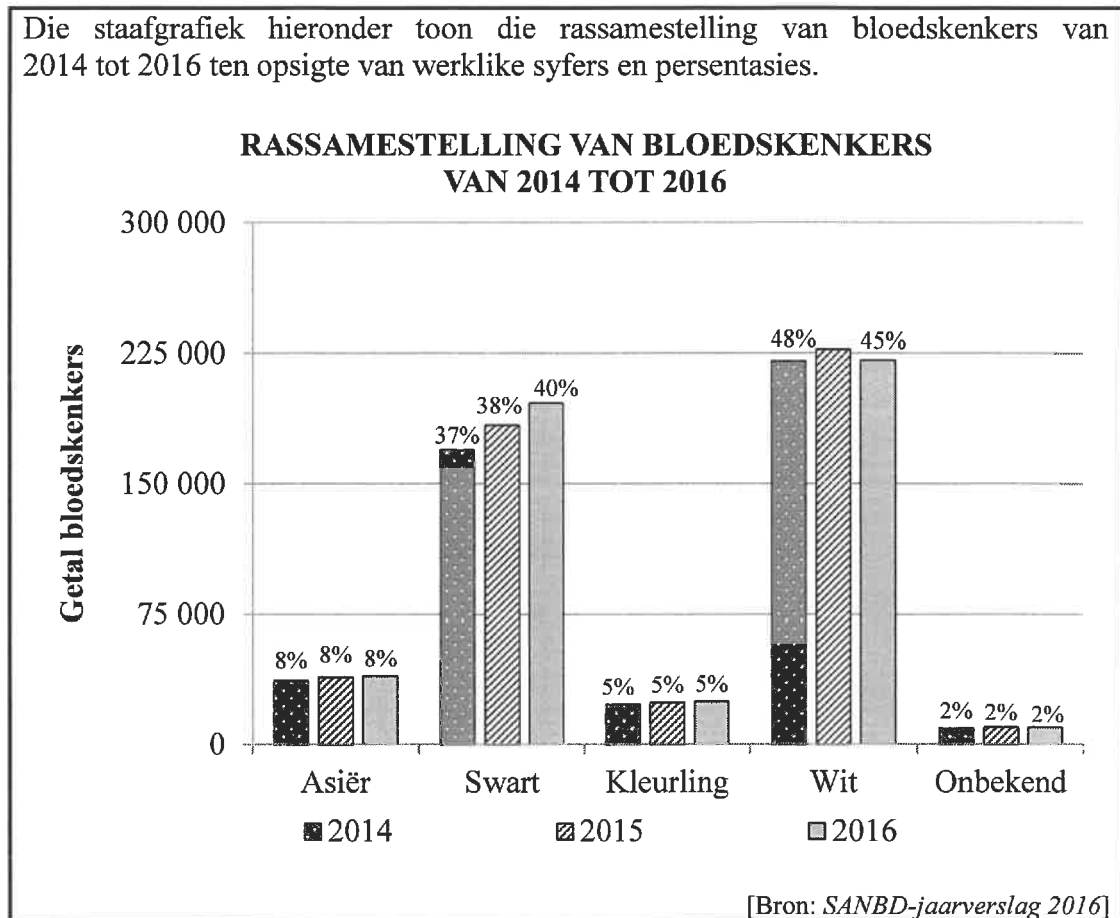
Bereken die totale inkomstebelasting wat hierdie direkteur op sy jaarlikse belasbare inkomste moet betaal (ignoreer mediesefondskrediete). (6)

- 1.3 In 2016 het 'n totaal van 110 000 Suid-Afrikaners in die ouderdomsgroep 16 tot 19 jaar bloed geskenk. Die SANBD het besluit om geskikte hoërskoolleerders aan te moedig om bloed te skenk. Hulle teiken is om die aantal skenkers in hierdie ouderdomsgroep oor die volgende twee jaar teen 'n saamgestelde jaarlikse groeikoers van 9,6% te laat toeneem.

Bereken, deur AL die berekeninge te toon, die teikengetal bloedskenkers vir 2018 in hierdie ouderdomsgroep. (4)

1.4

Die staafgrafiek hieronder toon die rassamestelling van bloedskenkers van 2014 tot 2016 ten opsigte van werklike syfers en persentasies.



Gebruik die staafgrafiek hierbo om die vrae wat volg, te beantwoord.

- 1.4.1 Gee 'n moontlike verduideliking vir die insluiting van 'n 'Onbekend'-kategorie as 'n rassegroep. (2)
- 1.4.2 Beskryf 'n moontlike tendens met betrekking tot die persentasie swart skenkers. (2)
- 1.4.3 Verduidelik waarom daar nie met sekerheid gesê kan word dat die getal Asiër-skenkers van 2014 tot 2016 dieselfde gebly het nie. (2)
- 1.4.4 Die totale getal skenkers in 2016 was 490 914. Hierdie totale skenkerbasis het marginaal met 1,02% vanaf die vorige jaar gegroei.
- (a) Bereken die getal skenkers in 2015. (2)
- (b) Bepaal vervolgens (tot die naaste 10 afgerond), die getal wit skenkers in 2015. (4)

1.5

Mensbloed word in agt hoofbloedgroepe geklassifiseer. Die SANBD doen gereeld 'n beroep op geskikte mense om bloed te skenk.

TABEL 2 hieronder toon die verspreiding van die agt verskillende bloedgroepe in die Suid-Afrikaanse bevolking.

TABEL 3 hieronder toon die verenigbaarheid tussen die bloedgroep van die skenker en die moontlike ontvanger.

TABEL 2: VERSPREIDING VAN BLOEDGROEPE IN DIE SUID-AFRIKAANSE BEVOLKING

	BLOEDGROEP							
	O ⁺	O ⁻	A ⁺	A ⁻	B ⁺	B ⁻	AB ⁺	AB ⁻
% Verspreiding	39	6	32	5	12	2	3	1

TABEL 3: VERENIGBAARHEID TUSSEN SKENKERBLOEDGROEP EN MOONTLIKE ONTVANGERBLOEDGROEP

		SKENKERBLOEDGROEP							
		O ⁺	O ⁻	A ⁺	A ⁻	B ⁺	B ⁻	AB ⁺	AB ⁻
ONTVANGER- BLOEDGROEP	AB ⁺	Ja	Ja	Ja	Ja	Ja	Ja	Ja	Ja
	AB ⁻		Ja		Ja		Ja		Ja
	A ⁺	Ja	Ja	Ja	Ja				
	A ⁻		Ja		Ja				
	B ⁺	Ja	Ja			Ja	Ja		
	B ⁻		Ja				Ja		
	O ⁺	Ja	Ja						
	O ⁻		Ja						

[Bron: SANBD-jaarverslag 2016]


- 1.5.1 Skryf die waarskynlikheid neer om willekeurig 'n Suid-Afrikaner te kies wat in die O-bloedgroep val. (2)
- 1.5.2 Identifiseer die bloedgroep van 'n ontvanger wat 'n 100% waarskynlikheid het om van enige skenkerbloedgroep bloed te ontvang. (2)
- 1.5.3 Verifieer, met 'n rede, of dit die waarskynlikste is vir 'n O⁻-bloedgroep-ontvanger om bloed van enige skenkerbloedgroep te ontvang. (3)

[40]

VRAAG 2

2.1

Die koste van brandstof in Suid-Afrika bestaan uit die basiese brandstofprys en ander koste, soos in die infografiek hieronder getoon.



Gebruik die inligting hierbo om die vrae wat volg, te beantwoord.

2.1.1 Verduidelik waarom die brandstofpryse in die binneland en dié by die kus nie dieselfde is nie. (2)

2.1.2 Bereken die ontbrekende waarde S. (3)

2.1.3 Jabu se voertuig het 'n gemiddelde brandstofverbruik van 7,3 liter per 100 km.

Jabu beweer dat dit haar R50 meer vir brandstof gekos het om 1 250 km in 'n binnelandse streek te reis as wat dit by die kus gekos het om dieselfde afstand te reis.

Verifieer, deur AL die berekeninge te toon, of Jabu se bewering geldig is. (5)

2.2 In sy 2017/2018-begrotingstoespraak het die Minister van Finansies 'n verhoging in die brandstofheffing aangekondig en gesê dat die geprojekteerde inkomste uit die brandstofheffings R70,9 miljard sou wees. Die inkomste uit die brandstofheffings vir 2016/2017 was R54 miljard.

2.2.1 Bepaal die persentasieverhoging in die inkomste ontvang uit die brandstofheffings vir 2017/2018. (3)

2.2.2 Bereken (tot die naaste miljard rand) die totale nasionale begrote inkomste vir die 2017/2018 finansiële jaar as die verhouding van die inkomste ontvang uit brandstofheffings tot ander inkomste ontvang, 7 : 118 is. (4)

2.3 TABEL 4 in BYLAE C toon die ranglys vir 'n steekproef van 11 lande volgens:

- Gemiddelde brandstofprys per gelling in Russiese roebel
- Bekostigbaarheid van 'n gelling brandstof as 'n persentasie van die gemiddelde daaglikse loon in elke land
- Persentasie gemiddelde inkomste op brandstof gespandeer

Gebruik BYLAE C om die vrae wat volg, te beantwoord.

2.3.1 Identifiseer die land wat die mediaan is van die persentasie gemiddelde inkomste wat op brandstof gespandeer is. (2)

2.3.2 Bepaal die interkwartiel-variasiewydte van die gemiddelde inkomste wat op brandstof gespandeer is. (4)

2.3.3 Gee EEN geldige rede waarom die steekproef as onsydig beskou kan word met betrekking tot die persentasie gemiddelde inkomste wat op brandstof gespandeer is. (2)

2.3.4 Bepaal die verskil (in Russiese roebel) tussen die gemiddelde daaglikse loon in Indië en Suid-Afrika. (6)

2.3.5 'n Leerder se oplossing vir die berekening van die variasiewydte (in rand per gelling) van die gemiddelde brandstofpryse word hieronder getoon.

LEERDER SE OPLOSSING
$\begin{aligned} \text{Variasiewydte} &= 425,52 - 21,44 \\ &= 404,08 \text{ Russiese roebel} \end{aligned}$
$\begin{aligned} 404,08 \text{ Russiese roebel} &= 404,08 \div 0,016 \\ &= 25\,255 \text{ euro} \end{aligned}$
$\begin{aligned} 25\,255 \text{ euro} &= 25\,255 \times 0,07 \\ &= \text{R}1\,767,85 \end{aligned}$

Verifieer, deur AL die berekeninge te toon, of die leerder se oplossing korrek is. (6)

[37]

VRAAG 3

- 3.1 **BYLAE D** toon die ligging van Lizette se eiendom, gemerk **H** (wat die huis insluit), op die kaart van Mandelapark. Die nuwe uitbreiding word met donker, dikker lyne aangedui, soos op die kaart getoon. 'n Vergroting van 'n gedeelte van die hoofkaart word ook getoon.

Gebruik **BYLAE D** om die vrae wat volg, te beantwoord.

- 3.1.1 Indien die nommeringstelsel van die eiendomme dieselfde patroon volg, soos op die hoofkaart getoon, bepaal die straatadres van die eiendom wat **H** gemerk is. (3)
- 3.1.2 Gebruik afmeting en die gegewe skaal om die werklike afmetings (in meter) van die reghoekige eiendom wat **H** gemerk is, te bepaal. (6)
- 3.1.3 Lizette het beweer dat die vergroting 5 keer groter as die ooreenstemmende gedeelte op die hoofkaart is.
- Verifieer, deur **AL** die berekeninge te toon, of haar bewering geldig is. (4)

3.2

BYLAE E toon die vloerplan van 'n reghoekige vertrek wat Lizette by haar eiendom wil voeg. Die vertrek sal 'n dak en 'n plafon met 'n plafonkroonlyste hê.

Ander inligting:

- Buite-afmetings van die vertrek is 5 240 mm × 4 040 mm
- Die mure het deurgaans 'n dikte van 220 mm
- Die plafonborde dek net die binne-oppervlakte van die plafon van die vertrek
- Plafonkroonlyste ('n versierde rand) sal tussen die mure en die plafon reg rondom die plafon van die vertrek aangebring word, soos in BYLAE E getoon word

Jy kan die volgende formules gebruik:

Oppervlakte van 'n reghoek = lengte × breedte

Omtrek van 'n reghoek = 2 × (lengte + breedte)

3.2.1 Bereken (in m²) die vloeroppervlakte van die vertrek. (6)

3.2.2 Die afmetings van elk van die plafonborde wat sy beplan om te gebruik:

$$900 \text{ mm} \times 2\,400 \text{ mm}$$

Bepaal, deur AL die berekeninge te toon, of sy 'n minimum van sewe plafonborde vir hierdie vertrek sal benodig. (5)

3.2.3 Bereken (in mm) die presiese lengte van die plafonkroonlyste wat vir die vertrek benodig word. (3)

3.2.4 TABEL 5 hieronder toon die pryslys van materiaal wat gebruik kan word.

TABEL 5: PRYSLYS VAN MATERIAAL (BTW INGESLUIT)

PLAFONBORDE	LENGTE (in mm)	PRYS (in R)
4 mm × 900 mm	2 400	91,44
4 mm × 900 mm	3 000	114,31
VERSIERDE VORMWERK	LENGTE (in mm)	PRYS (in R)
Plafonkroonlyste	2 000	53,64

[Aangepas uit Pryslys, Feb. 2016, SA]

Lizette beweer dat die totale koste van die materiaal (plafonborde en plafonkroonlyste) (BTW ingesluit) minder as R1 250 sal wees.

Verifieer, deur AL die berekeninge te toon, of haar bewering KORREK is. (5)

3.3

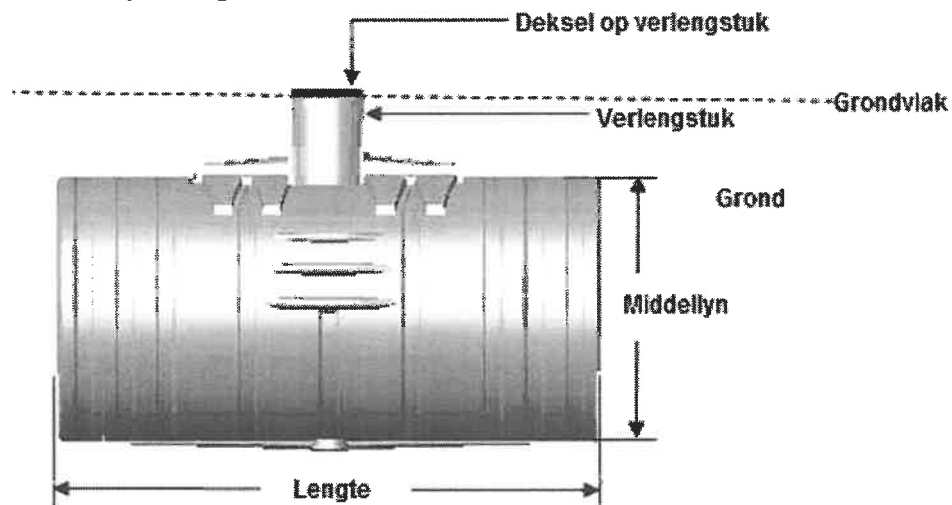
Lizette beplan ook om 'n ondergrondse silindriese wateropgaartenk op haar eiendom te installeer, soos in die diagram hieronder getoon.

VERSKILLENE AANSIGTE VAN 'N SILINDRIESE WATEROPGAARTENK

Driedimensionele aansig



Syaansig



Afmetings van die tenk:

- Kapasiteit: 8 000 ℓ
- Lengte: 2,9 m

Jy kan die volgende formule gebruik:

Volume van 'n silindriese tenk = $\pi \times (\text{radius})^2 \times \text{lengte}$, gebruik $\pi = 3,142$

LET WEL: 1 liter = 1 000 cm³

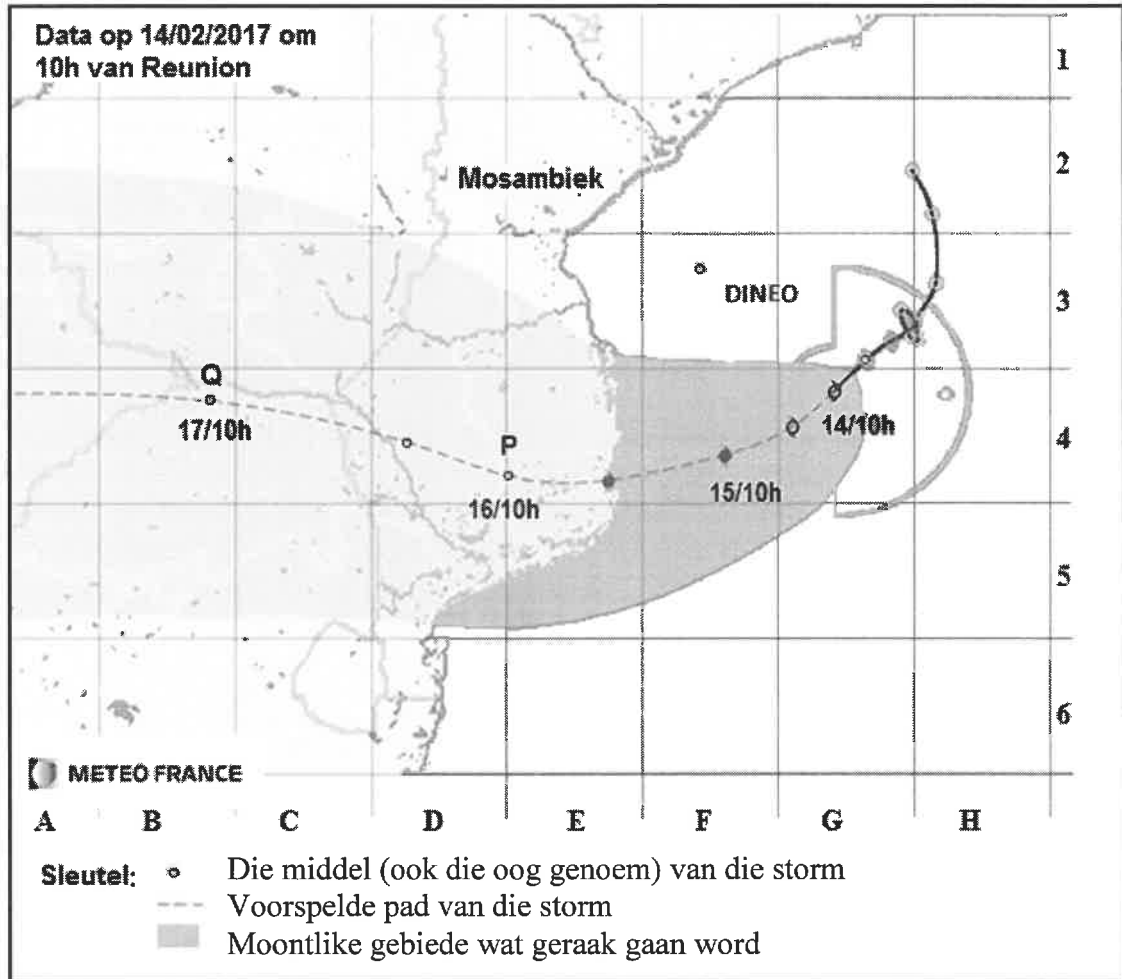
3.3.1 Gee EEN moontlike rede waarom Lizette van plan is om die wateropgaartenk ondergronds te installeer. (2)

3.3.2 Bereken (in m) die middellyn van die wateropgaartenk. (6)
[40]

VRAAG 4

4.1

Tropiese storm Dineo het in Februarie 2017 eiendom in Mosambiek beskadig, maar ook broodnodige reën gebring. Hieronder is 'n kaart wat Meteo France (die Franse weerkantoor) uitgereik het wat die geprojekteerde pad van die storm en gebiede wat die waarskynlikste geraak sal word, toon.



LET WEL: 15/10h dui die geprojekteerde posisie om 10:00 op 15 Februarie aan.

[Aangepas uit Meteo France]

4.1.1 Dineo is as 'n Kategorie 1-tropiese storm met 'n maksimum gemiddelde windspoed van 95 myl per uur geklassifiseer.

LET WEL: 50 myl = 80,4672 km

Herlei (afgerond tot TWEE desimale plekke) die maksimum gemiddelde windspoed na kilometer per uur. (3)

4.1.2 Die afstand tussen twee vertikale koördinaatlyne op die kaart is ongeveer 205,043 km.

Bereken, deur die gemete afstand te gebruik, die voorspelde gemiddelde spoed (in km/h) van die storm van punt P na punt Q.

Jy kan die volgende formule gebruik:

Afstand = gemiddelde spoed × tyd (8)

4.2

TABEL 6 op BYLAE F toon die totale getal storms van 2010 tot 2015 wat vier wêreld-oseaanstreke getref het, sowel as die koste van die skade (in miljoene VS-dollars (VSD)) in hierdie tydperk. Van die data in die tabel is weggelaat.

Gebrokelyngrafieke wat die getal storms vir drie streke verteenwoordig, is op die ANTWOORDBLAD geteken.

Gebruik TABEL 6 en die grafiek op die ANTWOORDBLAD om die vrae wat volg, te beantwoord.

4.2.1 Bepaal die ontbrekende waarde N. (2)

4.2.2 Teken nog 'n gebrokelyngrafiek op die ANTWOORDBLAD wat die totale getal storms verteenwoordig wat die Westelike Stille Oseaan-streek van 2010 tot 2015 getref het. (5)

4.2.3 Noem die streek wat 'n afwaartse neiging getoon het in die getal storms wat vanaf 2010 tot 2014 ervaar is. (2)

4.2.4 'n Nuusverslaggewer het die totale koste van die skade in die Westelike Stille Oseaan-streek en die Noord-Atlantiese Oseaan-streek vergelyk met die totale getal storms van 2011 tot 2015. Hy het beweer dat hoe meer storms in 'n streek voorgekom het, hoe groter die skade was wat dit aangerig het.

Verifieer (deur AL die berekeninge te toon en 'n rede te gee) of sy bewering geldig is. (9)

4.3 Die Mosambiekse inligtingsdepartement het in 2016 die volgende data aangeteken:

- Geboortekoers is 38,3 geboortes per 1 000 bevolking
- Sterftesyfer is 11,9 sterftes per 1 000 bevolking
- Netto migrasiekoers is -1,9 migrante per 1 000 bevolking

Bepaal Mosambiek se persentasie bevolkingsgroeikoers vir 2016. (4)
[33]

TOTAAL: 150



basic education

Department:
Basic Education
REPUBLIC OF SOUTH AFRICA

**NASIONALE
SENIOR SERTIFIKAAT**

GRAAD 12

WISKUNDIGE GELETTERDHEID V2

ADDENDUM

NOVEMBER 2017

Hierdie addendum bestaan uit 7 bladsye met 6 bylaes.

BYLAE A**VRAAG 1.1****OPSOMMING VAN INKOMSTESTAAT EN UITGAWESTAAT VIR DIE JAAR
GEËINDIG 31 MAART 2016**

	Notas	2016 R'000	2015 R'000
Primêre inkomste	1	2 403 509	2 250 041
Ander inkomste		120 915	86 609
Primêre uitgawes	2	(2 163 571)	(1 993 476)
Ander uitgawes: Rente betaal		(202)	(172)
Totale jaarlikse wins		360 651	342 534

NOTAS TOT DIE JAARLIKSE FINANSIËLE STATE

	2016 R'000	2015 R'000
1. Primêre inkomste		
Diensfooie	...	2 249 081
Produkverkope	...	960
Totale jaarlikse primêre inkomste	2 403 509	2 250 041
2. Primêre uitgawes		
Advertensies en promosies	(67 257)	(56 401)
Kommunikasiestkoste	...	(32 187)
Verbruiksgoedere	(640 601)	(582 823)
Waardevermindering	(69 866)	(64 748)
Werkersvoordele	(953 592)	(888 662)
Vrag	(135 768)	(125 736)
Huur	(34 087)	(30 115)
Produktoetsing	(55 267)	(54 252)
Ander uitgawes – Oninbare skuld wat afgeskryf is, rekenaarkoste, wisselkoersvariasie, versekering, herstelwerk en instandhouding ingesluit)	(176 363)	(158 552)
Totale jaarlikse primêre uitgawes	(2 163 571)	(1 993 476)

[Aangepas uit 2016 SANBD Jaarverslag]

LET WEL: Hakies () dui aftrekkings aan.

BYLAE B**VRAAG 1.2****TABEL 1: INDIVIDUELE BELASTINGKOERSE VIR DIE 2016/2017-BELASTINGJAAR**

BELASBARE JAARLIKSE INKOMSTE	BELASTINGKOERS
R0 –R188 000	18% van elke R1
R188 001–R293 600	R33 840 + 26% van die bedrag bo R188 000
R293 601–R406 400	R61 296 + 31% van die bedrag bo R284 100
R406 401–R550 100	R96 264 + 36% van die bedrag bo R406 400
R550 101–R701 300	R147 996 + 39% van die bedrag bo R550 100
R701 301 en hoër	R206 964 + 41% van die bedrag bo R701 300
BELASTINGKORTINGS	
Primêre korting	R13 500
Sekondêre korting (vir persone 65 jaar en ouer)	R7 407
Tersiêre korting (vir persone 75 jaar en ouer)	R2 466

[Bron: SARS pocket guide, 2016/2017]

BYLAE C**VRAAG 2.3****TABEL 4: VERGELYKING VAN DIE GEMIDDELDE BRANDSTOFPRYSE PER LAND VOLGENS PRYS, BEKOSTIGBAARHEID EN PERSENTASIE VAN GEMIDDELDE INKOMSTE AAN BRANDSTOF GESPANDEER**

LAND	GEMIDDELDE BRANDSTOFPRYS		BEKOSTIGBAARHEID		GEMIDDELDE INKOMSTE AAN BRANDSTOF GESPANDEER	
	RUSSIESE ROEBEL PER GELLING	RANG-ORDE	GELLING-KOSTE AS 'N PERSENTASIE VAN GEMIDDELDE DAAGLIKSE LOON	RANG-ORDE	PERSENTASIE	RANG-ORDE
Venezuela	21,44	1	0,07	1	0,02	1
China	237,93	22	19,44	50	0,52	3
Noorweë	425,52	61	3,63	10	0,63	7
Nigerië	92,33	5	22,57	51	0,91	14
Italië	395,98	59	8,57	29	1,12	20
Indië	236,51	20	93,76	61	1,23	25
Chili	260,87	24	12,52	38	2,03	46
Rusland	135,67	8	9,01	30	2,17	47
Kanada	226,30	18	3,32	9	2,97	58
Mexiko	193,45	14	13,92	44	3,62	60
Suid-Afrika	237,35	21	26,20	55	4,11	61

[Aangepas uit bloomberg.com/graphic, 20 Feb. 2017]**WISSELKOERS:**

1 Russiese roebel = 0,016 euro

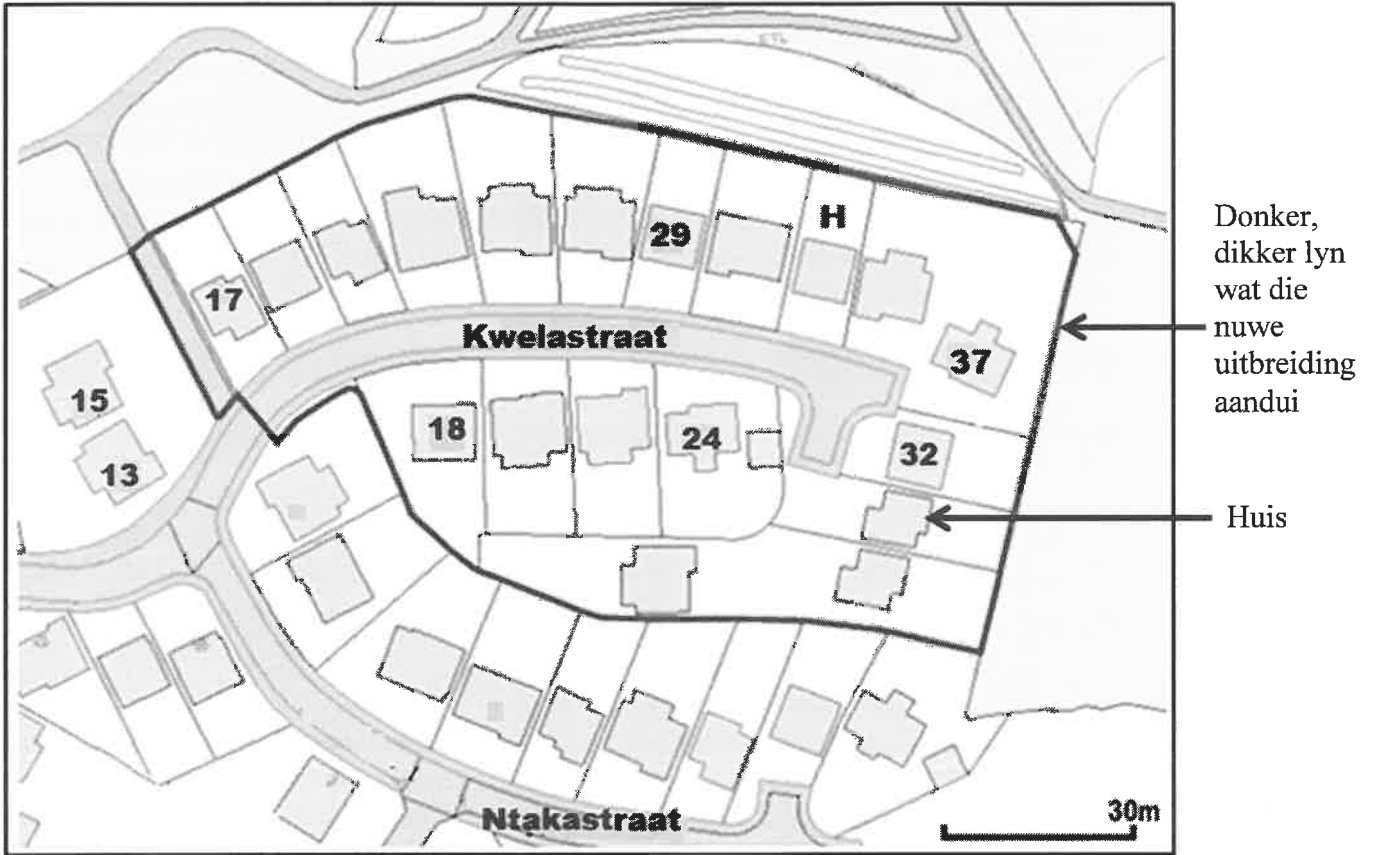
1 Suid-Afrikaanse rand = 0,070 euro

[Bron: Currency converter, 4 Februarie 2017]

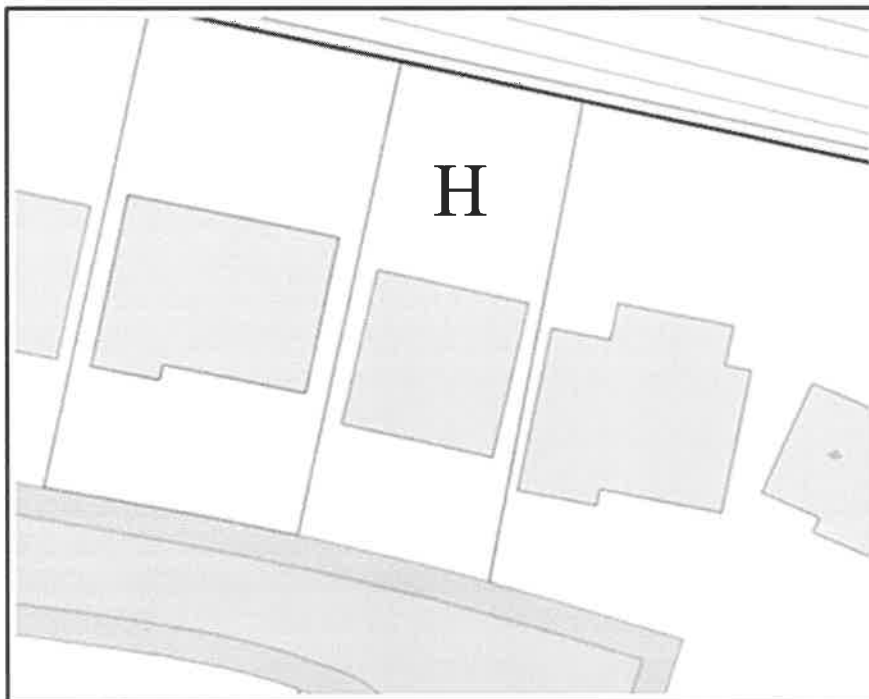
BYLAE D

VRAAG 3.1

Kaart van Mandelapark-uitbreiding



Vergroting van 'n gedeelte van die hoofkaart

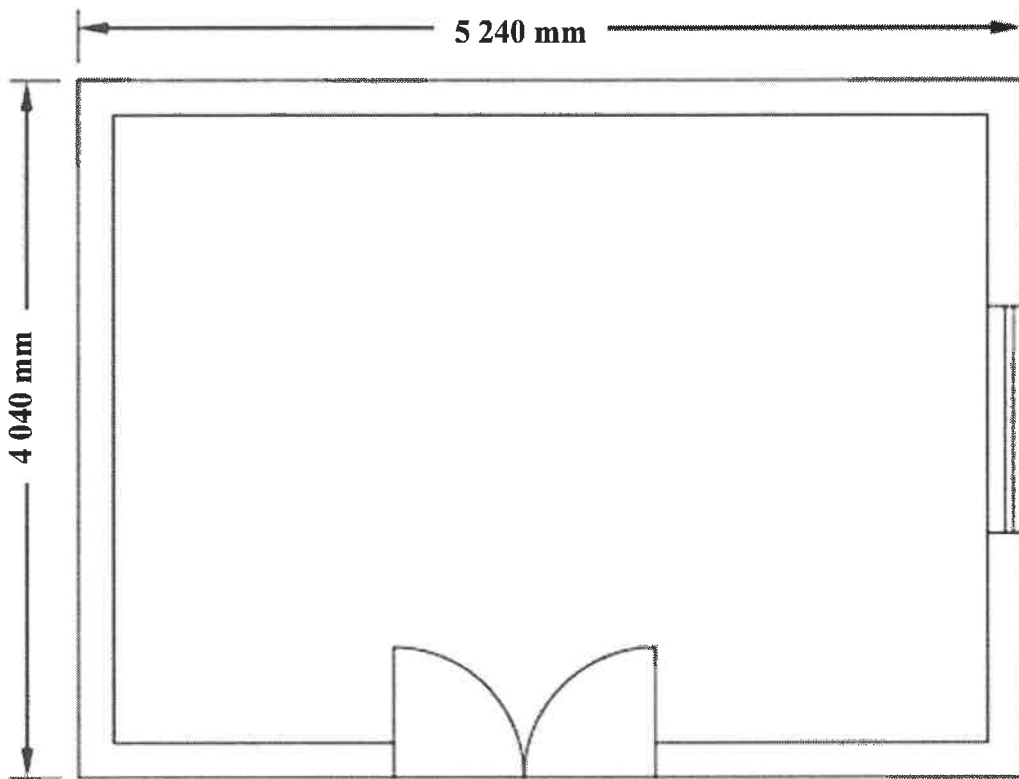


[Bron: <https://uniformonline.harrogate.gov.uk/arcgis/rest/services/Base Mapping>]

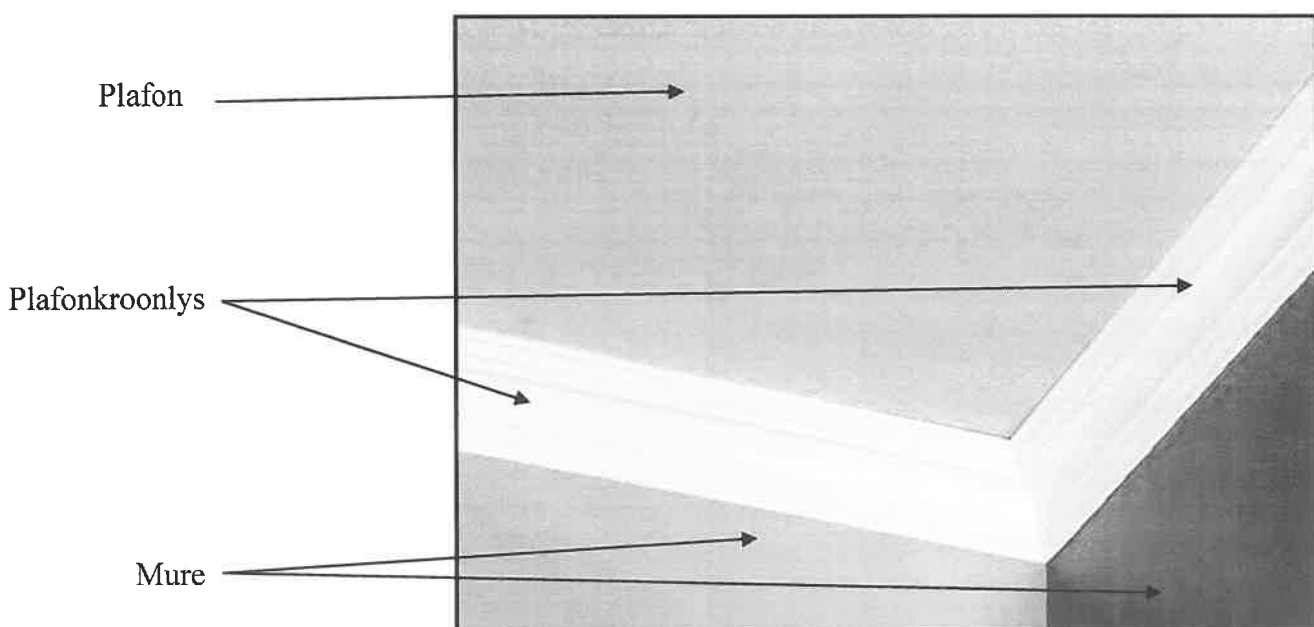
BYLAE E

VRAAG 3.2

Vloerplan van 'n reghoekige vertrek wat buite-afmetings toon



Gedeelte van 'n vertrek wat die plafon en die posisie van die plafonkroonlids toon



BYLAE F

VRAAG 4.2

TABEL 6: TOTALE GETAL STORMS WAT VANAF 2010 TOT 2015 DIE VERSKILLENDE WÊRELD-OSEAANSTREKE GETREF HET EN DIE TOTALE KOSTE VAN SKADE

		WÊRELD-OSEAANSTREKE			
		INDIESE	WESTELIKE STILLE	OOSTELIKE STILLE	NOORD-ATLANTIES
Totale getal storms per jaar	2015	8	39	31	12
	2014	8	30	23	9
	2013	N	52	21	13
	2012	5	34	17	19
	2011	N	40	13	19
	2010	12	19	12	21
Totale koste van skade in miljoene (VS-dollar)	2015	258	10 200	562	590
	2014	3 400	8 410	1 401	232
	2013	1 500	22 800	4 201	1 510
	2012	56	6 080	28	75 000
	2011	277	10 600	203	21 000
	2010	Geen beskikbare data nie			12 356

[Aangepas uit Meteo France]



basic education

Department:
Basic Education
REPUBLIC OF SOUTH AFRICA

NASIONALE SENIOR SERTIFIKAAT

GRAAD 12

WISKUNDIGE GELETTERDHEID V2

NOVEMBER 2017

NASIENRIGLYN

PUNTE: 150

SIMBOOL	VERDUIDELIKING
M	Metode
MA	Metode met akkuraatheid
CA	Volgehoue akkuraatheid
A	Akkuraatheid
C	Herleiding
S	Vereenvoudiging
RT	Afrees van tabel/Afrees van grafiek
SF	Korrekte vervanging in 'n formule
O	Opinie/Verduideliking
P	Penalisasie bv. Vir geen eenheid, foutiewe afronding ens.
R	Afronding
NPR	Geen penalisering vir afronding
AO	Antwoord alleenlik
MCA	Metode met volgehoue akkuraatheid

Hierdie nasienriglyn bestaan uit 17 bladsye.

VRAAG 1 [40 PUNTE]			
Vraag	Oplossing	Verduideliking	O/V
1.1.1	<p>Verminderde bedrag in duisende $= R32\ 187 \times 4,402\%$ ✓M $\approx R1\ 416,87$ ✓CA</p> <p>Kommunikasie koste in duisende $= R32\ 187 - R1\ 416,87$ ✓M $= R30\ 770,13$ $= R30\ 770$ ✓R</p> <p style="text-align: center;">OF</p> <p>Kommunikasie koste in duisende $= 32\ 187 - (4,402\% \times 32\ 187)$ ✓M $= 32\ 187 - 1\ 416,87 = 30\ 770$ ✓CA ✓R</p> <p style="text-align: center;">OF</p> <p>$100\% - 4,402\% = 95,598\%$ ✓M Kommunikasie koste in duisende $= R32\ 187 \times 95,598\%$ ✓M $= R30\ 770,12826$ ✓CA $\approx R30\ 770$ ✓R</p> <p style="text-align: center;">OF</p> <p>Kommunikasie koste in duisende $= R2\ 163\ 571 - R(67\ 257 + 640\ 601 + 69\ 866 + 953\ 592 + 135\ 768 + 34\ 087 + 55\ 267 + 176\ 363)$ ✓M $= R2\ 163\ 571 - R2\ 132\ 801$ ✓CA $= R30\ 770$ ✓CA</p>	<p>Verminderde bedrag $= R32\ 187\ 000 \times 4,402\%$ $= R1\ 416\ 871,74$ $\approx R1\ 417\ 000$</p> <p>Kom, koste $= R32\ 187\ 000 - R1\ 417\ 000$ $= R30\ 770\ 000$</p> <p>1M % berekening 1CA verminderde bedrag</p> <p>1M aftrekking</p> <p>1R afronding OF</p> <p>1M aftrekking 1M % berekening 1CA verminderde bedrag 1R afronding OF</p> <p>1M aftrekking 1M % berekening 1CA koste 1R afronding OF</p> <p>1M aftrekking 1M optelling van alle ander waardes 1CA totaal vir ander waardes 1CA koste</p>	<p>F L2</p>
		AO	
		(4)	
1.1.2	<p>Wins kan verminder. ✓✓O OF</p> <p>Ingevoerde voorraad sal meer kos. ✓✓O</p>	<p>2O verduideliking</p> <p style="text-align: right;">(2)</p>	<p>F L4</p>
1.1.3	<p>Vir 2015: Winspersentasie $= \frac{342\ 534}{2\ 250\ 041} \times 100\%$ ✓RT $= 15,22345593\%$ ✓SF ✓A</p> <p>Vir 2016: Winspersentasie $= \frac{360\ 651}{2\ 403\ 509} \times 100\%$ $= 15,00518617\%$ ✓A</p> <p>Die wins verminder ✓O OF</p> <p>Die wins het amper dieselfde gebly. OF</p>	<p>1RT korrekte waardes 1SF vervanging 1A persentasie vir 2015</p> <p>1A persentasie vir 2016</p> <p>1O vergelyking</p>	<p>F L4</p>

Vraag	Oplossing	Verduideliking	O/V
	<p style="text-align: center;">OF</p> <p>Aantal skenkers vir 2017 $= 110\,000 \times 109,6\%$ ✓M $= 120\,560$ ✓CA</p> <p>Aantal skenkers vir 2018 $= 120\,560 \times 109,6\%$ ✓M $= 132\,133,76$ $\approx 132\,134$ ✓CA</p> <p style="text-align: center;">OF</p> <p>Aantal skenkers vir 2018 $= 110\,000 \times 109,6\% \times 109,6\%$ ✓M ✓M ✓M $= 132\,133,76$ $\approx 132\,134$ ✓CA</p>	<p style="text-align: center;">OF</p> <p>1M vermenigvuldig met 109,6% 1CA bereken totale aantal vir 2017</p> <p>1M vermenigvuldig 2017 aantal met 109,6% 1CA bereken aantal vir 2018</p> <p style="text-align: center;">OF</p> <p>1M optelling van persentasies 1M vermenigvuldig met korrekte getal 1M vermenigvuldig twee keer met 109,6% 1CA bereken aantal vir 2018 NPR</p> <p style="text-align: center;">AO</p> <p style="text-align: right;">(4)</p>	
1.4.1	<p>Maak voorsiening vir mense wat nie Asiër, Swart, Kleurling of Wit nie. ✓✓O</p> <p>OF ✓✓O Sommige skenkers dui nie ras aan nie.</p> <p>OF ✓✓O Die persentasies van die rasse tel nie op tot 100% nie.</p> <p>OF ✓✓O Die onbekend is 'gemengde' ras.</p> <p>OF ✓✓O Hulle is van ander lande.</p>	2O verduideliking	D L4
1.4.2	<p>Soos die aantal jare toeneem, so ook vermeerder die getal swart skenkers. ✓O ✓O</p>	2O stygende tendens	D L4
1.4.3	<p>Die aantal skenkers verskil jaarliks. ✓✓O</p> <p>OF ✓✓O Die grafiek verteenwoordig persentasies.</p> <p>OF ✓✓O Die persentasies is afgeronde waardes.</p> <p>OF ✓✓O Die grafiek toon die kolomme is nie ewe hoog nie.</p>	2O verduideliking	D L4

Vraag	Oplossing	Verduideliking	O/V
1.4.4 (a)	<p>Die 2015 skenkers $\times 101,02\% = 490914$</p> <p>Aantal skenkers = $\frac{490\,914}{101,02\%}$ ✓A</p> <div style="border: 1px solid black; display: inline-block; padding: 2px;"> OF $\frac{490\,914}{1,0102}$ </div> <p>= 485 957,236... $\approx 485\,957$ ✓A</p>	<p>1MA deling met 101,02%</p> <p>1A aantal skenkers NPR</p> <p>(2)</p>	D L2
1.4.4 (b)	<p>% wit = $100\% - (8\% + 38\% + 5\% + 2\%)$ ✓MA = 47% ✓CA</p> <p>Aantal wit skenkers = $485\,957 \times 47\%$ ✓MCA = 228 399,79... $\approx 228\,400$ ✓CA</p>	<p>CA vanaf Q1.4.4 (a)</p> <p>1MA trek af van 100% 1CA persentasie</p> <p>1MCA % berekening</p> <p>1CA afgeronde getal</p> <p>AO</p> <p>(4)</p>	D L3
1.5.1	<p>P (Bloedgroep tipe O)</p> <p>✓RT = $(39 + 6)\%$</p> <p>= 45% OF $\frac{9}{20}$ OF 0,45 ✓A</p>	<p>1RT korrekte twee waardes</p> <p>1A bereken waarskynlikheid (2)</p>	P L2
1.5.2	<p>AB⁺ ✓✓A</p>	<p>2A korrekte bloedgroep (2)</p>	P L2
1.5.3	<p>✓O</p> <p>Nee, dit is NIE die waarskynlikste nie.</p> <p>Kan slegs bloed ontvang van eie bloedgroep. ✓✓O</p> <p>OF</p> <p>$P_{(O^- \text{ bloed ontvang van enige skenker})}$ = $\frac{1}{8}$ ✓A = $\frac{1}{8}$ ✓A</p> <p>\therefore Dit is NIE die waarskynlikste nie. ✓O</p>	<p>1O verifiëring</p> <p>2O verduideliking</p> <p>OF</p> <p>1A teller 1A noemer</p> <p>1O verifiëring</p> <p>(3)</p>	P L4
		[40]	

Vraag	Oplossing	Verduideliking	O/V
	<p style="text-align: center;">OF</p> <p><u>Binneland</u></p> <p>Koste / 100 km = 7,3 ℓ × R12,32/ ℓ = R89,94 ✓M</p> <p>Aantal 100km afstande = 1250 km ÷ 100 km = 12,5</p> <p>Koste = 12,5 × R89,94 = R1 124,20 ✓A</p> <p><u>Kus</u></p> <p>Koste / 100 km = 7,3 l × R11,94 = R87,16</p> <p>Aantal 100 km afstande = 1250 km ÷ 100 km = 12,5</p> <p>Koste = 12,5 × R89,94 = R1 089,53 ✓A</p> <p>Verskil = R1 124,50 – R1 089,53 = R34,67 ✓M</p> <p>Bewering is NIE geldig nie. ✓O</p> <p style="text-align: center;">OF</p> <p>Verskil = R12,32 – R11,94 = R0,38 ✓M</p> <p>Aantal 100 km afstande = 1 250 km ÷ 100 km = 12,5</p> <p>Koste = R0,38^{✓M} × 7,3 × 12,5^{✓M} = R34,68 ✓A</p> <p>Bewering is NIE geldig. ✓O</p>	<p style="text-align: center;">OF</p> <p>1M berekening met die verbruikskoers</p> <p>1A koste</p> <p>1A koste</p> <p>1M verskil</p> <p>1O verifiëring</p> <p>OF</p> <p>1M verskil</p> <p>1M vermenigvuldig met verbruikskoers</p> <p>1M vermenigvuldig met 12,5</p> <p>1A koste</p> <p>1O verifiëring</p> <p>NPR</p> <p style="text-align: right;">(5)</p>	
2.2.1	<p style="text-align: center;">^{✓M}</p> $\% \text{ verhoging} = \frac{R70,9 \text{ miljard} - R54 \text{ miljard}}{R54 \text{ miljard}} \times 100\% \quad \checkmark A$ <p style="text-align: center;">$\approx 31,296\% \quad \checkmark CA$</p> <p style="text-align: center;">OF</p> $\frac{R70,9 \text{ miljard}}{R54 \text{ miljard}} \times 100\% = 131,2962\% \quad \checkmark A$ <p style="text-align: center;">$\% \text{ verhoging} = 131,2962\% - 100\%$</p> <p style="text-align: center;">$\approx 31,296\% \quad \checkmark CA$</p> <p style="text-align: center;">OF</p> <p>Gebruik Probeer- en - verbeter:</p> $R54 \text{ miljard} \times 31,3\% = R16,9 \text{ miljard} \quad \checkmark M \quad \checkmark A$ <p style="text-align: center;">$R16,9 \text{ miljard} + R54 \text{ miljard} = R70,9 \text{ miljard}$</p> <p style="text-align: center;">$\therefore \% \text{ verhoging} = 31,3\% \quad \checkmark CA$</p>	<p>1M % verhoging</p> <p>1A korrekte waardes</p> <p>1CA persentasie</p> <p style="text-align: center;">OF</p> <p>1M % verhoging</p> <p>1A korrekte waardes</p> <p>1CA persentasie</p> <p style="text-align: center;">OF</p> <p>1M % berekening</p> <p>1A verhoging bedrag</p> <p>1CA persentasie</p> <p>NPR</p> <p style="text-align: right;">(3)</p>	F L2

Vraag	Oplossing	Verduideliking	O/V
2.3.4	<p>Indië: Gemiddelde daaglikse loon = $\frac{236,51}{93,76\%}$ ✓RT $\approx 252,25$ Roebel ✓MA ✓A</p> <p>SA: Gemiddelde daaglikse loon = $\frac{237,35}{26,20\%}$ $\approx 905,92$ Roebel ✓A</p> <p>Verskil = $(905,92 - 252,25)$ Russiese Roebel ✓M $= 653,67$ Russiese Roebel ✓CA</p>	<p>1RT aflees van beide waardes 1MA deling deur % 1A Indiese dagloon</p> <p>1A SA dagloon</p> <p>1M aftrekking 1CA verskil in Roebel (6)</p>	F L3
2.3.5	<p>Variasiewydte = $425,52 - 21,44$ ✓A $= 404,08$ Russiese Roebel</p> <p>1 Russiese Roebel = 0,016 Euro ✓M $\therefore 404,08$ Russiese Roebel = $404,08 \times 0,016$ Euro $= 6,46528$ Euro ✓C</p> <p>1 Suid-Afrikaanse Rand = 0,070 Euro</p> <p>$\therefore \frac{6,46528}{0,07} = R92,36$ ✓C ✓A</p> <p>Leerling se oplossing is nie korrek nie. ✓O</p> <p style="text-align: center;">OF</p> <p>1 Russiese Roebel = $\frac{0,016}{0,070}$ Rand ✓C $= R 0,2285714286$ ✓A</p> <p>Variasiewydte = $425,52 - 21,44$ ✓A $= 404,08$ Russiese Roebel $= 404,08 \times 0,2285714286$ Rand/Roebel ✓C $= R92,36$ ✓A</p> <p>Leerling se oplossing is nie korrek nie. ✓O</p> <p style="text-align: center;">OF</p> <p>Maks. waarde in Rand: $425,52 \times 0,016 \div 0,07 = R97,26$ ✓C ✓CA Min. waarde in Rand: $21,44 \times 0,016 \div 0,07 = R4,90$ ✓CA Variasiewydte = $R97,26 - R4,90 = R92,36$ ✓M ✓CA</p> <p>Leerling se oplossing is nie korrek nie. ✓O</p>	<p>1A variasiewydte</p> <p>1M vermenigvuldiging</p> <p>1C herlei na Euro</p> <p>1C herlei na rand 1A randwaarde</p> <p>1O verifiëring</p> <p style="text-align: center;">OF</p> <p>1C deling met 0,07</p> <p>1A herleidingsfaktor</p> <p>1A variasiewydte</p> <p>1C herleiding</p> <p>1A randwaarde</p> <p>1O verifiëring</p> <p style="text-align: center;">OF</p> <p>1C herleiding 1CA maks waarde</p> <p>1CA min waarde 1M aftrekking 1CA randwaarde 1O verifiëring NPR (6)</p>	D L4
		(6)	
		[37]	

VRAAG 3 [40 PUNTE]			
Vraag	Oplossing	Verduideliking	O/V
3.1.1	\checkmark^A Kwelastraat 33 $\checkmark\checkmark^A$	2A korrekte nommer 1A korrekte straat (3)	MP L2
3.1.2	Lengte 22 mm \checkmark^A (21 mm tot 23 mm) Breedte 9 mm \checkmark^A (8 mm tot 10 mm) Skaal $25 \checkmark^A \text{ mm} = 30 \text{ m}$ (24 mm tot 26 mm) $\therefore \text{Lengte} = \frac{30}{25} \times 22 \text{ m} \checkmark^M$ $= 26,4 \text{ m} \checkmark^{CA}$ Breedte = $9 \times \frac{30}{25} \text{ m} = 10,8 \text{ m} \checkmark^{CA}$ <p style="text-align: center;">OF</p> Skaal: $25 \checkmark^A \text{ mm} : 30 \text{ m}$ (24 mm tot 26 mm) $25 \text{ mm} : 30\,000 \text{ mm}$ $1 : 1\,200 \checkmark^M$ Lengte = 22 mm \checkmark^A (21 mm tot 23 mm) Breedte = 9 mm \checkmark^A (8 mm tot 10 mm) Werklike lengte = $22 \times 1\,200 \text{ mm}$ $= 26\,400 \text{ mm} = 26,4 \text{ m} \checkmark^{CA}$ Werklike breedte = $9 \times 1\,200 \text{ mm}$ $= 10\,800 \text{ mm} = 10,8 \text{ m} \checkmark^{CA}$	1A lengte 1A breedte 1A gemete skaal 1M gebruik die skaalfaktor 1CA lengte in m 1CA breedte in m <p style="text-align: center;">OF</p> 1A gemete skaal 1M eenheidskaal 1A lengte 1A breedte 1CA lengte in m 1CA breedte in m (6)	M L3
3.1.3	Op die vergrote kaart : \checkmark^{MCA} Gemete lengte = 62 mm (61mm tot 64 mm) $\checkmark^M \checkmark^{CA}$ Geskaalde lengte = $62 \text{ mm} \div 5 = 12,4 \text{ mm} \neq 22 \text{ mm}$ \therefore NIE geldig nie \checkmark^O <p style="text-align: center;">OF</p> Op die vergrote kaart: Gemete breedte = 24 mm (23 mm tot 26 mm) $\checkmark^M \checkmark^{CA}$ Geskaalde breedte: $9 \text{ mm} \times 5 = 45 \text{ mm} \neq 24 \text{ mm}$ \therefore NIE geldig nie \checkmark^O <p style="text-align: center;">OF</p>	<p>CA vanaf Q3.1.2</p> 1MCA gemete lengte 1M deling met 5 1CA vereenvoudiging 1O verifiëring <p style="text-align: center;">OF</p> 1A gemete lengte 1M vermenigvuldig met 5 1CA vereenvoudiging 1O verifiëring	MP L4

Vraag	Oplossing	Verduideliking	O/V
	<p style="text-align: center;">OF</p> <p>Op die vergrote kaart: Gemete lengte = 62 mm ✓^A (61mm tot 64 mm) Gemete breedte = 24 mm (23 mm tot 26 mm)</p> <p style="text-align: center;">Skaal faktor = $\frac{62}{22}$ ✓^M OF breedte = $\frac{24}{9}$ $\approx 2,82$ ✓^{CA} $\approx 2,67$</p> <p>∴ NIE geldig nie ✓^O</p>	<p style="text-align: center;">OF</p> <p>1A afmetings 1M deling 1CA skaal faktor 1O verifiëring</p> <p style="text-align: right;">(4)</p>	
3.2.1	<p style="text-align: center;">✓^{MA}</p> <p>Lengte = 5 240 mm – 2 × 220 mm = 4 800 mm ✓^{CA}</p> <p>Breedte = 4 040 mm – 2 × 220 mm = 3 600 mm ✓^{CA}</p> <p style="text-align: center;">✓^{MCA}</p> <p>Vloeroppervlakte = 4 800 mm × 3 600 mm = 17 280 000 mm² = 17 280 000 ÷ 1 000 000 ✓^C = 17,28 m² ✓^{CA}</p> <p style="text-align: center;">OF</p> <p>Lengte = 5 240mm = 5,24m ✓^C Breedte = 4 040mm = 4,04m Muur dikte = 220mm = 0,22m</p> <p style="text-align: center;">✓^{MA}</p> <p>Binne Lengte = 5,24m – 2(0,22m) = 4,8m ✓^{CA} Binne Breedte = 4,04m – 2(0,22m) = 3,6m ✓^{CA}</p> <p style="text-align: center;">✓^{MCA}</p> <p>Vloeroppervlakte = 4,8 m × 3,6 m ✓^{MCA} = 17,28m² ✓^{CA}</p>	<p>1MA aftrekking van diktes 1CA binne lengte</p> <p>1CABinne breedte 1MCA vervanging</p> <p>1C herleiding 1CA binne oppervlakte in m² OF</p> <p>1C herleiding van al die waardes</p> <p>1MA aftrekking van diktes 1CA lengte 1CA breedte</p> <p>1MCA vervanging 1CA binne oppervlakte in m²</p> <p style="text-align: right;">(6)</p>	M L3
3.2.2	<p style="text-align: center;">✓^{SF}</p> <p>Oppervlakte van plafonbord = 2 400 mm × 900 mm = 2 160 000 mm² ✓^A</p> <p>Aantal plafonborde benodig = $\frac{17\,280\,000}{2\,160\,000}$ ✓^M = 8 ✓^{CA}</p> <p>∴ Benodig meer as 7 ✓^O</p> <p style="text-align: center;">OF</p> <p>Aantal benodig = 4 800 mm ÷ 2 400 mm ✓^M = 2 vir lengte ✓^{CA}</p> <p>Aantal benodig = 3 600 mm ÷ 900 mm = 4 vir breedte ✓^{CA}</p> <p>Totaal benodig = 2 × 4 = 8 ✓^{CA}</p> <p>∴ Benodig meer as 7 ✓^O</p> <p style="text-align: center;">OF</p>	<p>CA vanaf V3.2.1 1SF vervanging 1A oppervlakte van bord</p> <p>1M deling 1CA aantal borde 1O afleiding</p> <p style="text-align: center;">OF</p> <p>1M deling 1CA aantal lengtegewys 1CA aantal breedtegewys 1CA aantal borde</p> <p>1O afleiding</p>	M L4

Vraag	Oplossing	Verduideliking	O/V
	<p style="text-align: center;">OF</p> <p>Oppervlakte een plafonbord = $2,4 \text{ m} \times 0,9 \text{ m} = 2,16 \text{ m}^2$ ✓SF</p> <p>Totale opperv. van 7 borde = $2,16 \text{ m}^2 \times 7 = 15,12 \text{ m}^2$ ✓A₂</p> <p>∴ Benodig meer as 7 ✓O</p>	<p>1SF vervanging 1A oppervlakte van bord</p> <p>1M vermenigvuldig 1CA totale oppervlakte</p> <p>1O afleiding</p> <p style="text-align: right;">(5)</p>	<p>M L4</p>
3.2.3	<p>Lengte van kroonlys = $2 \times (4 \text{ 800 mm} + 3 \text{ 600 mm})$ ✓CA</p> <p style="text-align: center;">= 16 800 mm ✓SF</p> <p style="text-align: center;">= 16 800 mm ✓CA</p>	<p>1CA waardes vanaf V 3.2.1 of RT indien oor uitgewerk</p> <p>1SF vervanging 1CA lengte</p> <p style="text-align: right;">(3)</p>	<p>M L2</p>
3.2.4	<p>$16 \text{ 800} \div 2 \text{ 000} = 8,4$</p> <p>Gevolglik 9 lengtes kroonlys nodig. ✓CA</p> <p>Totale koste = $8 \times \text{R}91,44 + 9 \times \text{R}53,64$ ✓A</p> <p style="text-align: center;">= R731,52 + R482,76 ✓M</p> <p style="text-align: center;">= R1 214,28 ✓CA</p> <p>Die bewering is korrek. ✓O</p>	<p>CA vanaf Q3.2.3 en Q3.2.2</p> <p>1CA aantal lengtes</p> <p>1A gebruik 2 korrekte pryse 1M vermenigvuldig 1CA koste</p> <p>1O gevolgtrekking</p> <p style="text-align: right;">(5)</p>	<p>F L4</p>
3.3.1	<p>Bogronde is 'n hoër sekerheidsrisiko ✓✓O</p> <p>OF Veiligheidsredes ✓✓O</p> <p>OF Ondergronds sal die koste minder wees. ✓✓O</p> <p>OF Bogronde sal dit meer plek opneem. ✓✓O</p> <p>OF Water bly koeler/varser ondergronds as wat dit in die direkte son sal staan / verminder verdamping.</p> <p>OF Skoonheid redes. ✓✓O</p> <p>OF Ondergronds kan water makliker daarin vloei. ✓✓O</p> <p>OF Minder onderhoud ✓✓O</p>	<p>2O rede</p> <p style="text-align: right;">(2)</p>	<p>MP L4</p>

Vraag	Oplossing	Verduideliking	O/V
3.3.2	$8\ 000\ \ell = 8\ 000\ 000\ \text{cm}^3$ $= 8\ \text{m}^3 \quad \checkmark\text{C}$ <p>Volume van silindriese tenk = $\pi \times \text{radius}^2 \times \text{lengte}$</p> $8\ \text{m}^3 = 3,142 \times \text{radius}^2 \times 2,9\ \text{m} \quad \checkmark\text{SF}$ $(\text{radius})^2 = \frac{8\ \text{m}^3}{3,142 \times 2,9\ \text{m}} \quad \checkmark\text{A}$ $= 0,87798239\dots \checkmark\text{S}$ $\text{Radius} = \sqrt{0,87798239}$ $\approx 0,937\ \text{m} \quad \checkmark\text{CA}$ <p>Middellyn = 1,874 m $\checkmark\text{CA}$</p> <p style="text-align: center;">OF</p> <p>Volume van silindriese tenk = $\pi \times \text{radius}^2 \times \text{lengte}$</p> $8\ 000\ 000\ \text{cm}^3 = 3,142 \times \text{radius}^2 \times 290\ \text{cm} \quad \checkmark\text{SF}$ $(\text{radius})^2 = \frac{8\ 000\ 000\ \text{cm}^3}{3,142 \times 290\ \text{cm}} \quad \checkmark\text{A}$ $= 8\ 779,8239\dots \checkmark\text{S}$ $\text{Radius} = \sqrt{8779,8239}$ $\approx 93,7\ \text{cm} \quad \checkmark\text{CA}$ <p>Middellyn = 187,4 cm $\checkmark\text{CA}$</p> $= 1,874\ \text{m} \quad \checkmark\text{C}$	<p>1C herleiding</p> <p>1SF vervanging</p> <p>1A verander onderwerp van formule</p> <p>1S vereenvoudiging</p> <p>1CA radius</p> <p>1CA middellyn</p> <p style="text-align: center;">OF</p> <p>1SF vervanging</p> <p>1A verander onderwerp van formule</p> <p>1S vereenvoudiging</p> <p>1CA radius</p> <p>1CA verdubbel radius</p> <p>1C herleiding tot m NPR</p>	<p>M L3</p> <p style="text-align: right;">(6)</p>
			[40]

VRAAG 4 [33 PUNTE]			
Vraag	Oplossing	Verduideliking	O/V
4.1.1	<p>Dineo se maksimum windspoed is 95 (MPU)</p> $95 \text{ MPU} = \frac{80,4672}{50} \times 95 \text{ km/uur} \quad \checkmark C$ $= 152,887... \text{ km/uur} \quad \checkmark CA$ $\approx 152,89 \text{ km/uur} \quad \checkmark R$ <p style="text-align: center;">OF</p> <p>50 myl = 80,4672 km 1 myl = 1,609344 km</p> $95 \text{ MPU} = 95 \times 1,609344 \text{ km/uur} \quad \checkmark C$ $= 152,88768 \text{ km/uur} \quad \checkmark CA$ $\approx 152,89 \text{ km/uur} \quad \checkmark R$ <p style="text-align: center;">OF</p> <p>95 myl – 50 myl = 45 myl 50 myl = 80,4672 km 45 myl = x km x km = 80,4672 km × 45 myl ÷ 50 myl = 72,4205 km $\checkmark C$</p> <p>Totale afstand = 80,4672 km + 72,4205 km = 152,887 km $\checkmark CA$</p> <p>∴ 95 MPU = 152,89 km/uur $\checkmark R$</p>	<p>1C herleiding</p> <p>1CA vereenvoudiging</p> <p>1R afronding</p> <p style="text-align: center;">OF</p> <p>1C herleiding</p> <p>1CA vereenvoudiging</p> <p>1R afronding</p> <p style="text-align: center;">OF</p> <p>1C herleiding</p> <p>1CA vereenvoudiging</p> <p>1R afronding</p> <p>AO</p> <p style="text-align: right;">(3)</p>	M L2
4.1.2	<p>Gemete afstand tussen koördinaatlyne is 17 mm $\checkmark A$</p> <p>Gemete afstand tussen P en Q is 39 $\checkmark A$</p> $\text{Werklike afstand} = \frac{205,043 \text{ km} \quad \checkmark M}{17 \text{ mm}} \times 39 \text{ mm} \quad \checkmark MCA$ $\approx 470,39 \text{ km} \quad \checkmark CA$ <p>Afstand = Gem. spoed × tyd</p> $\text{Gem. spoed} = \frac{470,39 \text{ km} \quad \checkmark S}{24 \text{ uur}} \quad \checkmark SF$ $\approx 19,56 \text{ km/uur} \quad \checkmark CA$ <p>(Aanvaar 16 mm tot 18 mm vir koördinaatlyne en 38mm tot 42mm vir PQ afstand)</p> <p style="text-align: center;">OF</p>	<p>1A afstand tussen koördinaatlyne</p> <p>1A afstand P tot Q</p> <p>1M gebruik skaal</p> <p>1MCA gebruik korrekte waardes</p> <p>1CA werklike afstand</p> <p>1S verander die onderwerp van die formule</p> <p>1SF vervanging</p> <p>1CA gem. spoed</p> <p>NPR</p> <p style="text-align: right;">(8)</p>	M&P L3 (5) Meas L3 (3)

Vraag	Oplossing	Verduideliking	O/V
	<p style="text-align: center;">OF</p> <p>App. afstand vanaf P tot Q is $2\frac{1}{3}$ koördinaatlyne ^{✓✓A}</p> <p>Afstand = $2\frac{1}{3} \times 205,043$ km ^{✓M ✓A}</p> <p style="padding-left: 40px;">= 478,4336667 km ^{✓CA}</p> <p>Afstand = Gem. spoed \times tyd</p> <p>$478,4336667$ km = Gem. spoed \times 24 uur ^{✓SF}</p> <p style="padding-left: 40px;">Gem. spoed \approx 19,93 km/uur ^{✓CA ✓S}</p> <p>(Aanvaar $2\frac{1}{6}$ tot by $2\frac{1}{3}$)</p> <p style="text-align: center;">OF</p> <p>18 mm ^{✓A} = 205,043</p> <p style="padding-left: 40px;">1 mm = 11,39 ^{✓M}</p> <p>Gemete afstand vanaf die koördinaatlyn tot Q is 3 mm ^{✓A} (2 tot 4)mm</p> <p>Afstand vanaf P tot Q ^{✓M}</p> <p style="padding-left: 40px;">= $205,043 + 205,043 + 3 \times 11,39$</p> <p style="padding-left: 40px;">= 444,256 km ^{✓CA}</p> <p>Gem. spoed = $\frac{444,256 \text{ km}}{24 \text{ uur}}$ ^{✓SF ✓S}</p> <p style="padding-left: 40px;">\approx 18,51 km/uur ^{✓CA}</p>	<p>2A afstand P tot Q 1M vermenigvuldig 1A gebruik korrekte waardes 1CA werklike afstand</p> <p>1SF vervanging 1S verander onderwerp van formule 1CA gem. spoed</p> <p style="text-align: center;">OF</p> <p>1A afstand tussen koördinaatlyne 1M eenheidskaal 1A afstand tot Q</p> <p>1M gebruik skaal 1CA werklike afstand</p> <p>1SF vervanging 1S verander onderwerp van formule 1CA gem. spoed NPR</p> <p style="text-align: right;">(8)</p>	
4.2.1	10 ^{✓✓RT}	2RT korrekte waarde (2)	D L2

Vraag	Oplossing	Verduideliking	O/V																																			
4.2.2	<p style="text-align: center;">Totale getal storms per jaar vir wêreld-oseaanstreke</p> <table border="1" style="margin-top: 10px;"> <caption>Data from the storm count graph</caption> <thead> <tr> <th>Jaar</th> <th>Indiese (dashed)</th> <th>Oostelike Stille (dashed)</th> <th>Noord Atlanties (solid)</th> <th>Westelike Stille (solid)</th> </tr> </thead> <tbody> <tr> <td>2015</td> <td>8</td> <td>31</td> <td>12</td> <td>39</td> </tr> <tr> <td>2014</td> <td>8</td> <td>23</td> <td>9</td> <td>30</td> </tr> <tr> <td>2013</td> <td>10</td> <td>21</td> <td>13</td> <td>52</td> </tr> <tr> <td>2012</td> <td>5</td> <td>17</td> <td>19</td> <td>34</td> </tr> <tr> <td>2011</td> <td>10</td> <td>13</td> <td>19</td> <td>40</td> </tr> <tr> <td>2010</td> <td>12</td> <td>12</td> <td>21</td> <td>19</td> </tr> </tbody> </table> <p>1A vir eerste punt 2A vir die volgende 4 punte korrek gestip 1A vir die laaste punt 1CA verbind die punte om 'n gebroke lyngrafiek te vorm</p> <p style="text-align: right;">(5)</p>	Jaar	Indiese (dashed)	Oostelike Stille (dashed)	Noord Atlanties (solid)	Westelike Stille (solid)	2015	8	31	12	39	2014	8	23	9	30	2013	10	21	13	52	2012	5	17	19	34	2011	10	13	19	40	2010	12	12	21	19		D L2
Jaar	Indiese (dashed)	Oostelike Stille (dashed)	Noord Atlanties (solid)	Westelike Stille (solid)																																		
2015	8	31	12	39																																		
2014	8	23	9	30																																		
2013	10	21	13	52																																		
2012	5	17	19	34																																		
2011	10	13	19	40																																		
2010	12	12	21	19																																		
4.2.3	Noord-Atlanties ✓✓RT	2RT korrekte streek	D L2 (2)																																			

Vraag	Oplossing	Verduideliking	O/V
4.2.4	<p>Westelike Stille Oseaan: ✓A Totale aantal storms = 39 + 30 + 52 + 34 + 40 = 195 Skade in miljoen VSD ✓RT = 10 200 + 8 410 + 22 800 + 6 080 + 10 600 = 58 090 ✓MCA</p> <p>Noord-Atlanties: Totale storms = 12 + 9 + 13 + 19 + 19 = 72 ✓CA Skade in miljoen VSD ✓RT = 590 + 232 + 1510 + 75 000 + 21 000 = 98 332 ✓CA</p> <p>NIE geldig bewering, ✓O</p> <p>Westelike Stille Oseaan het die meeste storms maar, die Noord Atlanties het die grootste bedrag van skade. ✓✓O</p>	<p>1A aantal storms in WS 1RT gebruik waardes vanaf tabel 1MCA optelling</p> <p>1CA aantal storms in NA 1RT gebruik slegs waardes tot 2011 1CA bedrag skade</p> <p>1O nie geldig</p> <p>2O rede</p>	<p>D (4) F(4) L4</p>
4.3	<p>Groeikoers per 1 000 = 38,3 – 11,9 – 1,9 ✓MA = 24,5 ✓CA</p> <p>∴ persentasie groeikoers = $\frac{24,5}{1000} \times 100\%$ ✓MCA = 2,45% ✓CA</p> <p style="text-align: center;">OF</p> <p>Persentasie groeikoers $= \left(\frac{38,3}{1000} - \frac{11,9}{1000} - \frac{1,9}{1000} \right) \times 100\%$ ✓MA ✓M $= \frac{24,5}{1000} \times 100\%$ ✓CA = 2,45% ✓CA</p>	<p>1MA aftrekking van koerse 1CA groeikoers 1MCA bereken persentasie (÷1 000 ×100)</p> <p>1CA vereenvoudiging</p> <p style="text-align: center;">OF</p> <p>1MA aftrekking van koerse 1M bereken persentasie</p> <p>1CA groeikoers 1CA vereenvoudiging</p> <p>AO</p>	<p>D L2</p>
		(9)	
			(4)
			[33]
		TOTAAL :150	